

SCHOOL BASED ASSESSMENT 2023
MODEL PAPER
GRADE 3
ENGLISH PART – B (Subjective Type)



[Part A: 50 Marks Part B: 50 Marks Total: 100 Marks]

School : _____
Tehsil : _____ District: _____

Student Name : _____ Section : _____

Roll Number : _____ Date : _____

General Instructions for students :

1. Read carefully and attempt all questions.
2. A question can consist of one or more parts.
3. Use black/blue ink for writing answers in separate answer sheet. Use of lead pencil is not allowed.

Total Marks: 50

Part-B (Constructed Response Questions)


Total Time: 1 Hour 45 Minutes

Question No.1 : Write numbers from 81 to 100 in words. Marks (10)

Question No.2 : Look at the picture and write five nouns and five verbs. (Marks 10)

Nouns: _____

Verbs: _____



Question No.3 : You have shifted to your new house. You want to celebrate this event. Make an invitation card and invite your friends/ relatives to see your house. Write the following information. Marks (10)

For: _____

Where: _____

Date: _____

Time: _____

RSVP: _____

Question No.4 : Look at the picture and write answers of the following questions. Use correct grammar, punctuation and spelling. Marks (10)

1. Give a title to the picture. Marks (2)
2. How many children are there? Marks (2)
3. Where are they? Marks (2)
4. What are they doing? Marks (2)
5. How many birds are flying? Marks (2)



Question No.5 : Listenening and Speaking Question: Marks (10)

Instructions for the Students

Read the following questions carefully.

1. What type of habit "flying kites" is? Marks (5)
2. What do children waste? Marks (5)
3. What do children forget? Marks (5)
4. Where do children fall from? Marks (5)
5. Where do children run? Marks (5)

Note: Cut the paper from here ✂-----

Teacher's Copy

Instructions for the Teacher:

- The listening and speaking paper will be conducted in groups one by one. The teacher will ask the students to read all the questions given with "Instructions for the Students" before reading the paragraph.
- The teacher will divide the class into groups with an equal number of students. Preferably make groups of 4 to 5 students.
- For each group, the teacher will read the following paragraph twice in front of the students.
- Then the teacher will call the students one by one and ask any two of the following questions.
- The teacher will shuffle the questions for each student.
- The teacher will make sure to not repeat questions on consecutive students.

Reading Paragraph Text for the Teacher:

Flying kites is a bad habit. Children waste their time and money. They forget to eat food. They may fall from the roofs. They run on the roads to catch the kite. Sometimes, cars hit them.

Questions:

1. What type of habit "flying kites" is? Marks (5)
2. What do children waste? Marks (5)
3. What do children forget? Marks (5)
4. Where do children fall from? Marks (5)
5. Where do children run? Marks (5)

Sample Answers:

1. Flying kites is a bad habit.
2. Childern waste their time and money.
3. They forget to eat their food.
4. The childern fall from the roofs.
5. They run on the roads.

Award of marks:


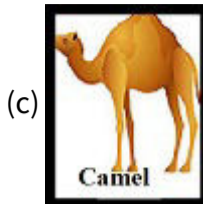
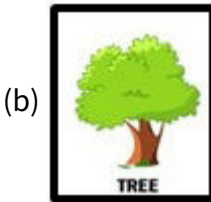
- Each question carries = Marks (5)
- If the answer is correct, award 5 marks.
- If the answer is partially correct, award 3 marks.
- If the answer is incorrect or irrelevant, award 0 marks.

Note: Make an award list according to the given sample and record the results on that sheet.

Grade 3		Punjab Examination Commission (Award List of listening and Speaking Questions)				
District:		Cluster Center:		Item Code:	24365	
Tehsil:		Exam Center:		Date:		
Roll No.	Student Name	Question Number	Obtained Marks(05)	Question Number	Obtained Marks (05)	Total Marks (10)
1						
2						
3						
4						
5						
6						
7						
8						
9						
10						

Question No.5 :

Choose the correct image of neuter gender from the following.



Question No.6 :

Fill in the blank with the correct letter.

"I and my sister are reading n___wspaper."

(a) e

(b) a

(c) i

(d) o

Question No.7 :

How many syllables are there in the word "Minimum"?

(a) Two

(b) Three

(c) Four

(d) Five

Question No.8 :

Which of the following sentences expresses sadness?

(a) I have not lost my pen.

(b) Alas! I have lost my pen.

(c) Hurrah! I have lost my pen.

(d) Have I lost my pen?

Question No.9 :

Divide "Develop" into syllables.

(a) De-v-elop

(b) De-ve-lop

(c) De-vel-op

(d) Dev-el-op

Question No.10 :

Choose the correct pair with the hard "c" sound.

(a) City-Cold

(b) Coat-Voice

(c) Twice-Cook

(d) Cross-Class

Question No.11 :

What does the given signboard say?

(a) Turn right

(b) Turn left

(c) No left turn

(d) No right turn



Question No.12 :

In which option we can write article "A" before it?

(a) Feet

(b) Buses

(c) Door

(d) Mice

Question No.13 :

"Ali did not _____ money to buy new shoes."

(a) has

(b) have

(c) does

(d) do

Question No.14 :

"The boy was _____ on a board."

(a) draws

(b) drawing

(c) draw

(d) drawn



Question No.15 :

Identify the joining word.

"I and my friend go to school together."

(a) and

(b) my

(c) go

(d) to

Question No.16 :

Choose the correct capitalized word to fill in the blank.

"I will go to _____ with my friends."

(a) Germany

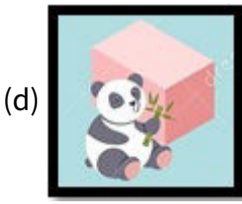
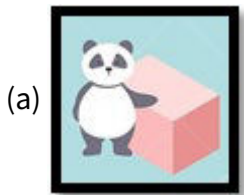
(b) gerMANY

(c) GERmany

(d) gERMANY

Question No.17 : Choose the position mentioned in the sentence.

“The panda is jumping out of the box.”



Question No.18 : Which sentence structure is correct for picture description?

- (a) Cricket is the boy playing.
- (b) The boy is playing cricket.
- (c) Cricket is playing the boy.
- (d) Is playing cricket the boy.



Question No.19 : What should you say if someone says goodbye to you?

- (a) I am fine.
- (b) Always welcome.
- (c) See you later.
- (d) I am sorry.

Question No.20 : "Oxygen is _____ basic need."

- (a) our
- (b) him
- (c) you
- (d) she

Question No.21 : How will you ask your mother if you want to eat the biscuits?

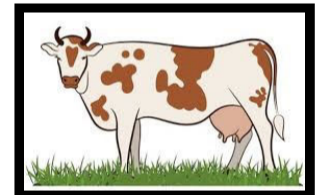
- (a) Please, give me the biscuits.
- (b) I don't like the biscuits.
- (c) Thank you for the biscuits.
- (d) You didn't give me the biscuits.



Paragraph Instruction

Read the following paragraph carefully and answer the questions given below.

A cow is a useful farm animal. Its color is black, white or brown. Its young one is called a calf. It eats grass. It provides us with milk and meat. Milk is a wholesome food. We make cheese and butter from its milk. Its meat is a good source of protein. We make many tasty dishes from its meat. We use its skin to make shoes and bags.



Question No. 22 : What is the paragraph about?

- (a) Cow
- (b) Meat
- (c) Milk
- (d) Calf

Question No.23 : What does a cow eat?


- (a) Butter
- (b) Cheese
- (c) Meat
- (d) Grass

Question No.24 : Which of the following is a farm animal?

- (a) Lion
- (b) Tiger
- (c) Cat
- (d) Cow

Question No.25 : What can be made from the milk?


(a) Juice and rice



(b) Cake and honey



(c) Butter and cheese



(d) Bread and jam



SCHOOL BASED ASSESSMENT 2023

MODEL PAPER

GRADE 3

GENERAL KNOWLEDGE PART – B (Subjective Type)

[Paper A: 50 Marks, Paper B: 50 Marks, Total: 100 Marks]



School : _____
Tehsil : _____ District: _____

Student Name : _____ Section : _____

Roll Number : _____ Date : _____

General Instructions for students :

طلبا کے لیے عمومی ہدایات:

1. Use separate answer sheet for writing answers and give your personal information on it as well.
۱۔ جوابات لکھنے کے لیے علیحدہ سے جوابی کاپی کا استعمال کریں اور اس کے اوپر بھی اپنے بارے میں معلومات دیں۔
2. Read carefully and attempt all questions.
۲۔ غور سے پڑھیں اور تمام سوالات حل کریں۔
3. A question can consist of one or more parts.
۳۔ ایک سوال ایک یا ایک سے زیادہ حصوں پر مشتمل ہو سکتا ہے۔
4. Use black/blue ink for writing answers. Use of lead pencil is not allowed.
۴۔ جواب لکھنے کے لیے کالی / نیلی روشنائی کا استعمال کریں۔ کچی پنسل کے استعمال کی اجازت نہیں ہے۔

Total Marks: 50

Part-B (Constructed Response Questions)

Total Time: 1 Hour 45 Minutes

Question No: 1

سوال نمبر 1

a) Differentiate between ecosystem and adaptation. (2 Marks)

(a) ماحولیاتی نظام اور مطابقت کے درمیان فرق کریں۔ (2)

b) Write down the names of four animals living in aquatic habitat. (4 Marks)

(b) آبی مسکن میں رہنے والے چار جانوروں کے نام لکھیں۔ (4)

c) Write down the name of any four basic food groups. (4 Marks)

(c) کوئی سے چار بنیادی کھانے کے گروہوں کے نام لکھیں۔ (4)

Question No: 2

سوال نمبر 2

a) Define matter. Give its one example. (2+1=3 Marks)


(a) مادہ کی تعریف کریں۔ اس کی ایک مثال دیں۔ (3)

b) Differentiate between gas and solid state of matter on the basis of shape and volume with appropriate examples. (4 Marks)

(b) مناسب مثالوں کے ساتھ شکل اور حجم کی بنیاد پر مادے کی گیس اور ٹھوس حالت میں فرق بیان کریں۔ (4)

c) Look at the picture given below and label the three physical states of water. (3 Marks)

(c) ذیل میں دی گئی تصویر دیکھیں اور پانی کی تین طبعی حالتوں کو لیبل کریں۔ (3)



Question No: 3

سوال نمبر 3

a) What is meant by resources? (2 Marks)

(a) وسائل سے کیا مراد ہے؟ (2)

b) Differentiate between natural resources and human resources. (2 Marks)

(b) قدرتی وسائل اور انسانی وسائل میں فرق واضح کریں۔ (2)

c) How many types of resources are there? Describe each type with examples. (6 Marks)

(c) وسائل کی کتنی اقسام ہیں؟ ہر قسم کو مثالوں کے ساتھ بیان کریں۔ (6)

Question No: 4

سوال نمبر 4

a) Define invention. (2 Marks)

(a) ایجاد کی تعریف لکھیں۔ (2)

b) How has internet changed the world? (3 Marks)

(b) انٹرنیٹ نے دنیا کو کیسے بدل دیا ہے؟ (3)

c) Identify the modern invention shown in the picture below. Also write any four uses of it. (1+4 = 5 Marks)

(c) درج ذیل تصویر میں دکھائی گئی جدید ایجاد کی شناخت کریں۔ اس کے کوئی سے چار استعمالات بھی لکھیں۔ (5)



Question No: 5

سوال نمبر 5

a) What is meant by disaster? (2 Marks)

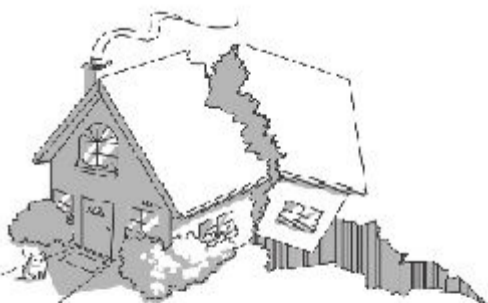
(a) آفت سے کیا مراد ہے؟ (2)

b) Write any three ways of staying safe from the electricity while using the home appliances. (3 Marks)

(b) گھر میں استعمال ہونے والے بجلی کے آلات استعمال کرتے ہوئے بجلی سے حفاظت کے لیے کوئی سی تین تدابیر لکھیں۔ (3)

c) Identify the disasters in the pictures and describe two precautions to save from natural disasters. (5 Marks)

(c) تصاویر میں دی گئی آفات کی نشاندہی کریں اور قدرتی آفات سے بچاؤ کے کوئی سے دو حفاظتی اقدامات بیان کریں۔ (5)



SCHOOL BASED ASSESSMENT 2023

MODEL PAPER

GRADE 3

GENERAL KNOWLEDGE PART – A (Objective Type)

[Paper A: 50 Marks, Paper B: 50 Marks, Total: 100 Marks]



School : _____
Tehsil : _____ District: _____

Student Name : _____ Section : _____
Roll Number : _____ Date : _____

General Instructions for students :

طلباء کے لیے عمومی ہدایات:

1) Use mask & keep at least 3 ft. distance from each other.

۱۔ ماسک پہنیں اور آپس میں کم از کم 3 فٹ کا فاصلہ رکھیں۔

2) Read carefully and attempt all questions.

۲۔ غور سے پڑھیں اور تمام سوالات حل کریں۔

3) Encircle the correct option of each of the Multiple Choice Questions (MCQs) as shown in the example given below.

۳۔ ہر کثیر الانتخابی سوال کے صحیح جواب پر دائرہ لگائیں جیسا کہ نیچے دی گئی مثال میں دکھایا گیا ہے۔

Example : Covid-19 is caused by:

مثال : کووڈ-19 کی وجہ ہے :

a) bacteria بیکیٹیریا

b) fungi فنجائی

c) virus وائرس

d) algae الگی

4) If more than one options are encircled in a question, no mark will be given.

۴۔ اگر کسی سوال میں ایک سے زیادہ جوابات کے گرد دائرہ لگایا گیا تو کوئی نمبر نہیں دیا جائے گا۔

Total Marks: 50

Part-A (Multiple Choice Questions)

Total Time: 1 Hour

Instructions: Twenty-five (25) Multiple Choice Questions (MCQs) are given in this paper. Each question carries two marks.

ہدایات: اس پرچہ میں پچیس (25) کثیر الانتخابی سوالات دیے گئے ہیں۔ ہر سوال کے دو نمبر ہیں۔

Question No.1 : The Sun sets in the:

سوال نمبر 1: سورج کس سمت میں غروب ہوتا ہے؟

(a) East مشرق (b) West مغرب (c) North شمال

(d) South جنوب

Question No.2 : Shadow of which of the following objects is NOT formed?

سوال نمبر 2: مندرجہ ذیل میں سے کس کا سایہ نہیں بنتا؟

(a) Wood لکڑی (b) Cat بلی (c) Water پانی

(d) Chair کرسی

Question No.3 : The size of the image formed is least in the given image. What time is it?

سوال نمبر 3: تصویر میں دکھائے گئے سائے کا سائز سب سے چھوٹا ہے۔ یہ کون سا وقت ہے؟

- (a) Morning
(b) Noon
(c) Evening
(d) Night

صبح
دوپہر
شام
رات



Question No.4 : Boys choose to go to school on bicycle when petrol becomes expensive. What is called the choosing of bicycle?

سوال نمبر 4: پٹرول مہنگا ہونے کی صورت میں لڑکے سائیکل پر سکول جانے کا انتخاب کرتے ہیں۔ سائیکل کا انتخاب کیا کہلائے گا؟

- (a) Adaptation
(c) Economic choice

مطابقت
معاشی انتخاب

- (b) Scarcity
(d) Interdependence

قلت
باہمی انحصار

Question No.5 : Which of the following acts of humans has changed the natural environment negatively?

سوال نمبر 5: مندرجہ ذیل میں سے کس انسانی عمل نے قدرتی ماحول کو منفی طریقے سے تبدیل کیا ہے؟

- (a) Use of alternate energy resource
(c) Deforestation


متبادل توانائی کے وسائل کا استعمال
جنگلات کا کٹاؤ

- (b) Control of air pollution
(d) Plantation

فضائی آلودگی پر قابو
شجرکاری

Question No.6 : Which of the following is an extinct animal?

سوال نمبر 6: درج ذیل سے ناپید جانور کون سا ہے؟




(b)



(c)



(d)



Question No.7 : Which of the following was the first governor general of Pakistan?

سوال نمبر 7: مندرجہ ذیل میں سے کون پاکستان کے پہلے گورنر جنرل تھے؟

- (a) Dr. Allama Muhammad Iqbal
(c) Sir Syed Ahmad Khan

ڈاکٹر علامہ محمد اقبال
سر سید احمد خان

- (b) Quaid-e-Azam Muhammad Ali Jinnah
(d) Chaudhary Rehmat Ali

قائد اعظم محمد علی جناح
چودھری رحمت علی

Question No.8 : Which of the following personality gave the idea of Pakistan?

سوال نمبر 8: مندرجہ ذیل میں سے کس شخصیت نے نظریہ پاکستان کا تصور پیش کیا؟

- (a) Quaid-e-Azam Muhammad Ali Jinnah
(c) Sir Syed Ahmad Khan

قائد اعظم محمد علی جناح
سر سید احمد خان

- (b) Allama Iqbal
(d) Liaquat Ali Khan

علامہ اقبال
لیاقت علی خان

Question No.9 : In the life cycle of a butterfly, what is formed from the egg?

سوال نمبر 9: تتلی کے دور حیات میں انڈے سے کیا بنتا ہے؟

- (a) Tadpole

ٹیڈ پول

- (b) Larva

لاروا

- (c) Pupa

پیوپا

- (d) Butterfly

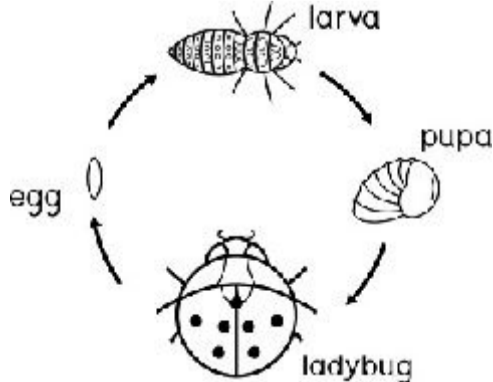
تتلی

Question No.10 : Which living thing's life cycle is represented by the given image?

سوال نمبر 10: دی گئی تصویر سے کس جاندار کی زندگی کا دور حیات ظاہر ہوتا ہے؟

- (a) Plant
(b) Bird
(c) Insect
(d) Frog

پودا
پرندہ
حشرات
مینڈک



Question No.11 : The place where organisms live is called:

سوال نمبر 11: جانداروں کے رہنے کی جگہ کو _____ کہتے ہیں۔

- (a) habitat مسکن (b) nest گھونسلہ (c) forest جنگل (d) home گھر

Question No.12 : Fins of fish help in:

سوال نمبر 12: مچھلیوں کے فنز _____ میں مدد کرتے ہیں۔


- (a) swimming تیرنے (b) watching دیکھنے (c) breathing سانس لینے (d) eating کھانے

Question No.13 : Identify the habitat shown in the image.

سوال نمبر 13: تصویر میں دکھائے گئے مسکن کی نشاندہی کریں۔


- (a) Coastal habitat
(b) Grass land
(c) Forest
(d) Desert

ساحلی مسکن
گھاس کا میدان
جنگل
صحرا



Question No.14 : Which of the following animals eats other animals?

سوال نمبر 14: مندرجہ ذیل میں سے کون سا جانور دوسرے جانوروں کو کھاتا ہے؟



Question No.15 : What is the role of good community in our lives?

سوال نمبر 15: ہماری زندگی میں اچھے معاشرے کا کیا کردار ہے؟

- (a) Spread disease بیماری پھیلانا (b) Cause problems and conflicts مسائل اور جھگڑے پیدا کرنا
(c) Bring progress and prosperity ترقی اور خوشحالی لانا (d) Use of resources Excessively وسائل کا زیادہ استعمال کرنا

Question No.16 : Which of the following is responsible to provide protection to citizens?

سوال نمبر 16: مندرجہ ذیل میں سے کون شہریوں کو حفاظت فراہم کرنے کا ذمہ دار ہے؟

- (a) People لوگ (b) Police پولیس (c) Doctor ڈاکٹر (d) Government حکومت

Question No.17 : Look at the picture in which two kids are fighting. Identify the feelings of the kids in this situation.

سوال نمبر 17: دی گئی تصویر میں دو بچے لڑ رہے ہیں۔ اس صورت حال میں ان کے جذبات کی نشاندہی کریں۔

- (a) Happy خوشی
(b) Upset اداسی
(c) Angry غصہ
(d) Tension پریشانی



Question No.18 : Which state of matter is changing as shown in the image?

سوال نمبر 18: دی گئی تصویر کے مطابق مادہ کی کون سی حالت تبدیل ہو رہی ہے؟



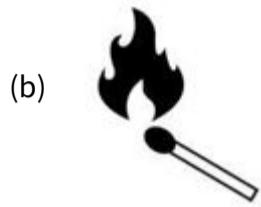

- (a) Gas to liquid
(b) Liquid to gas
(c) Solid to liquid
(d) Liquid to solid

گیس سے مائع
مائع سے گیس
ٹھوس سے مائع
مائع سے ٹھوس



Question No.19 : Identify the natural resource of energy from the following.

سوال نمبر 19: مندرجہ ذیل میں سے توانائی کے قدرتی وسائل کی شناخت کریں۔



Question No.20 : In ancient times tools were made up of:

سوال نمبر 20: قدیم دور میں اوزار کس سے بنے ہوتے تھے؟

(a) Glass

شیشہ

(b) Rubber

ربرٹ

(c) Stone

پتھر

(d) Plastic

پلاسٹک

Question No.21 : Identify the invention shown in the picture.

سوال نمبر 21: تصویر میں دکھائی گئی ایجاد کی شناخت کریں۔

(a) Telephone

ٹیلی فون

(b) Mobile phone

موبائل فون

(c) Computer

کمپیوٹر

(d) Clock

گھڑی



Question No.22 : Which of the following is recent invention?

سوال نمبر 22: مندرجہ ذیل میں سے کون سی حالیہ ایجاد ہے؟

(a) Wheel

پہیہ

(b) Radio

ریڈیو

(c) Cycle

سائیکل

(d) Internet

انٹرنیٹ

Question No.23 : Identify the ancient mean of transportation from the following.

سوال نمبر 23: مندرجہ ذیل میں سے قدیم ذرائع آمدورفت کی نشاندہی کریں۔



Question No.24 : Identify the preventive measure from the following for earthquake.

سوال نمبر 24: درج ذیل میں سے زلزلے سے بچاؤ کے لیے حفاظتی تدبیر کی نشان دہی کریں۔

(a) Jump

کودنا

(b) Fight

جھگڑنا

(c) Run

بھاگنا

(d) Lay down

نیچے لیٹنا

Question No.25 : Which of the following is NOT a safety measure for using electrical equipment?

سوال نمبر 25: مندرجہ ذیل میں سے کون سا برقی آلات استعمال کرنے کے لیے حفاظتی اقدام نہیں ہے؟

(a) Touching electrical appliances with wet hands

گیلے ہاتھوں سے برقی آلات کو چھونا

(b) Do not use more than two items in one plug

ایک پلگ میں دو سے زائد اشیا استعمال نہ کرنا

(c) Do not touch the bare wire

نگلی تار کو مت چھونا

(d) Keeping electrical appliances away from water

برقی آلات کو پانی سے دور رکھنا

SCHOOL BASED ASSESSMENT 2023
MODEL PAPER
GRADE 3



ISLAMIAT PART – B (Subjective Type)

[Part A: 50 Marks Part B: 50 Marks Total: 100 Marks]

School : _____
Tehsil : _____ District: _____

Student Name : _____ Section : _____

Roll Number : _____ Date : _____

Ge

General Instructions for students :

1. Use separate answer sheet for writing answers and give your personal information on it as well

جوابات لکھنے کے لیے علیحدہ سے جوابی کاپی کا استعمال کریں اور اس کے اوپر بھی اپنے بارے میں معلومات دیں۔

2. Read carefully and attempt all questions

غور سے پڑھیں اور تمام سوالات حل کریں۔

3. A question can consist of one or more parts.

ایک سوال ایک یا ایک سے زیادہ حصوں پر مشتمل ہو سکتا ہے۔

4. Use black/blue ink for writing answers. Use of lead pencil is not allowed.

جواب لکھنے کے لیے کالی / نیلی روشنائی کا استعمال کریں۔ کچی پنسل کے استعمال کی اجازت نہیں ہے۔

Total Marks: 50

Part-B (Constructed Response Questions)

Total Time: 1 Hour 45 Minutes

Question No: 1

سوال نمبر 1

a) Explain, on what occasion "جَزَاكَ اللَّهُ خَيْرًا" is to be said? (3)

(a) "جَزَاكَ اللَّهُ خَيْرًا" کس موقع پر کہنا چاہیے؟ وضاحت کریں۔ (3)

b) Explain the Hadith of Rasoolullah صلى الله عليه وعلى آله واصحابه وسلم كُلُّ مَعْرُوفٍ صَدَقَةٌ (3)

(b) "كُلُّ مَعْرُوفٍ صَدَقَةٌ" اس حدیث مبارکہ کا مفہوم بیان کریں۔ (3)

c) How can this blessed hadith be followed? (4) "خَيْرُكُمْ مَنْ تَعَلَّمَ الْقُرْآنَ وَعَلَّمَهُ"

(c) "خَيْرُكُمْ مَنْ تَعَلَّمَ الْقُرْآنَ وَعَلَّمَهُ" ہم اس حدیث مبارکہ پر کیسے عمل پیرا ہو سکتے ہیں؟ (4)

Question No: 2

سوال نمبر 2

a) Explain the meaning of Salah. (2)

(a) نماز کا مفہوم بیان کریں۔ (2)

b) Write one of the Hadith of Rasoolullah صلى الله عليه وعلى آله واصحابه وسلم about the importance of Namaz. (3)

(b) نماز کی اہمیت کے بارے میں رسول اللہ صلی اللہ علیہ وآلہ واصحابہ وسلم کا کوئی ایک فرمان لکھیں۔ (3)

c) Explain the five etiquettes of Namaz. (5)

(c) نماز کے کوئی سے پانچ آداب بیان کریں۔ (5)

Question No: 3

a) Explain the meaning of trust. (3)

(a) امانت کا مفہوم بیان کریں۔ (3)

b) The disbelievers also testified to the truthfulness of Rasoolullah وسلم وعلیٰ آلہ واصحابہ . Explain with an example. (3)

(b) رسول اللہ صلی اللہ علیہ وعلیٰ آلہ واصحابہ وسلم کی صداقت کی گواہی کفار بھی دیتے تھے۔ مثال سے واضح کریں۔ (3)

c) Regarding good deals, which Hadith of Rasoolullah وسلم وعلیٰ آلہ واصحابہ will you make a part of your life.? (4)

(c) حسن معاملات کے سلسلے میں، آپ نبی کریم صلی اللہ علیہ وعلیٰ آلہ واصحابہ وسلم کے کس فرمان کو اپنی زندگی کا حصہ بنائیں گے؟ (4)

Question No: 4

سوال نمبر 4

a) What is meant by pleasant talk? (2)

(a) خوش کلامی کا کیا مطلب ہے؟ (2)

b) What was the talking style of Hazrat Muhammad Rasoolullah 4). (خاتم النبیین صلی اللہ علیہ وعلیٰ آلہ واصحابہ وسلم)

(b) حضرت محمد رسول اللہ خاتم النبیین صلی اللہ علیہ وعلیٰ آلہ واصحابہ وسلم کا انداز گفتگو کیسا تھا؟ بیان کریں۔ (4)

c) What points should be kept in mind while talking? Write at least four points. (4)

(c) گفتگو کرتے ہوئے کن نکات کا خیال رکھنا چاہیے؟ کم سے کم چار نکات تحریر کریں۔ (4)

Question No: 5

سوال نمبر 5

a) Which Dua did Allah Almighty teach Hazrat Adam 3) (علیہ السلام)?

(a) اللہ تعالیٰ نے حضرت آدم علیہ السلام کو کون سی دعا سکھائی؟ (3)

b) What do we learn from the life of Hazrat Adam 3) (علیہ السلام)?

(b) حضرت آدم علیہ السلام کی زندگی سے ہمیں کیا سبق ملتا ہے؟ (3)

c) Write down four principles of hygiene taught by Rasoolullah 4) (صلی اللہ علیہ وعلیٰ آلہ واصحابہ وسلم).

(c) نبی کریم صلی اللہ علیہ وعلیٰ آلہ واصحابہ وسلم کے بتائے ہوئے حفظانِ صحت کے چار اصول لکھیں۔ (4)

SCHOOL BASED ASSESSMENT 2023

MODEL PAPER

GRADE 3

ISLAMIAT PART – A (Objective Type)

[Part A: 50 Marks Part B: 50 Marks Total: 100 Marks]



School : _____
Tehsil : _____ District: _____

Student Name : _____ Section : _____

Roll Number : _____ Date : _____

General Instructions for students :

طلبا کے لیے عمومی ہدایات:

1) Use mask & keep at least 3 ft. distance from each other.

۱۔ ماسک پہنیں اور آپس میں کم از کم 3 فٹ کا فاصلہ رکھیں۔

2) Read carefully and attempt all questions.

۲۔ غور سے پڑھیں اور تمام سوالات حل کریں۔

3) Encircle the correct option of each of the Multiple Choice Questions (MCQs) as shown in the example given below.

۳۔ ہر کثیر الانتخابی سوال کے صحیح جواب پر دائرہ لگائیں جیسا کہ نیچے دی گئی مثال میں دکھایا گیا ہے۔

مثال : مسلمانوں پر روزانہ کتنی نمازیں فرض ہیں؟

Example : How many Salah are obligatory for Muslims in a day?

Four

(b) چار

Three

(a) تین

Six

(d) چھ

Five

(c) پانچ

4) If more than one options are encircled in a question, no mark will be given.

۴۔ اگر کسی سوال میں ایک سے زیادہ جوابات کے گرد دائرہ لگایا گیا تو کوئی نمبر نہیں دیا جائے گا۔

Total Marks: 50

Part-A (Multiple Choice Questions)

Total Time: 1 Hour

Instructions: Twenty-five (25) Multiple Choice Questions (MCQs) are given in this part. Each question carries two marks.

ہدایات: اس حصہ میں 25 کثیر الانتخابی سوالات دیے گئے ہیں۔ ہر سوال کے 2 نمبر ہیں۔

Question No.1 : Which Surah has these words انہ کان تو ابا

سوال نمبر 1: "انہ کان تو ابا" کس سورۃ کے الفاظ ہیں؟

(a) Surat-ul-Fateha

سورۃ الفاتحہ

(b) Surat-un-Nasar

سورۃ النصر

(c) Surat-ul-Ikhlaas

سورۃ الاخلاص

(d) Surat-un-Naas

سورۃ الناس

Question No.2 : Whenever we climb stairs ,say the words:

سوال نمبر 2: ہم جب بھی سیڑھیوں پر چڑھیں تو کلمات کہیں:

(a) Allahu Akbar

اللہ اکبر

(b) Astaghfirullah

استغفر اللہ

(c) Jazak Allahu khair

جزاک اللہ خیرا

(d) Alhamdulillah

الحمد للہ

Question No.3 : According to the saying of Rasoolullah صلى الله عليه وعلى آله و اصحابه وسلم " we must do all the tasks:

سوال نمبر 3: فرمان رسول صلی اللہ علیہ و علی آلہ و اصحابہ و سلم "انما الاعمال بالنیات" کی روشنی میں ہمیں تمام کام کرنے چاہئیں:

(a) attentively

یکسوٹی سے

(b) with good intention

اچھی نیت سے

(c) timely

وقت پر

(d) in a good manner

صحیح طریقے سے

Question No.4 : In dua before eating meal we ask from Allah Almighty for:

سوال نمبر 4: کھانے سے پہلے کی دعا میں ہم اللہ تعالیٰ سے مانگتے ہیں:

- (a) mercy رحمت (b) blessing برکت (c) guidance ہدایت (d) power طاقت

Question No.5 : Allah Almighty bestowed us with blessing of light and heat through:

سوال نمبر 5: اللہ تعالیٰ نے ہمیں روشنی اور حرارت کے لئے نعمت سے نوازا ہے:

- (a) moon چاند کی (b) sun سورج کی (c) stars ستاروں کی (d) clouds بادلوں کی

Question No.6 : Oneness of Allah Almighty is expressed in:

سوال نمبر 6: اللہ تعالیٰ کی وحدت کا اظہار ہوتا ہے:

- (a) Toheed توحید سے (b) Risalat رسالت سے (c) Imamot امامت سے (d) shifaat شفاعت سے

Question No.7 : In ayah " وَمَا أَرْسَلْنَاكَ إِلَّا رَحْمَةً لِّلْعَالَمِينَ " quality of Hazrat Muhammad Rasoolullah و خاتم النبیین صلی اللہ علیہ و علی آلہ و سلم is described as:

سوال نمبر 7: " وَمَا أَرْسَلْنَاكَ إِلَّا رَحْمَةً لِّلْعَالَمِينَ " میں حضرت محمد رسول اللہ خاتم النبیین صلی اللہ علیہ و علی آلہ و اصحابہ و سلم کی صفت بیان ہوئی ہے:

- (a) Rasool رسول (b) Sun سراج (c) Blessing رحمت (d) Nabi نبی

Question No.8 : Adopting the basic attributes of the Ambiya عليهم السلام , we should forbid others from:

سوال نمبر 8: انبیاء کرام علیہم السلام کی بنیادی صفات کو اپناتے ہوئے ہمیں دوسروں کو منع کرنا چاہیے:

- (a) worldly affairs دنیاوی کاموں سے (b) the works of other دوسروں کے کاموں سے (c) bad deeds برے کاموں سے (d) personal tasks ذاتی کاموں سے

Question No.9 : The first pillar of Islam is:

سوال نمبر 9: اسلام کا پہلا ستون ہے:

- (a) Kalima-e-Shahadat کلمہ شہادت (b) Salah نماز (c) Zakat زکوٰۃ (d) Hajj حج

Question No.10 : When the order of Namaz came from Allah Almighty then Hazrat Muhammad و خاتم النبیین صلی اللہ علیہ و علی آلہ و سلم appointed for azan to:

سوال نمبر 10: جب اللہ تعالیٰ کی طرف سے نماز کا حکم آیا تو حضرت محمد رسول اللہ خاتم النبیین صلی اللہ علیہ و علی آلہ و اصحابہ و سلم نے اذان کی ذمہ داری لگائی:

- (a) Hazrat Umar Farooq رضی اللہ تعالیٰ عنہ حضرت عمر فاروق رضی اللہ تعالیٰ عنہ کی
(b) Hazrat Bilal رضی اللہ تعالیٰ عنہ حضرت بلال حبشی رضی اللہ تعالیٰ عنہ کی
(c) Hazrat Usman Gahni رضی اللہ تعالیٰ عنہ حضرت عثمان غنی رضی اللہ تعالیٰ عنہ کی
(d) Hazrat Ali رضی اللہ تعالیٰ عنہ حضرت علی المرتضیٰ رضی اللہ تعالیٰ عنہ کی

Question No.11 : We must always be atone for our sins and mistakes:

سوال نمبر 11: اپنے گناہوں اور غلطیوں کے کفارے کے لیے ہمیں ہمیشہ رہنا چاہیے:

- (a) in loneliness تنہائی میں (b) with ablution باوضو
(c) in trouble پریشانی میں (d) in the masjid مسجد میں

Question No.12 : In the Ayah, " وَأَقِيمُوا الصَّلَاةَ وَآتُوا الزَّكَاةَ وَارْكَعُوا مَعَ الرَّاكِعِينَ " there is an order along with pay Zakat to:

سوال نمبر 12: اللہ تعالیٰ کے فرمان " وَأَقِيمُوا الصَّلَاةَ وَآتُوا الزَّكَاةَ وَارْكَعُوا مَعَ الرَّاكِعِينَ " میں زکوٰۃ کے ساتھ حکم ہے:

- (a) ablution وضو کرنے کا (b) keep Saom روزہ رکھنے کا
(c) offer Salah نماز ادا کرنے کا (d) perform Hajj حج ادا کرنے کا

Question No.13 : In the Ayah " إِنَّ أَوَّلَ بَيْتٍ وُضِعَ لِلنَّاسِ لَلَّذِي بِبَكَّةَ مُبَارَكًا وَهُدًى لِّلْعَالَمِينَ " is about?

سوال نمبر 13: اللہ تعالیٰ کے فرمان " إِنَّ أَوَّلَ بَيْتٍ وُضِعَ لِلنَّاسِ لَلَّذِي بِبَكَّةَ مُبَارَكًا وَهُدًى لِّلْعَالَمِينَ " میں ذکر ہے:

- (a) Bayt ul-Maqdas بیت المقدس کا (b) Khana Kaba خانہ کعبہ کا
(c) Masjid-e-Nabavi مسجد نبوی کا (d) Masjid-e-Nimrah مسجد نمرہ کا

Question No.14 : At time of Hazrat Muhammad Rasoolullah's birth, how many corner's of Kisra's palace fell down?

سوال نمبر 14: حضرت محمد رسول اللہ خاتم النبیین صلی اللہ علیہ و علی آلہ و سلم کی ولادت کے وقت کسریٰ کے محل کے کنگرے گر گئے:

- (a) Eleven گیارہ (b) Twelve بارہ (c) Thirteen تیرہ (d) Fourteen چودہ

Question No.15 : The title name of Rasoolullah صلى الله عليه وعلى آله واصحابه وسلم is:

سوال نمبر 15: رسول اللہ صلی اللہ علیہ و علی آلہ و اصحابہ و سلم کا لقب ہے:

- (a) Sadiq o Ameen صادق و امین (b) Aadil o bhadur عادل و بہادر (c) Kaleem Ullah کلیم اللہ (d) Khalil Ullah خلیل اللہ

Question No.16 : When Rasoolullah صلى الله عليه وعلى آله واصحابه وسلم gathered the people on Mount Safa to invite for Islam, they confessed:

سوال نمبر 16: جب نبی کریم صلی اللہ علیہ و علی آلہ و اصحابہ و سلم نے صفا پہاڑ پر لوگوں کو اسلام کی دعوت دینے کے لئے اکٹھا کیا، تو انہوں نے اعتراف کیا:

- (a) Rasoolullah's honesty رسول اللہ صلی اللہ علیہ و علی آلہ و اصحابہ و سلم کی امانت کا
(b) Rasoolullah's endurance رسول اللہ صلی اللہ علیہ و علی آلہ و اصحابہ و سلم کی استقامت کا
(c) Rasoolullah's worship رسول اللہ صلی اللہ علیہ و علی آلہ و اصحابہ و سلم کی عبادت کا
(d) Rasoolullah's authenticity رسول اللہ صلی اللہ علیہ و علی آلہ و اصحابہ و سلم کی صداقت کا

Question No.17 : In the Hadith of Rasoolullah صلى الله عليه وعلى آله واصحابه وسلم "No Nabi has been harmed as much as I have been harmed" teaches us:

سوال نمبر 17: نبی اکرم صلی اللہ علیہ و علی آلہ و اصحابہ و سلم کے فرمان "کسی نبی کو اتنی تکلیفیں نہیں پہنچائی گئیں جتنی کہ مجھے پہنچائی گئیں" میں ہمارے لیے سبق ہے:
عدل

- (a) humbleness عاجزی (b) patience صبر (c) tolerance رواداری (d) justice عدل

Question No.18 : According to the Hadith of Rasoolullah صلى الله عليه وعلى آله واصحابه وسلم truth is a virtue that leads to :

سوال نمبر 18: نبی کریم صلی اللہ علیہ و علی آلہ و اصحابہ و سلم کے فرمان کے مطابق سچائی نیکی ہے اور نیکی انسان کو لے جاتی ہے:

- (a) peace امن کی طرف (b) happiness خوشی کی طرف (c) comfort راحت کی طرف (d) jannat جنت کی طرف

Question No.19 : For better explanation of a thing, Rasoolullah صلى الله عليه وعلى آله واصحابه وسلم repeated his words:

سوال نمبر 19: نبی پاک صلی اللہ علیہ و علی آلہ و اصحابہ و سلم بات کو سمجھانے کے لئے جہاں ضرورت ہوتی بات کو دہراتے تھے:

- (a) two times دو مرتبہ (b) three times تین مرتبہ (c) four times چار مرتبہ (d) five times پانچ مرتبہ

Question No.20 : After the rights of Allah Almighty, the most important rights are:

سوال نمبر 20: اللہ تعالیٰ کے حقوق کے بعد سب سے زیادہ اہم حقوق ہیں:

- (a) friends rights دوستوں کے حقوق (b) neighbors' rights ہمسایوں کے حقوق
(c) parental rights والدین کے حقوق (d) relatives' rights رشتہ داروں کے حقوق

Question No.21 : Islam gives the greatest importance to the rights of:

سوال نمبر 21: اسلام نے سب سے زیادہ حقوق کو اہمیت دی ہے:

- (a) countrymen ہم وطنوں کے (b) parents والدین کے
(c) same religions ہم مذہبوں کے (d) class fellows ہم جماعتوں کے

Question No.22 : First Nabi is:

(a) Hazrat Muhammad Rasoolullah و خاتم النبیین صلی اللہ علیہ و علی آلہ و اصحابہ و سلم

(b) Hazrat Adam علیہ السلام حضرت آدم علیہ السلام

(c) Hazrat Nooh علیہ السلام حضرت نوح علیہ السلام

(d) Hazrat Ibrahim علیہ السلام حضرت ابراہیم علیہ السلام

Question No.23 : At the occasion of Gazwa e Tabuk, all the wealth of his house was offered to Rasoolullah و خاتم النبیین صلی اللہ علیہ و علی آلہ و اصحابہ و سلم by:

سوال نمبر 23: غزوہ تبوک کے موقع پر گھر کا سارا سامان نبی کریم صلی اللہ علیہ و علی آلہ و اصحابہ و سلم کو پیش کیا:

(a) Hazrat Abu Bakar Saddique رضی اللہ تعالیٰ عنہ حضرت ابو بکر صدیق رضی اللہ تعالیٰ عنہ نے

(b) Hazrat Umar Farooq رضی اللہ تعالیٰ عنہ حضرت عمر فاروق رضی اللہ تعالیٰ عنہ نے

(c) Hazrat Usman e Ghani رضی اللہ تعالیٰ عنہ حضرت عثمان غنی رضی اللہ تعالیٰ عنہ نے

(d) Hazrat Ali ul Murtaza رضی اللہ تعالیٰ عنہ حضرت علی المرتضیٰ رضی اللہ تعالیٰ عنہ نے

Question No.24 : The miswak is used for:

سوال نمبر 24: مسواک استعمال کی جاتی ہے:

(a) cleanliness of hands ہاتھوں کی صفائی کے لئے (b) cleanliness of ears کانوں کی صفائی کے لئے

(c) cleanliness of nails ناخنوں کی صفائی کے لئے (d) cleanliness of mouth منہ کی صفائی کے لئے

Question No.25 : The subject matter of Quranic Ayah "ان اللہ یحب المتطہرین" is:

سوال نمبر 25: قرآنی آیت "ان اللہ یحب المتطہرین" کا موضوع ہے:

(a) repentance توبہ (b) pureness پاکیزگی (c) simplicity سادگی (d) contentment قناعت

a) One bottle has 5 litre 350 millilitre and other has 4 litre 430 millilitre of water . How much water is in both bottles? (5 marks)

(a) ایک بوتل میں 5 لٹر 350 ملی لٹر پانی جبکہ دوسری بوتل میں 4 لٹر 430 ملی لٹر پانی ہے۔ دونوں بوتلوں میں کل کتنا پانی ہے؟ (5 نمبر)

b) Farah studies mathematics for 10 hours and science for 9 hours in a week. How much time does she spend on both subjects? (5 marks)

(b) فرح ایک ہفتے میں 10 گھنٹے ریاضی اور 9 گھنٹے سائنس پڑھتی ہے۔ وہ دونوں کتابوں پر کل کتنا وقت صرف کرتی ہے؟ (5 نمبر)

Question No: 4

سوال نمبر 4

a) Look at the calendar and answer the following questions: (5 Marks)

(1) What is the date on last Sunday of July?

(2) What is the day on 25th of December?

(a) کیلنڈر کو دیکھ کر مندرجہ ذیل سوالات کے جوابات دیں۔ (5 نمبر)

(1) جولائی کے آخری اتوار کو کون سی تاریخ بنتی ہے؟

(2) 25 دسمبر کو کون سا دن بنتا ہے؟

2022

January	February	March	April
Su Mo Tu We Th Fr Sa	Su Mo Tu We Th Fr Sa	Su Mo Tu We Th Fr Sa	Su Mo Tu We Th Fr Sa
1	1 2 3 4 5	1 2 3 4 5	1 2
2 3 4 5 6 7 8	6 7 8 9 10 11 12	6 7 8 9 10 11 12	3 4 5 6 7 8 9
9 10 11 12 13 14 15	13 14 15 16 17 18 19	13 14 15 16 17 18 19	10 11 12 13 14 15 16
16 17 18 19 20 21 22	20 21 22 23 24 25 26	20 21 22 23 24 25 26	17 18 19 20 21 22 23
23 24 25 26 27 28 29	27 28	27 28 29 30 31	24 25 26 27 28 29 30
30 31			
May	June	July	August
Su Mo Tu We Th Fr Sa	Su Mo Tu We Th Fr Sa	Su Mo Tu We Th Fr Sa	Su Mo Tu We Th Fr Sa
1 2 3 4 5 6 7	1 2 3 4	1 2	1 2 3 4 5 6
8 9 10 11 12 13 14	5 6 7 8 9 10 11	3 4 5 6 7 8 9	7 8 9 10 11 12 13
15 16 17 18 19 20 21	12 13 14 15 16 17 18	10 11 12 13 14 15 16	14 15 16 17 18 19 20
22 23 24 25 26 27 28	19 20 21 22 23 24 25	17 18 19 20 21 22 23	21 22 23 24 25 26 27
29 30 31	26 27 28 29 30	24 25 26 27 28 29 30	28 29 30 31
		31	
September	October	November	December
Su Mo Tu We Th Fr Sa	Su Mo Tu We Th Fr Sa	Su Mo Tu We Th Fr Sa	Su Mo Tu We Th Fr Sa
1 2 3	1	1 2 3 4 5	1 2 3
4 5 6 7 8 9 10	2 3 4 5 6 7 8	6 7 8 9 10 11 12	4 5 6 7 8 9 10
11 12 13 14 15 16 17	9 10 11 12 13 14 15	13 14 15 16 17 18 19	11 12 13 14 15 16 17
18 19 20 21 22 23 24	16 17 18 19 20 21 22	20 21 22 23 24 25 26	18 19 20 21 22 23 24
25 26 27 28 29 30	23 24 25 26 27 28 29	27 28 29 30	25 26 27 28 29 30 31
	30 31		

b) Draw the line segment AB = 4 cm. (5 marks)

(b) سینٹی میٹر 4 AB لمبائی کا قطعہ خط کھینچیے۔ (5 نمبر)

Question No: 5

سوال نمبر 5

a) Find the perimeter of the book with length 32 cm and width 28 cm. (5 marks)

(a) ایک کتاب کا احاطہ معلوم کریں جس کی لمبائی 32 سینٹی میٹر اور چوڑائی 28 سینٹی میٹر ہے۔ (5 نمبر)

b) Read the picture graph and answer the given questions: (5 marks)





1. Which animal is least in number?

2. What is the total number of lions and horses?

(b) تصویری گراف کو پڑھیں اور دیئے گئے سوالات کے جواب دیں۔ (5 نمبر)

1. سب سے کم تعداد کس جانور کی ہے؟

2. شیر اور گھوڑوں کی کل تعداد کتنی ہے؟

Duck بطخ	
Horse گھوڑا	
Lion شیر	
Giraffe زرافہ	

SCHOOL BASED ASSESSMENT 2023

MODEL PAPER

GRADE 3

MATHEMATICS PART – A (Objective Type)

[Part A: 50 Marks Part B: 50 Marks Total: 100 Marks]



School : _____
Tehsil : _____ District: _____

Student Name : _____ Section : _____
Roll Number : _____ Date : _____

General Instructions for students :

طلبہ کے لیے عمومی ہدایات:

1) Use mask & keep at least 3 ft. distance from each other.

۱۔ ماسک پہنیں اور آپس میں کم از کم 3 فٹ کا فاصلہ رکھیں۔

2) Read carefully and attempt all questions.

۲۔ غور سے پڑھیں اور تمام سوالات حل کریں۔

3) Encircle the correct option of each of the Multiple Choice Questions (MCQs) as shown in the example given below.

۳۔ ہر کثیر الانتخابی سوال کے صحیح جواب پر دائرہ لگائیں جیسا کہ نیچے دی گئی مثال میں دکھایا گیا ہے۔

Example : $64 \div 8 =$

a) 4 b) 6 c) 8 d) 12

4) If more than one options are encircled in a question, no mark will be given.

۴۔ اگر کسی سوال میں ایک سے زیادہ جوابات کے گرد دائرہ لگایا گیا تو کوئی نمبر نہیں دیا جائے گا۔

Total Marks: 50

Part-A (Multiple Choice Questions)

Total Time: 1 Hour

Instructions: Twenty five (25) Multiple Choice Questions (MCQs) are given in this paper. Each question carries 2 marks.

ہدایات: اس پیپر میں پچیس (25) کثیر الانتخابی سوالات دیے گئے ہیں۔ ہر سوال کے 2 نمبر ہیں۔

Question No.1 : 16 is written in Roman numbers as:

سوال نمبر 1: 16 کو رومن اعداد میں لکھا جاتا ہے۔

(a) XIV

(b) XV

(c) XVI

(d) XVII

Question No.2 : Which of the following is an even number?

سوال نمبر 2: مندرجہ ذیل میں سے کون سا عدد جفت ہے؟

(a) 37

(b) 43

(c) 54

(d) 67

Question No.3 : In the given picture the place value of 4 is:

سوال نمبر 3: دی گئی تصویر میں 4 کی مقامی قیمت ہے۔



(a) 4

(b) 40

(c) 400

(d) 4000

Question No.4 : Solve 754 + 143

سوال نمبر 4: حل کریں۔ 754 + 143

(a) 789

(b) 798

(c) 879

(d) 897

Question No.5 : Solve 58 - 25

سوال نمبر 5: حل کریں۔ 58 - 25

(a) 33

(b) 34

(c) 35

(d) 36

Question No.6 : Solve 11 × 2

سوال نمبر 6: حل کریں۔ 11 × 2

(a) 2

(b) 9

(c) 13

(d) 22

Question No.7 : There are 37 boys in a class and each boy has 7 books. Total number of books they have:

سوال نمبر 7: ایک جماعت میں 37 بچے ہیں اور ہر بچے کے پاس 7 کتابیں ہیں، کتابوں کی کل تعداد ہے۔

(a) 259

(b) 269

(c) 279

(d) 289

Question No.8 : If the price of 6 bananas is Rs 30, then price of one banana will be:

سوال نمبر 8: اگر 6 کیلوں کی قیمت 30 روپے ہو تو ایک کیلے کی قیمت ہوگی۔

(a) Rs 5

روپے 5

(b) Rs 24

روپے 24

(c) Rs 36

روپے 36

(d) Rs 180

روپے 180

Question No.9 : Which of the following is an improper fraction?

سوال نمبر 9: مندرجہ ذیل میں سے کون سی کسر غیر واجب ہے؟

(a) $\frac{3}{5}$

(b) $\frac{5}{7}$

(c) $\frac{8}{7}$

(d) $\frac{7}{9}$

Question No.10 : Which of the following figure is equivalent to the given figure.

سوال نمبر 10: مندرجہ ذیل اشکال میں سے کون سی شکل دی ہوئی شکل کے مترادف ہے۔



Question No.11 : Solve $\frac{3}{5} - \frac{1}{5}$

سوال نمبر 11: حل کریں $\frac{3}{5} - \frac{1}{5}$

(a) $\frac{2}{5}$

(b) $\frac{4}{5}$

(c) $\frac{1}{2}$

(d) $\frac{3}{4}$

Question No.12 : Solve 168m 85cm - 111m 12cm

سوال نمبر 12: حل کریں۔ سینٹی میٹر 12 میٹر 111 - سینٹی میٹر 85 میٹر 168

(a) 57m 73cm

سینٹی میٹر 73 میٹر 57

(b) 168m 12cm

سینٹی میٹر 12 میٹر 168

(c) 168m 73cm

سینٹی میٹر 73 میٹر 168

(d) 279m 97cm

سینٹی میٹر 97 میٹر 279

Question No.13 :

Adnan bought 25 m and Asad bought 34 m cloth. Total length of cloth is:

سوال نمبر 13: عدنان نے 25 میٹر اور اسد نے 34 میٹر کپڑا خریدا۔ کپڑے کی کل لمبائی ہے۔

- | | | | |
|---------|---------|---------|---------|
| (a) 39m | میٹر 39 | (b) 49m | میٹر 49 |
| (c) 59m | میٹر 59 | (d) 69m | میٹر 69 |

Question No.14 : Solve 5kg 500g - 3kg 250g

سوال نمبر 14: حل کریں۔ 5 کلو گرام 500 گرام - 3 کلو گرام 250 گرام

- | | | | |
|--------------|---------------------|--------------|---------------------|
| (a) 2kg 500g | گرام 500 کلو گرام 2 | (b) 2kg 300g | گرام 300 کلو گرام 2 |
| (c) 2kg 358g | گرام 358 کلو گرام 2 | (d) 2kg 250g | گرام 250 کلو گرام 2 |

Question No.15 : Solve 35 l 459 ml + 63 l 510 ml

سوال نمبر 15: حل کریں۔ 35 لیٹر 459 ملی لیٹر + 63 لیٹر 510 ملی لیٹر

- | | | | |
|-----------------|------------------|-----------------|------------------|
| (a) 98 l 966 ml | لیٹر 966 لیٹر 98 | (b) 98 l 967 ml | لیٹر 967 لیٹر 98 |
| (c) 98 l 959 ml | لیٹر 959 لیٹر 98 | (d) 98 l 969 ml | لیٹر 969 لیٹر 98 |

Question No.16 : Sania bought 4l 500ml milk from shop. She used 2l 500ml to make tea and milk shake, remaining milk will be:

سوال نمبر 16: ثانیہ نے 4 لیٹر 500 ملی لیٹر دودھ خریدا۔ اس نے 2 لیٹر 500 ملی لیٹر چائے اور ملک شیک بنانے میں استعمال کر لیا، باقی دودھ ہوگا۔

- | | | | |
|------------|--------|------------|--------|
| (a) 2litre | لیٹر 2 | (b) 6litre | لیٹر 6 |
| (c) 8litre | لیٹر 8 | (d) 9litre | لیٹر 9 |

Question No.17 : Solve 38m - 16m

سوال نمبر 17: حل کریں 38 میٹر - 16 میٹر

- | | | | |
|---------|---------|---------|---------|
| (a) 22m | میٹر 22 | (b) 28m | میٹر 28 |
| (c) 34m | میٹر 34 | (d) 54m | میٹر 54 |

Question No.18 : In the night, time on clock is:

سوال نمبر 18: رات کو گھڑی پر وقت ہے۔



- | | |
|-----------|-----------|
| (a) 12 am | (b) 12 pm |
| (c) 11 pm | (d) 11 am |

Question No.19 : The time on the clock is:

سوال نمبر 19: گھڑی پر وقت ہے۔



- | | |
|-----------|-----------|
| (a) 01:00 | (b) 01:50 |
| (c) 01:55 | (d) 02:55 |

Question No.20 :

Zain spends 2 hours in doing homework and 1 hour in playing cricket, total time he spends:

سوال نمبر 20: زین 2 گھنٹے گھر کا کام کرنے میں اور ایک گھنٹہ کرکٹ کھیلنے میں صرف کرتا ہے وہ کل وقت صرف کرتا ہے۔

(a) 1 hour

گھنٹہ 1

(b) 2 hours

گھنٹے 2

(c) 3 hours

گھنٹے 3

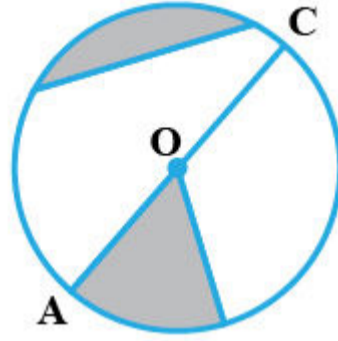
(d) 4 hours

گھنٹے 4

Question No.21 :

The diameter of the given circle is:

سوال نمبر 21: دیئے گئے دائرے کا قطر ہے۔



(a) \overline{ED}

(b) \overline{OB}

(c) \overline{OC}

(d) \overline{AC}

Question No.22 :

Number of faces in a cube are:

سوال نمبر 22: ایک مکعب میں سطحوں کی تعداد ہوتی ہے۔

(a) 3

(b) 4

(c) 5

(d) 6

Question No.23 :

Brick is an example of:

سوال نمبر 23: اینٹ مثال ہے۔



(a) cube

مکعب

(b) cuboid

مکعب نما

(c) square

مربع

(d) circle

دائرہ

Question No.24 :

The value of tally mark in given picture is:

سوال نمبر 24: دی گئی تصویر میں ٹیلی نشان کی قیمت ہے۔



(a) 2

(b) 3

(c) 4

(d) 5

Question No.25 :

The following picture graph shows the number of candies that each child possesses. Which child has the least number of candies? (1 picture = 1 candy)

سوال نمبر 25: دیا گیا تصویری گراف بچوں کے پاس ٹافیوں کی تعداد کو ظاہر کرتا ہے۔ کس بچے کے پاس سب سے کم ٹافیاں ہیں؟ (1 تصویر = 1 ٹافی)



(a) Ali

علی

(b) Waseem

وسیم

(c) Kaleem

کلیم

(d) Saleem

سلیم

SCHOOL BASED ASSESSMENT 2023

MODEL PAPER

GRADE 3

URDU PART – B (Subjective Type)

[Part A: 50 Marks Part B: 50 Marks Total: 100 Marks]



School : _____
Tehsil : _____ District: _____

Student Name : _____ Section : _____

Roll Number : _____ Date : _____

طلبا کے لیے عمومی ہدایات:

- ۱۔ جواب لکھنے کے لیے علیحدہ سے جوابی کاپی کا استعمال کریں اور اس کے اوپر بھی اپنے بارے میں معلومات دیں۔
- ۲۔ غور سے پڑھیں اور تمام سوالات حل کریں۔
- ۳۔ ایک سوال ایک یا ایک سے زیادہ حصوں پر مشتمل ہو سکتا ہے
- ۴۔ جواب لکھنے کے لیے کالی/ نیلی روشنائی کا استعمال کریں۔ کچی پنسل کے استعمال کی اجازت نہیں ہے۔

کل نمبر: 50

(حصہ ب) (انشائیہ سوالات)

وقت: 1 گھنٹہ 45 منٹ

سوال نمبر 1: : درج ذیل الفاظ کی درست املا لکھیں۔ (کل نمبر 10)

الفاظ	درست املا
قام	
حادثہ	
مکام	
طاقت	
طارے	


سوال نمبر 2: : ہیڈ ماسٹر صاحب / ہیڈ مسٹریس صاحبہ کے نام ضروری کام کے لیے رخصت کی درخواست لکھیں۔ (کل نمبر 10)

سوال نمبر 3: : آپ اپنے / اپنی بہترین دوست کا پانچ جملوں میں تعارف کروائیں۔ (کل نمبر 10)

سوال نمبر 4: : متن کو پڑھیں اور نیچے دیے گئے الفاظ سے نئے جملے بنائیں۔ (کل نمبر 10)

اسلم کے چچا نے بے شمار باغات لگا رکھے ہیں۔ جو بہت زیادہ پھل دینے والے منافع بخش بھی ہیں۔ اس کا ایک دوست پھلوں کی تجارت کا کام بھی کرتا ہے۔ اسلم کے چچا اپنے دوست کے ذریعے یہ پھل اپنے ملک پاکستان سے باہر دوسرے ممالک میں بیچ کر بھاری منافع کماتے ہیں۔

الفاظ	جملے
بے شمار	
باغات	
پھل	
ملک	
پاکستان	



سوال نمبر 5: : عزیز طلبہ! اوپر دی گئی تصویر کو دیکھ کر مندرجہ ذیل سوالات کے جوابات دیں۔ (کل نمبر 10)

I تصویر میں کتنے افراد ہیں؟ (03)

II کتاب کس کے ہاتھ میں ہے؟ (03)

III تصویر میں سے ایک اسم معرفہ اور ایک اسم نکرہ کو الگ الگ لکھیں۔ (04)

SCHOOL BASED ASSESSMENT 2023

MODEL PAPER

GRADE 3

URDU PART – A (Objective Type)

[Part A: 50 Marks Part B: 50 Marks Total: 100 Marks]



School : _____

Tehsil : _____

District: _____

Student Name : _____

Section : _____

Roll Number : _____

Date : _____

طلبا کے لیے عمومی ہدایات:

۱۔ ماسک پہنیں اور آپس میں کم از کم 3 فٹ کا فاصلہ رکھیں۔

۲۔ غور سے پڑھیں اور تمام سوالات حل کریں۔

۳۔ ہر کثیر الانتخابی سوال کے صحیح جواب پر دائرہ لگائیں جیسا کہ نیچے دی گئی مثال میں دکھایا گیا ہے۔

مثال : چیچڑ کی وجہ سے پھیلنے والی بیماری ہے:

(b) خسره

(a) پولیو

(d) کانگو

(c) ڈینگی

۴۔ اگر کسی سوال میں ایک سے زیادہ جوابات کے گرد دائرہ لگایا گیا تو کوئی نمبر نہیں دیا جائے گا۔

کل نمبر: 50

(حصہ الف) کثیر الانتخابی سوالات

وقت: 1 گھنٹہ

ہدایات: اس پیپر میں بیچیں کثیر الانتخابی سوالات دیے گئے ہیں۔ ہر سوال کے کل 2 نمبر ہیں۔

سوال نمبر 1: "فاضل" کا معنی ہے:

(d) سوچنے والا

(c) پڑھنے والا

(b) پرہیزگار

(a) علم والا

سوال نمبر 2: فلک پر ستارے چمکتے ہیں۔ "فلک" کا معنی ہے:

(d) آسمان

(c) میدان

(b) دریا

(a) زمین

سوال نمبر 3: ایک ڈبے میں بتیس دانے

بوجھنے والے بڑے سیانے

اس پہیلی میں چھپی دانش ہے:

(d) بال

(c) انگلیاں

(b) دانت

(a) ناخن

سوال نمبر 4: لفظ "حساب" کی درست ادائیگی ہے:

(d) حساب

(c) حساب

(b) حساب

(a) حساب

سوال نمبر 5: کسی کے دکھ اور تکلیف کے موقع پر اظہار کے لیے استعمال ہونے والے الفاظ ہیں:

(d) شکریہ

(c) ازراہ کرم

(b) معاف کیجیے گا

(a) افسوس، صد افسوس

سوال نمبر 6: کسی سے کوئی چیز اُدھار لینی ہو تو آدابِ گفتگو کے حوالے سے بولا جاتا ہے:

(d) معذرت

(c) خوش آمدید

(b) براہ مہربانی

(a) افسوس

سوال نمبر 7: تصویر میں بچے کیا کر رہے ہیں؟



- (a) لڑائی کر رہے ہیں۔
 (b) صفائی کر رہے ہیں۔
 (c) کھدائی کر رہے ہیں۔
 (d) گندگی پھیلا رہے ہیں۔

سوال نمبر 8: درست املا والا لفظ ہے:

- (a) قام یاب (b) کامیاب (c) قامیاب (d) قم یاب

سوال نمبر 9: "میں نے شام کو کھانا _____" اس جملے میں درست فعلی لفظ استعمال ہو گا:

- (a) کھاتا (b) کھائے (c) کھائی (d) کھایا

سوال نمبر 10: "اسلم نے مجھے خوبصورت قلم دیا۔" اس جملے میں صفاتی لفظ ہے:

- (a) اسلم (b) قلم (c) مجھے (d) خوبصورت

سوال نمبر 11: لفظ "آزادی" کا متضاد ہے:

- (a) امیری (b) فقیری (c) غلامی (d) غربتی

سوال نمبر 12: کتاب کی جمع ہے:

- (a) کتابت (b) کتابات (c) کتبے (d) کتب

سوال نمبر 13: مونث کے درست استعمال والا جملہ ہے:

- (a) مرغی انڈہ دیتی ہے۔ (b) بکری گھاس کھاتا ہے۔ (c) گائے دودھ دیتا ہیں۔ (d) ہرنی دوڑ لگاتا ہے۔

سوال نمبر 14: فاطمہ میری دوست ہے۔ اس کے ابو ڈاکٹر ہیں جو کہ غریبوں کا مفت علاج کرتے ہیں۔ اس جملے میں اسم ضمیر ہے:

- (a) ہیں (b) اس (c) علاج (d) کرتے

سوال نمبر 15: استفہامیہ جملہ ہے:

- (a) میں سکول جاؤں گا۔ (b) میں سکول نہیں جاؤں گا۔ (c) میں سکول جا رہا ہوں۔ (d) کیا میں سکول چلا جاؤں؟

سوال نمبر 16: "کیا احمد کھیلتا ہے؟" اس استفہامی جملے کا درست اقراری جملہ ہے:

- (a) احمد نہیں کھیلتا ہے۔ (b) جی ہاں! احمد کھیلتا ہے۔ (c) احمد کیوں کھیلتا ہے؟ (d) کھیلو اور صحت پاؤ۔

سوال نمبر 17: فعل حال کے مطابق درست جملہ ہے:

- (a) مگر مچھ تالاب میں رہتا ہے۔ (b) مگر مچھ تالاب میں رہے گا۔ (c) مگر مچھ تالاب میں رہ رہا ہو گا۔ (d) مگر مچھ تالاب میں رہتا تھا۔

سوال نمبر 18: فعل مستقبل کا جملہ ہے:

- (a) ہم اسلام آباد جا چکے ہیں۔ (b) ہم اسلام آباد آگئے تھے۔ (c) ہم اسلام آباد جا رہے ہیں۔ (d) ہم اسلام آباد جائیں گے۔

سوال نمبر 19: "اسد لاہور جاتا ہے۔" اس جملے سے فعل ماضی کا درست جملہ ہے:

- (a) اسد لاہور جا رہا ہے۔ (b) اسد لاہور گیا تھا۔ (c) اسد لاہور جائے گا۔ (d) اسد لاہور جا رہا ہو گا۔

سوال نمبر 20: اسم نکرہ کی درست فہرست ہے:

- (a) لڑکا، نعمان، سلیمان (b) عورت، آدمی، بشیر (c) کرسی، میز، گلاس (d) کرسی، میز، جاوید

مندرجہ ذیل پیرا گراف پڑھ کر نیچے دیے گئے سوالات کے جوابات دیجیے۔

پنجاب دو لفظوں پنج اور آب سے مل کر بنتا ہے، پنج کے معنی ہیں پانچ اور آب کے معنی ہیں پانی۔ گویا پنجاب کے معنی ہیں پانچ دریاؤں کی زمین۔ اس صوبے کی سرحدیں بلوچستان، خیبر پختونخوا اور سندھ سے ملتی ہیں۔ پنجاب کا دارالحکومت لاہور ہے۔ اسے پاکستان کا دل کہا جاتا ہے۔ یہ صدیوں سے علم و ثقافت کا مرکز رہا ہے۔ ملتان، فیصل آباد، سیالکوٹ، گوجرانوالہ اور بہاولپور کا شمار پنجاب کے بڑے شہروں میں ہوتا ہے۔ فیصل آباد کو پاکستان کا مانچسٹر کہا جاتا ہے۔ یہاں کپڑا بنانے کی صنعت ہے۔ کھیلوں کا سامان اور آلات جراحی بنانے میں سیالکوٹ کا کوئی ثانی نہیں۔ عظیم فلسفی شاعر علامہ محمد اقبالؒ اسی شہر میں پیدا ہوئے تھے۔ وزیر آباد میں اعلیٰ قسم کے چاقو چھریاں بنائی جاتی ہیں۔ گجرات کی پہچان عمدہ قسم کے فرنیچر کے ساتھ ساتھ پنکھا سازی کی صنعت بھی ہے۔ گوجرانوالہ میں بجلی سے چلنے والی اشیا مثلاً واشنگ مشین، پنکھے، روم کولر اور ہیٹر بنتے ہیں۔ چنیوٹ میں بنا ہوا فرنیچر اپنی مثال آپ ہے۔

سوال نمبر 21: پنجاب کی سرحدیں کتنے صوبوں سے ملتی ہیں؟

- (a) ایک (b) دو (c) تین (d) چار

سوال نمبر 22: پنجاب کا دارالحکومت ہے:

- (a) فیصل آباد (b) ملتان (c) سیالکوٹ (d) لاہور

سوال نمبر 23: لفظ "آلات" کا واحد ہے:

- (a) اعلیٰ (b) آلہ (c) آلے (d) آلوں

سوال نمبر 24: علامہ محمد اقبالؒ کا مزار ہے:

- (a) فیصل آباد میں (b) لاہور میں (c) ملتان میں (d) سیالکوٹ میں

سوال نمبر 25: پیرا گراف کا مناسب عنوان ہے:

- (a) صوبہ پنجاب (b) صوبہ سندھ (c) صوبہ بلوچستان (d) صوبہ خیبر پختونخوا