

**SCHOOL BASED ASSESSMENT 2023**  
**MODEL PAPER**  
**GRADE 4**



**ENGLISH PART – B (Subjective Type)**

[Part A: 50 Marks Part B: 50 Marks Total: 100 Marks]

School : \_\_\_\_\_  
Tehsil : \_\_\_\_\_ District: \_\_\_\_\_

Student Name : \_\_\_\_\_ Section : \_\_\_\_\_

Roll Number : \_\_\_\_\_ Date : \_\_\_\_\_

**General Instructions for students :**

1. Read carefully and attempt all questions.
2. A question can consist of one or more parts.
3. Use black/blue ink for writing answers in separate answer sheet. Use of lead pencil is not allowed.


<b>Total Marks: 50</b>	<b>Part-B (Constructed Response Questions)</b>	<b>Total Time: 1 Hour 45 Minutes</b>
------------------------	------------------------------------------------	--------------------------------------

Question No.1 : **Fill in the blanks using the words given below. Marks (10)**  
looking, inside, reading, rain, brave, sitting

There are three children \_\_\_\_\_ the house. Two children are \_\_\_\_\_ out of the window. The girl is \_\_\_\_\_ on the chair and the boy is standing near her. They are enjoying \_\_\_\_\_ and lightning. One girl is sitting on the sofa. The girl on the sofa is \_\_\_\_\_ a book. A kitten is sitting near the girl. There are beautiful trees outside the room.



Question No.2 : **Write a paragraph of five sentences to describe the sequence of "Planting a Flowering Plant" as shown in the pictures. Use correct grammar, punctuation and spelling. Marks (10)**



Question No.3 : **Replace the underlined phrases and words with given words that express the same idea and rewrite the sentences on your answer sheet. Marks (10)**

large, cancelled, always, harmful, daily

1. The meeting was postponed.
2. Parents and teachers guide you all the time.
3. We have a big tree in our courtyard.
4. We go to school everyday.
5. Maria's dog is not dangerous.

Question No.4 : The following application has many layout, grammatical and spelling mistakes. Read the application carefully and rewrite it correctly by removing these mistakes. Marks (10)

The Headmaster,  
To

Govt Islamia High School, Kasur.

Name: \_\_\_\_\_

Date: 09/09/2021

Sir/Madam,

I beg to state that my name has been struck off for a Inog abesnce from school. I had been suffering from fevre for fifteen days. I request you to allwo me re-admission in the school. I shall thankful be to you very for this favour.

Yuors Obediently,

Class: \_\_\_\_\_

Question No.5 : Listening and Speaking Question: Marks (5+5)

### Instructions for the Students

- Your teacher will show you some words. Pronounce them clearly.
- Listen to your teacher and write the dictation words on your answer sheets.

### Teacher's Copy

Instructions for the Teacher:

- Teacher will show the following word bank to the students.

### Word Bank

Stalk, Hovering, Nature, Breathe, Delicious, goose, Rebirth, Portraits, Blessings, Keeper, Dialogue, Helmet, Permission, Sharpener, Helen, Tradition, Aware, Stork, Brochure, Humble.

- Teacher will call one student and ask to pronounce any five words from the word bank.
- Teacher will shuffle words for each student.
- Teacher will award 1 mark for each correct word pronunciation.
- Once all students have completed this activity,teacher will make them sit and prepare them for dictation.
- Teacher will read aloud all 20 words by repeating each word 3 times with a pause.
- Teacher will complete this activity and collect responses.
- Teacher will not allow the students for cutting, overwriting or erasing.

Award of marks:

Speaking.

- Award 1 mark for each correct word pronunciation.
- Award 5 marks for correct five pronunciations.
- Award 0 marks for wrong pronunciation.

Listening.

- Award 0.25 marks for each correct spelling response.
- No marks will be deducted for 3 spelling mistakes.

Note: Make an award list according to the given sample and record the results on that sheet.

Grade 4		Punjab Examination Commission (Award List for Listening and Speaking Questions)				
District:		Cluster Center:		Item Code:	18749	
Tehsil:		Exam Center:		Date:		
Roll No.	Students Name	Pronunciation		Spelling Response		Total Marks
		Total words Pronounced	Obtained Marks	No. Of Correct Spellings	Obtained Marks	
1						
2						
3						
4						
5						
6						
7						
8						
9						
10						



# SCHOOL BASED ASSESSMENT 2023



## MODEL PAPER

### GRADE 4

## ENGLISH PART – A (Objective Type)

[Part A: 50 Marks Part B: 50 Marks Total: 100 Marks]

School : \_\_\_\_\_  
Tehsil : \_\_\_\_\_ District: \_\_\_\_\_

Student Name : \_\_\_\_\_ Section : \_\_\_\_\_

Roll Number : \_\_\_\_\_ Date : \_\_\_\_\_

### General Instructions for students :

- 1) Use mask & keep at least 3 ft. distance from each other.
- 2) Read carefully and attempt all questions.
- 3) Encircle the correct option of each of the Multiple Choice Questions (MCQs) as shown in the example given below.

**Example : He is \_\_\_\_\_ to school.**

- a) goes
- b) went
- (c) going
- d) go

- 4) If more than one options are encircled in a question, no mark will be given.

**Total Marks: 50**

**Part-A (Multiple Choice Questions)**

**Total Time: 1 Hour**

**Instructions: - Twenty five (25) questions are given in this paper. Each question carries 2 marks.**

**Question No.1 :** Which of the following is the plural of the word "Thief"?

- (a) Thiefs
- (b) Thieves
- (c) Thefs
- (d) Thievs



**Question No.2 :** Choose the sentence with correct spelling.

- (a) He is an intilligant student.
- (b) He is an intallegent student.
- (c) He is an intilligunt student.
- (d) He is an intelligent student.

**Question No.3 :** Which action is shown in the picture?

- (a) Eating
- (b) Weeping
- (c) Walking
- (d) Sleeping



**Question No.4 :** Choose the adjective of the noun "Music".

- (a) Musically
- (b) Musical
- (c) Musifull
- (d) Music

**Question No.5 :** Which collective noun is used for a group of cows?  
"A \_\_\_\_\_ of cows"

- (a) team
- (b) crowd
- (c) flock
- (d) herd


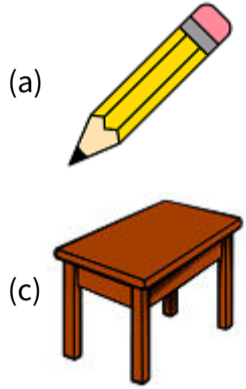
**Question No.6 :** Which sentence is about asking permission?

- (a) Why did he open the door?
- (b) I shall open the door.
- (c) May I open the door?
- (d) Please open the door.

**Question No.7 :** Choose the word that ends with /id/ sound.

- (a) Liked
- (b) Faced
- (c) Started
- (d) Worked

**Question No.8 :** Identify the picture having a "Diphthong" sound.



**Question No.9 :** " \_\_\_\_\_ they help us in completing our work?"

- (a) Are
- (b) Has
- (c) Can
- (d) Is

**Question No.10 :** Identify the sentence with the correct use of "article".

- (a) This is best the book.
- (b) The this is best book.
- (c) This is the best book.
- (d) This the is best book.

**Question No.11 :** In which of the following sentences, the pronoun agrees with the noun?

- (a) Sara is responsible for his activities.
- (b) Sara is responsible for their activities.
- (c) Sara is responsible for her activities.
- (d) Sara is responsible for my activities.

**Question No.12 :** "How \_\_\_\_\_ stars are there in the sky?"

- (a) any
- (b) much
- (c) many
- (d) long



**Question No.13 :** "Akram is taller than Amir but Ramiz is the \_\_\_\_\_."

- (a) taller
- (b) talled
- (c) tallest
- (d) tall




**Question No.14 :** "Wow! \_\_\_\_\_ is new and beautiful."

- (a) Aslam.s house
- (b) Aslam's house
- (c) Aslam-s house
- (d) Aslam,s house

**Question No.15 :** Identify the sentence showing "Simple Future Tense".

- (a) Rivers flow from higher to lower level.
- (b) He worked hard to pass his exams.
- (c) The world will overcome poverty soon.
- (d) He is searching a book in the library.

**Question No.16 :** Which option can be joined with "Sun" to make a compound word?



**Question No.17 :** "We \_\_\_\_\_ got any help from them."

- (a) has not (b) have not  
(c) are not (d) am not

**Question No.18 :** Identify the type of statement.  
"Shut the door!"

- (a) Command (b) Request  
(c) Question (d) Permission

**Question No.19 :** Identify the adjective of origin from the given sentence.  
"The famous Pakistani Markhors are the largest wild goat species."

- (a) Famous (b) Pakistani  
(c) Largest (d) Wild

**Question No.20 :** Identify the "Past Continuous Tense" from the following.

- (a) We are playing in the ground.  
(b) We will be going to class.  
(c) We have finished our work.  
(d) We were listening to the music.

**Question No.21 :** Look at the pictures and encircle the correct compound noun.

- (a) Baceketball  
(b) Basketbal  
(c) Basketball  
(d) Basketbaal



**Paragraph Instruction**

**Read the following paragraph carefully and answer the questions given below.**

Wheel is a great invention. It is very helpful for us. Its use has made our life easy. We use it in many things. It is used in bicycles, motor cycles, cars and many other things. We can travel in short time with its help. We can transfer heavy things from one place to another place. We do not feel tiredness while doing work with its help. We can work more. We have to use less energy. So, it is really an amazing invention.



**Question No. 22 :** What type of life has wheel made for us?

- (a) Easy (b) Punctual  
(c) Smart (d) Difficult

**Question No.23 :** Identify the object having wheels in it.

- (a) Fan (b) Brick  
(c) Tub (d) Truck

**Question No.24 :** Identify the meaning of the word "Energy".

- (a) Money (b) Burden  
(c) Power (d) Brake

**Question No.25 :** Choose the effect of wheel on the travelling of a man.

- (a) Man travels in short time.  
(b) Man travels in long time.  
(c) Man dislikes travelling.  
(d) Man hates travelling.



**SCHOOL BASED ASSESSMENT 2023**  
**MODEL PAPER**  
**GRADE 4**



**ISLAMIAT PART – B (Subjective Type)**

[Part A: 50 Marks Part B: 50 Marks Total: 100 Marks]

School : \_\_\_\_\_  
Tehsil : \_\_\_\_\_ District: \_\_\_\_\_

Student Name : \_\_\_\_\_ Section : \_\_\_\_\_

Roll Number : \_\_\_\_\_ Date : \_\_\_\_\_

**General Instructions for students :**

1. Use separate answer sheet for writing answers and give your personal information on it as well

جوابات لکھنے کے لیے علیحدہ سے جوابی کاپی کا استعمال کریں اور اس کے اوپر بھی اپنے بارے میں معلومات دیں۔

**2. Read carefully and attempt all questions**

غور سے پڑھیں اور تمام سوالات حل کریں۔

3. A question can consist of one or more parts.

ایک سوال ایک یا ایک سے زیادہ حصوں پر مشتمل ہو سکتا ہے۔

4. Use black/blue ink for writing answers. Use of lead pencil is not allowed.

جواب لکھنے کے لیے کالی / نیلی روشنائی کا استعمال کریں۔ کچی پنسل کے استعمال کی اجازت نہیں ہے۔

**Total Marks: 50**

**Part-B (Constructed Response Questions)**

**Total Time: 1 Hour 45 Minutes**

**Question No: 1**

سوال نمبر 1

a ) What is Dua to coming out from toilet? (3)

(a) بیت الخلاء سے باہر نکلنے کی دعا کیا ہے؟ (3)

b ) Write dua to enter the toilet. (3)

(b) بیت الخلاء میں داخل ہونے کی دعا لکھیں۔ (3)

c ) Write a dua to enter and exit the masjid. (4)

(c) مسجد میں داخل ہونے اور مسجد سے باہر نکلنے کی دعا لکھیں۔ (4)

**Question No: 2**

سوال نمبر 2

a ) How did the people of Taif treat Rasoolullah 3) ? (صلی اللہ علیہ وعلی آلہ واصحابہ وسلم)

(a) اہل طائف نے آپ صلی اللہ علیہ وعلی آلہ واصحابہ وسلم کے ساتھ کیسا سلوک کیا؟ (3)

b ) What lessons do we learn from the journey to Taif?(3)

(b) سفر طائف سے ہمیں کیا سبق ملتا ہے؟ (3)

c ) Which hope of Rasoolullah 3) saved the people of Taif from being crushed among the mountains?(4)

(c) حضور صلی اللہ علیہ وعلی آلہ واصحابہ وسلم کی کس امید نے اہل طائف کو پہاڑوں کے درمیان پسے سے بچایا؟ (4)

**Question No: 3**

سوال نمبر 3

a ) Write down the Ayah/translation from the Holy Qur'an. (2)



(a) وقت کی پابندی کے بارے میں اللہ تعالیٰ کا فرمان لکھیں (2)

b) Write any four benefits for practical life on observing punctuality. (4)

(b) وقت کی پابندی سے روز مرہ زندگی میں حاصل ہونے والے کوئی سے چار فائدے لکھیں۔ (4)

c) Why should a student be punctual? Explain. (4)

(c) ایک طالب علم کے لیے وقت کی پابندی کیوں ضروری ہے؟ وضاحت کریں۔ (4)

Question No: 4

سوال نمبر 4

a) Describe the different forms of honesty. (3)

(a) دیانت داری کی مختلف صورتیں بیان کریں۔ (3)

b) What should be our role in terms of honesty according to the Seerah of Rasoolullah (3)?

(b) رسول اللہ صلی اللہ علیہ وعلی آلہ واصحابہ وسلم کی سیرت طیبہ کی روشنی میں دیانت داری کے حوالے سے ہمارا کردار کیسا ہونا چاہیے؟ (3)

c) Write a short note on the economic implications of honesty. (4)

(c) دیانت داری کے معاشی اثرات پر مختصر نوٹ تحریر کیجئے۔ (4)

Question No: 5

سوال نمبر 5

a) Write briefly, what do you know about angels. (2)

(a) فرشتوں کے بارے میں آپ کیا جانتے ہیں؟ مختصر لکھیے: (2)

b) Write down four duties of angels. (4)

(b) فرشتوں کے چار فرائض تحریر کریں: (4)

c) What do we learn from the behavior of angels?(4)

(c) فرشتوں کے طرز عمل سے ہمیں کیا سبق ملتا ہے؟ (4)

# SCHOOL BASED ASSESSMENT 2023

## MODEL PAPER

### GRADE 4

## ISLAMIAT PART – A (Objective Type)

[Part A: 50 Marks Part B: 50 Marks Total: 100 Marks]



School : \_\_\_\_\_

Tehsil : \_\_\_\_\_

District: \_\_\_\_\_

Student Name : \_\_\_\_\_

Section : \_\_\_\_\_

Roll Number : \_\_\_\_\_

Date : \_\_\_\_\_

### General Instructions for students :

طلبہ کے لیے عمومی ہدایات:

1) Use mask & keep at least 3 ft. distance from each other.

۱۔ ماسک پہنیں اور آپس میں کم از کم 3 فٹ کا فاصلہ رکھیں۔

2) Read carefully and attempt all questions.

۲۔ غور سے پڑھیں اور تمام سوالات حل کریں۔

3) Encircle the correct option of each of the Multiple Choice Questions (MCQs) as shown in the example given below.

۳۔ ہر کثیر الانتخابی سوال کے صحیح جواب پر دائرہ لگائیں جیسا کہ نیچے دی گئی مثال میں دکھایا گیا ہے۔

مثال : مسلمانوں پر روزانہ کتنی نمازیں فرض ہیں؟

Example : How many Salah are obligatory for Muslims in a day?

Four

(b) چار

Three

(a) تین

Six

(d) چھ

Five

(c) پانچ

4) If more than one options are encircled in a question, no mark will be given.

۴۔ اگر کسی سوال میں ایک سے زیادہ جوابات کے گرد دائرہ لگایا گیا تو کوئی نمبر نہیں دیا جائے گا۔

Total Marks: 50

Part-A (Multiple Choice Questions)

Total Time: 1 Hour

Instructions: Twenty-five (25) Multiple Choice Questions (MCQs) are given in this part. Each question carries two marks.

ہدایات: اس حصہ میں 25 کثیر الانتخابی سوالات دیے گئے ہیں۔ ہر سوال کے 2 نمبر ہیں۔

Question No.1 :

According to Hadith of Rasoolullah وسلم و اصحابہ و علی آلہ و سلم "nothing is dear to Allah Almighty" more than:

سوال نمبر 1: حدیث نبوی صلی اللہ علیہ و علی آلہ و اصحابہ وسلم کے مطابق اللہ تعالیٰ کے نزدیک کوئی چیز عزیز نہیں ہے:

(a) medicine

دوا سے زیادہ

(b) home

گھر سے زیادہ

(c) creatures

مخلوق سے زیادہ

(d) dua

دعا سے زیادہ

Question No.2 :

The most humility shows in the part of Salah:

سوال نمبر 2: نماز میں سب سے زیادہ عاجزی و انکساری کا اظہار ہوتا ہے:

(a) in Qayam

قیام کی حالت میں

(b) in Ruku

رکوع کی حالت میں

(c) in Sajda

سجدہ کی حالت میں

(d) in Tashahud

تشہد کی حالت میں

Question No.3 :

On entering to masjid, we should pray:

سوال نمبر 3: ہمیں مسجد میں داخل ہوتے وقت دعا پڑھنی چاہیے:

(a) اللهم رب زدنی علما

(b) اللهم افتح لی ابواب رحمتک

(c) اللهم باسمک اموت واحیا

(d) اللهم انی اسئلك من فضلک و رحمتک

**Question No.4 :** Angels were created from:

سوال نمبر 4: فرشتوں کی تخلیق ہوئی:

- (a) fire سے آگ سے (b) clay مٹی سے (c) water پانی سے (d) light نور سے

**Question No.5 :** The main reason for the decline of Muslims is:

سوال نمبر 5: مسلمانوں کے زوال کا بڑا سبب ہے:

- (a) weak economy کمزور معیشت (b) lack of technology ٹیکنالوجی کا فقدان  
(c) lack of man power افرادی قوت کا فقدان (d) avoidance from the Qur'an قرآن سے دوری

**Question No.6 :** The best night of Ramadan-ul-Mubarak is:

سوال نمبر 6: رمضان المبارک کی افضل ترین رات ہے:

- (a) night of Jumatul Wida جمعۃ الوداع کی رات (b) every night of the last ten days آخری عشرے کی ہر رات  
(c) every night of Ramadan رمضان المبارک کی ہر رات (d) Lailat-ul-Qadar لیلة القدر

**Question No.7 :** According to verse of Holy Quran: Allah Almighty "ترجمہ: "وہی تو ہے جس نے سب چیزیں جو زمین میں ہیں تمہارے لئے پیدا کیں has created everything on earth for:

سوال نمبر 7: ارشاد باری تعالیٰ: ترجمہ: "وہی تو ہے جس نے سب چیزیں جو زمین میں ہیں تمہارے لئے پیدا کیں" کی رو سے اللہ تعالیٰ نے زمین میں موجود سب چیزیں پیدا کیں:

- (a) jinn جنوں کے لئے (b) human انسانوں کے لئے  
(c) angels فرشتوں کے لئے (d) birds پرندوں کے لئے

**Question No.8 :** The Holy Quran should be recited:

سوال نمبر 8: قرآن مجید کو پڑھنا چاہیے:

- (a) on holiday چھٹی کے دن (b) regularly باقاعدگی سے  
(c) in Ramadan رمضان میں (d) on Eid day عید کے دن

**Question No.9 :** In the event of revelation, Hazrat Khadija رضي الله تعالى عنها واصحابه وسلم take Rasoolullah صلى الله عليه وعلى آله واصحابه وسلم كوله كئیں:

سوال نمبر 9: نزول وحی کے واقعہ میں حضرت خدیجہ رضی اللہ تعالیٰ عنہا حضور اکرم صلی اللہ علیہ وعلیٰ آلہ واصحابہ وسلم کو لے کے گئیں:

- (a) Warqa bin Nawfal ابو طالب کے پاس (b) Abu Talib سرداران قریش کے پاس  
(c) Abu Sufyan ابو سفیان کے پاس (d) chiefs of Quraysh

**Question No.10 :** As a student, how can you preach Islam in your school?

سوال نمبر 10: بحیثیت ایک طالب علم آپ اپنے سکول میں اسلام کی تبلیغ کیسے کر سکتے ہیں؟

- (a) By playing کھیل کر (b) By precious dressing اچھا لباس پہن کر  
(c) By telling good things to students طلباء کو اچھی باتیں بتا کر (d) By studying hard پڑھائی میں دل لگا کر

**Question No.11 :** Leaving home in the way of Allah Almighty is called:

سوال نمبر 11: اللہ تعالیٰ کی راہ میں گھر بار چھوڑنا کہلاتا ہے:

- (a) fight لڑائی (b) defeat شکست (c) victory فتح (d) emigration ہجرت

**Question No.12 :** Rasoolullah صلى الله عليه وعلى آله واصحابه وسلم taught us by facing the most difficult circumstances of Sheb e Abi Talib:

سوال نمبر 12: رسول اللہ صلی اللہ علیہ وعلیٰ آلہ واصحابہ وسلم نے شعب ابی طالب کے مشکل ترین حالات برداشت کر کے ہمیں درس دیا کہ:

- (a) not to leave the path of truth حق کے راستے کو نہ چھوڑا جائے  
(b) to work for the welfare of the society معاشرے کی فلاح و بہبود کے لیے کام کیا جائے  
(c) to raise our voice against oppression ظلم کے خلاف آواز بلند کی جائے  
(d) to make things easier for the people لوگوں کے لیے آسانیاں پیدا کی جائیں

**Question No.13 :** In spite of the oppression of the people of Taif, do not curse them for death, it shows Rasoolullah صلی اللہ علیہ وسلم  
آلہ واصحابہ وسلم:

سوال نمبر 13: طائف والوں کے ظلم و ستم کے باوجود ان کے لیے ہلاکت کی بددعا نہ کرنا ظاہر کرتا ہے آپ صلی اللہ علیہ وسلم کے / کی:

- (a) honesty and trustworthiness صداقت و امانت کو (b) justice and fairness عدل و انصاف کو  
(c) forgiveness عفو و درگزر کو (d) zuhad o taqwa زہد و تقویٰ کو

**Question No.14 :** Wearing clean clothes that does not have textures and show-offs is:

سوال نمبر 14: صاف ستھرا لباس پہننا جس میں بناوٹ اور دکھلاوانہ ہو:

- (a) simplicity سادگی ہے (b) freshness تازگی ہے (c) worship بندگی ہے (d) prosperity کشادگی ہے

**Question No.15 :** Avoid attending such meetings that urge us on:

سوال نمبر 15: ایسی مجالس میں جانے سے اجتناب کرنا چاہیے جو ہمیں آمادہ کریں:

- (a) hardworking محنت پر (b) evil برائی پر (c) struggle جدوجہد پر (d) support حمایت پر

**Question No.16 :** The translation of the Hadith of Rasoolullah وسلم واصحابہ وعلی آلہ وعلیہ وسلم is:

سوال نمبر 16: حدیث نبوی صلی اللہ علیہ وسلم " الصلاة علی وقتہا " کا ترجمہ ہے:

- (a) perform the prayer in time نماز کو اس کے وقت پر ادا کرو  
(b) prayer is the ascension of believer نماز مومن کی معراج ہے  
(c) prayer differentiates between a believer and disbeliever نماز مومن اور کافر میں فرق کرتی ہے  
(d) prayer is the coolness of my eyes نماز میری آنکھوں کی ٹھنڈک ہے

**Question No.17 :** The one who betrays the trust is called:

سوال نمبر 17: امانت میں خیانت کرنے والے کو کہتے ہیں:

- (a) deceptor مکار (b) dis-honest بد دیانت (c) big liar کذاب (d) sinner مفلس

**Question No.18 :** According to the Hadith, the woman was forgiven by watering which animal?

سوال نمبر 18: حدیث مبارکہ کے مطابق عورت کی بخشش کس جانور کو پانی پلانے سے ہوئی؟

- (a) Dog کتا (b) Cat بلی (c) Goat بکری (d) Cow گائے

**Question No.19 :** We should not have to anyone on the basis of any religion, sect, nation, community or province:

سوال نمبر 19: ہمیں چاہیے کہ کسی بھی مذہب، فرقہ، قوم، برادری اور صوبے کی بنیاد پر کسی سے نہ کریں:

- (a) equal behavior برابر کی سلوک (b) kind behaviour رحم دلی کا سلوک  
(c) compassionate behaviour ہمدردی کا سلوک (d) discriminating behavior امتیازی سلوک

**Question No.20 :** Jad-ul-Ambiya means:

سوال نمبر 20: جد الا انبیاء کا مطلب ہے انبیاء علیہم السلام کے:

- (a) grandfather of Ambiya انبیاء کے دادا (b) teacher of Ambiya انبیاء کے استاد  
(c) companion of Ambiya انبیاء کے ساتھی (d) student of Ambiya انبیاء کے شاگرد

**Question No.21 :** The nation of Moosa علیہ السلام "Bani Israel" were the children of:

سوال نمبر 21: حضرت موسیٰ علیہ السلام کی قوم "بنی اسرائیل" اولاد تھی:

- (a) Hazrat Yahya علیہ السلام کی حضرت یحییٰ علیہ السلام کی (b) Hazrat Yaqub علیہ السلام کی حضرت یعقوب علیہ السلام کی  
(c) Hazrat Yousuf علیہ السلام کی حضرت یوسف علیہ السلام کی (d) Hazrat Yunus علیہ السلام کی حضرت یونس علیہ السلام کی

**Question No.22 :** The lesson gained from the bahviour of Hazrat Umar's رضی اللہ عنہ sister is that hearts softens due to:

سوال نمبر 22: حضرت عمر فاروق رضی اللہ عنہ کی بہن کے طرز عمل سے سبق ملتا ہے کہ دل نرم پڑ جاتے ہیں:

- (a) perseverance استقامت اختیار کرنے سے (b) shouting شور مچانے سے  
(c) conviction قناعت اختیار کرنے سے (d) bravery شجاعت دکھانے سے

Question No.23 :

Hazrat Usman's dedication a well for the people of Madina is a great example of:

سوال نمبر 23: حضرت عثمان غنی رضی اللہ تعالیٰ عنہ کا کنواں خرید کر وقف کرنا اعلیٰ مثال ہے:

(a) generosity

سخاوت کی

(b) reconnectedivity

صلہ رحمی کی

(c) contentment

قناعت کی

(d) moderate spending

کفایت شعاری کی

Question No.24 :

One of the environmental issues is:

سوال نمبر 24: ماحولیاتی آلودگی کا سبب ہے:

(a) falling leaves in autumn

موسم خزاں میں پتوں کا گرنا

(b) garbage dumping on the ground

کچرا زمین پر گرانا

(c) strong winds below

تیز آندھیوں کا چلنا

(d) defecation of living beings

جانداروں کی قضاء حاجت

Question No.25 :

Most of the world's population does not have access to basic necessities of having:

سوال نمبر 25: دنیا کی بیشتر آبادی کو بنیادی ضروریات میں پینے کے لیے میسر نہیں:

(a) milk

دودھ

(b) butter milk

لسی

(c) clean water

صاف پانی

(d) juice

جوس

# SCHOOL BASED ASSESSMENT 2023

## MODEL PAPER

### GRADE 4

## MATHEMATICS PART – B (Subjective Type)

[Part A: 50 Marks Part B: 50 Marks Total: 100 Marks]



School : \_\_\_\_\_  
Tehsil : \_\_\_\_\_ District: \_\_\_\_\_

Student Name : \_\_\_\_\_ Section : \_\_\_\_\_

Roll Number : \_\_\_\_\_ Date : \_\_\_\_\_

#### General Instructions for students :

1. Read carefully and attempt all questions.

۱۔ غور سے پڑھیں اور تمام سوالات حل کریں۔

2. A question can consist of one or more parts.

۲۔ ایک سوال ایک یا ایک سے زیادہ حصوں پر مشتمل ہو سکتا ہے۔

3. Use black/blue ink for writing answers in separate answer sheet. Use of lead pencil is not allowed.

۳۔ جواب لکھنے کے لیے الگ سے جوابی کاپی میں کالی / نیلی روشنائی کا استعمال کریں۔ کچی پنسل کے استعمال کی اجازت نہیں ہے۔

Total Marks: 50

Part-B (Constructed Response Questions)

Total Time: 1 Hour 45 Minutes

#### Question No: 1

سوال نمبر 1

a) Solve  $24\ 639 \times 687$  (5 marks)

(a) حل کریں  $24\ 639 \times 687$  (5 نمبر)

b) 3648 kg of rice packed in 96 bags. How many kilogram of rice is packed in one bag? (5 marks)

(b) 3648 کلو گرام چاولوں کو 96 تھیلوں میں پیک کیا گیا ہے۔ ایک تھیلے میں کتنے کلو گرام چاول آئیں گے؟ (5 نمبر)

#### Question No: 2

سوال نمبر 2

a) Write any five prime numbers between 30 and 70. (5 marks)

(a) 30 اور 70 کے درمیان آنے والے کوئی سے پانچ مفرد اعداد لکھیں۔ (5 نمبر)

b) Nabeel's age is  $\frac{1}{4}$  of his father's age. If his father's age is 48 years. How old Nabeel is? (5 marks)

(b) نبیل کی عمر اس کے والد کی عمر کا  $\frac{1}{4}$  ہے، اگر اس کے والد کی عمر 48 سال ہو تو نبیل کی عمر کیا ہو گی؟ (5 نمبر)

#### Question No: 3

سوال نمبر 3

a) Saba uses 11.5 ml oil to bake a cake. How much oil will she use to bake 10 such cakes? (5 marks)

(a) صبا ایک کیک بنانے کے لیے 11.5 ملی لٹر تیل استعمال کرتی ہے۔ بتائیں وہ ایسے 10 کیک بنانے کے لیے کتنا تیل استعمال کرے گی؟ (5 نمبر)

b) Sana has two containers. The capacity of one container is 45l 230ml and the other is 60l 220ml. What is the total capacity of the both containers? (5 marks)

(b) سنا کے پاس دو برتن ہیں۔ ایک برتن کی گنجائش 45 لٹر 230 ملی لٹر ہے اور دوسرے کی 60 لٹر 220 ملی لٹر ہے۔ دونوں برتنوں کی کل گنجائش کتنی ہے؟ (5 نمبر)

#### Question No: 4

سوال نمبر 4

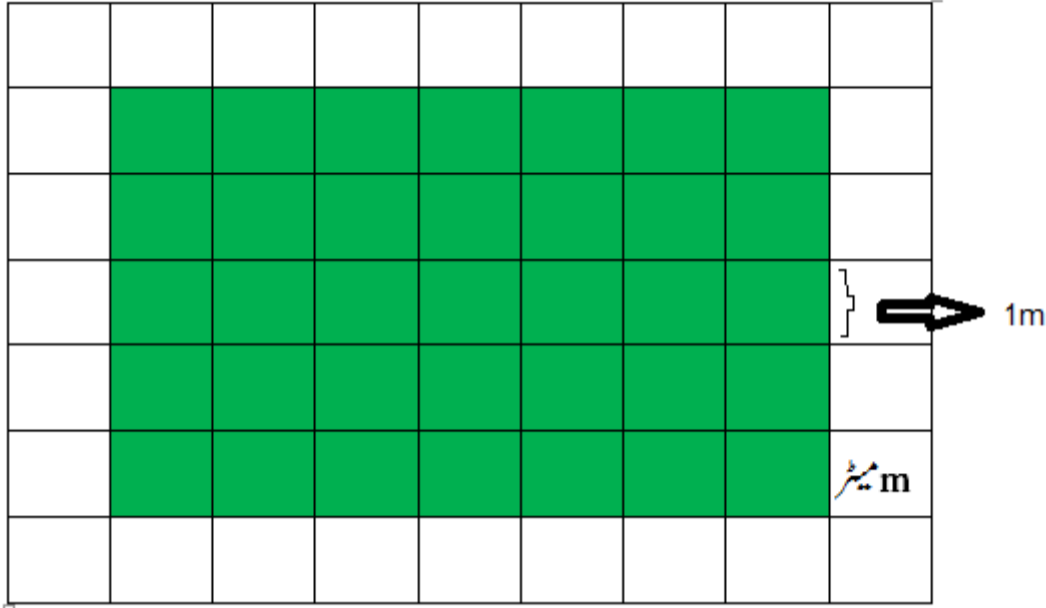
a) Construct an angle of  $\angle 65^\circ$ .

(a)  $\angle 65^\circ$  کا زاویہ بنائیں۔

b) Find the perimeter of the shaded part of the given figure. (5 marks)

(1 square grid =  $1m^2$ )

(b) دی گئی شکل کے سایہ دار حصے کا احاطہ معلوم کریں۔  
(1 مربع میٹر =  $1m^2$ )




Question No: 5

سوال نمبر 5

a) Write the number of surfaces and edges of the given figure. (5 marks)

(a) دی گئی شکل کی سطحوں اور کناروں کی تعداد لکھیں۔ (5 نمبر)

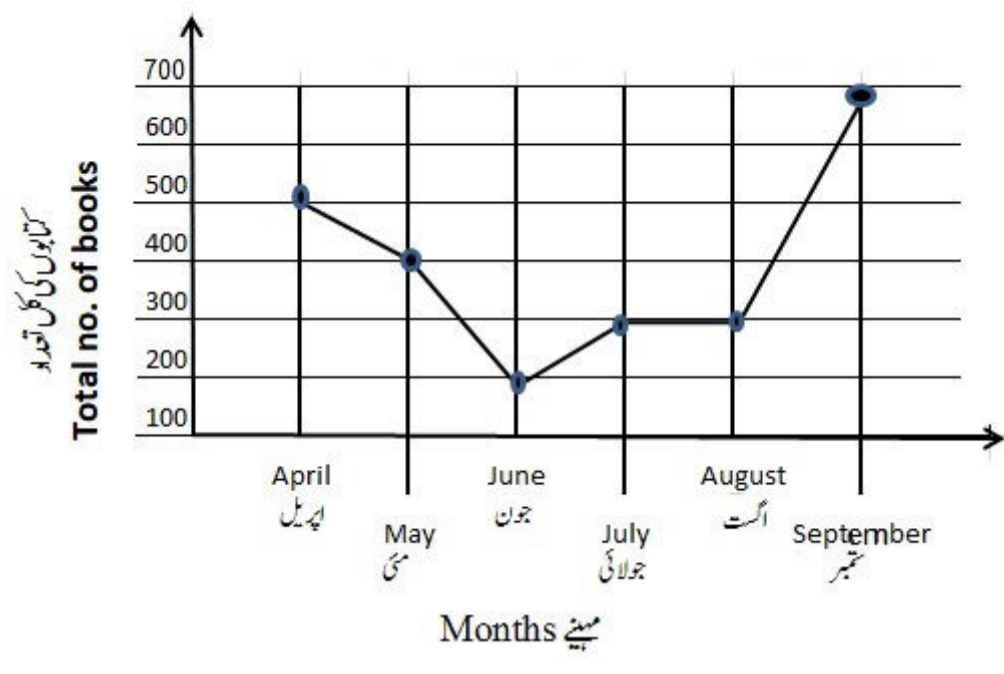


b) In a school, the number of books bought for library in six months, is shown in the line graph. Read the graph carefully to answer given questions. (5 Marks)

1. In which month did the minimum number of books buy and how much?
2. Which two months had the same number of books and how much?

(b) ایک سکول کی لائبریری کے لیے چھ ماہ کے دوران جو کتابیں خریدی گئیں انہیں لائن گراف کے ذریعے دکھایا گیا ہے۔ دیے گئے سوالات کے جوابات دینے کے لیے گراف کو غور سے پڑھیں۔ (5 نمبر)

1. کس مہینے میں سب سے کم کتابیں خریدی گئیں اور ان کی تعداد کیا ہے؟
2. کون سے دو مہینوں میں کتابوں کی تعداد ایک جیسی تھی، اور ان کی تعداد کیا ہے؟





# SCHOOL BASED ASSESSMENT 2023

## MODEL PAPER

### GRADE 4

## MATHEMATICS PART – A (Objective Type)

[Part A: 50 Marks Part B: 50 Marks Total: 100 Marks]



School : \_\_\_\_\_  
Tehsil : \_\_\_\_\_ District: \_\_\_\_\_

Student Name : \_\_\_\_\_ Section : \_\_\_\_\_  
Roll Number : \_\_\_\_\_ Date : \_\_\_\_\_

### General Instructions for students :

طلبہ کے لیے عمومی ہدایات:

1) Use mask & keep at least 3 ft. distance from each other.

۱۔ ماسک پہنیں اور آپس میں کم از کم 3 فٹ کا فاصلہ رکھیں۔

2) Read carefully and attempt all questions.

۲۔ غور سے پڑھیں اور تمام سوالات حل کریں۔

3) Encircle the correct option of each of the Multiple Choice Questions (MCQs) as shown in the example given below.

۳۔ ہر کثیر الانتخابی سوال کے صحیح جواب پر دائرہ لگائیں جیسا کہ نیچے دی گئی مثال میں دکھایا گیا ہے۔

Example :  $64 \div 8 =$

a) 4                      b) 6                      c) 8                      d) 12

4) If more than one options are encircled in a question, no mark will be given.

۴۔ اگر کسی سوال میں ایک سے زیادہ جوابات کے گرد دائرہ لگایا گیا تو کوئی نمبر نہیں دیا جائے گا۔

Total Marks: 50

Part-A (Multiple Choice Questions)

Total Time: 1 Hour

Instructions: Twenty five (25) Multiple Choice Questions (MCQs) are given in this paper. Each question carries 2 marks.

ہدایات : اس پیپر میں پچیس (25) کثیر الانتخابی سوالات دیے گئے ہیں۔ ہر سوال کے 2 نمبر ہیں۔

Question No.1 : The number 58,934 in words is:

سوال نمبر 1: عدد 58,934 لفظوں میں ہے۔

(a) Fifty-eight thousand, ninety three hundred and four

اٹھاون ہزار ترانوے سو چار

(b) Fifty-eight thousand, nine hundred and thirty-four

اٹھاون ہزار نو سو چونتیس

(c) Fifty eight thousand and thirty four

اٹھاون ہزار چونتیس

(d) Five thousand nine hundred and thirty four

پانچ ہزار نو سو چونتیس

Question No.2 : Solve  $5\ 825 + 1\ 916$

سوال نمبر 2: حل کریں  $5\ 825 + 1\ 916$

(a) 6,471

(b) 6,741

(c) 7,741

(d) 7,771

Question No.3 : Solve  $80\ 345 - 35\ 630$

سوال نمبر 3: حل کریں  $80\ 345 - 35\ 630$

(a) 44 715

(b) 45 315

(c) 54 315

(d) 55 710

**Question No.4 :** Population of different areas of Lahore is given below. Tell the total population of these areas.

Area	Model Town	Wapda Town	Johar Town	Allama Iqbal Town
Population	89,567	79,422	90,453	95,529

سوال نمبر 4: مندرجہ ذیل جدول میں لاہور کے مختلف علاقوں کی آبادی دی گئی ہے۔ بتائیں ان علاقوں کی کل آبادی کتنی ہے۔

علاقہ	ماڈل ٹاؤن	واپڈا ٹاؤن	جوہر ٹاؤن	علامہ اقبال ٹاؤن
آبادی	89,567	79,422	90,453	95,529

(a) 345,871

(b) 345,971

(c) 354,871

(d) 354,971

**Question No.5 :** 2064 biscuits are packed in 24 boxes, the number of biscuits in each box will be:

سوال نمبر 5: 2064 بسکٹوں کو 24 ڈبوں میں پیک کیا گیا ہے، ہر ڈبے میں بسکٹوں کی تعداد ہوگی۔

(a) 48

(b) 64

(c) 86

(d) 96

**Question No.6 :** The next term in given sequence 58, 48, 38, \_\_\_\_\_ is:

سوال نمبر 6: نمونے 58, 48, 38, \_\_\_\_\_ کی اگلی رقم ہے۔

(a) 48

(b) 28

(c) 18

(d) 8

**Question No.7 :** The number 52 is completely divisible by:

سوال نمبر 7: عدد 52 پورا پورا تقسیم ہوتا ہے۔

(a) 2

(b) 3

(c) 5

(d) 6

**Question No.8 :** The prime number is:

سوال نمبر 8: مفرد عدد ہے۔

(a) 45

(b) 47

(c) 49

(d) 51

**Question No.9 :** Prime factors of 42 are:

سوال نمبر 9: 42 کے مفرد اجزائے ضربی ہیں۔

(a) 2, 3, 5

(b) 2, 3, 7

(c) 2, 3, 9

(d) 2, 3, 11

**Question No.10 :** Which of the following fractions are like factors?

سوال نمبر 10: مندرجہ ذیل میں سے کون سی کسور ہم مخرج کسور ہیں؟

(a)  $\frac{1}{3}, \frac{2}{3}$

(b)  $\frac{1}{4}, \frac{3}{7}$

(c)  $\frac{3}{8}, \frac{5}{6}$

(d)  $\frac{1}{2}, \frac{3}{5}$

**Question No.11 :** The ascending order of  $\frac{3}{8}, \frac{1}{4}, \frac{6}{8}$  is:

سوال نمبر 11:  $\frac{3}{8}, \frac{1}{4}, \frac{6}{8}$  کی صعودی ترتیب ہے۔

(a)  $\frac{1}{4}, \frac{3}{8}, \frac{6}{8}$

(b)  $\frac{1}{4}, \frac{6}{8}, \frac{3}{8}$

(c)  $\frac{3}{8}, \frac{6}{8}, \frac{1}{4}$

(d)  $\frac{6}{8}, \frac{1}{4}, \frac{3}{8}$

**Question No.12 :** Solve  $\frac{1}{5} + \frac{4}{5}$

سوال نمبر 12: حل کریں  $\frac{1}{5} + \frac{4}{5}$

(a)  $\frac{1}{5}$

(b)  $\frac{3}{5}$

(c)  $\frac{4}{5}$

(d) 1

**Question No.13 :** Solve  $\frac{8}{9} - \frac{4}{9}$

سوال نمبر 13: حل کریں  $\frac{8}{9} - \frac{4}{9}$

(a)  $\frac{4}{9}$

(b)  $\frac{8}{9}$

(c)  $\frac{12}{18}$

(d)  $\frac{4}{18}$

**Question No.14 :** Solve  $\frac{5}{8} \times 16$

سوال نمبر 14: حل کریں  $\frac{5}{8} \times 16$

(a) 5

(b) 10

(c) 15

(d) 20

Question No.15 : Place value of 3 In 2.36 is:

سوال نمبر 15: عدد 2.36 میں 3 کی مقامی قیمت ہے۔

- (a) 0.003 (b) 0.03  
(c) 0.3 (d) 30

Question No.16 : Solve  $5.63 + 2.82$

سوال نمبر 16: حل کریں  $5.63 + 2.82$

- (a) 5.48 (b) 5.84  
(c) 8.45 (d) 8.54

Question No.17 : Solve  $12.5 \times 100$

سوال نمبر 17: حل کریں  $12.5 \times 100$

- (a) 125 (b) 1.25  
(c) 1250 (d) 0.125

Question No.18 : Anila has 7.6 meter long cloth. If she divides it into 4 equal pieces, then length of each piece will be:

سوال نمبر 18: انیلا کے پاس 7.6 میٹر لمبا کپڑا ہے۔ اگر وہ اس کو 4 برابر حصوں میں تقسیم کرے تو ہر حصے کی لمبائی ہوگی۔

- (a) 1.6 m (b) 1.7 m  
(c) 1.8 m (d) 1.9 m

Question No.19 : Solve  $76\text{km} + 29\text{km}$

سوال نمبر 19: حل کریں  $76$  کلومیٹر +  $29$  کلومیٹر

- (a) 100km (b) 105km  
(c) 110km (d) 115km

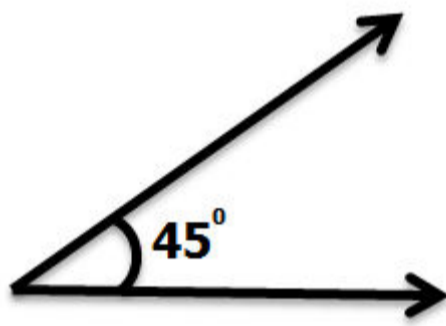
Question No.20 : 6 hours =

سوال نمبر 20: 6 گھنٹے =

- (a) 300min (b) 320min  
(c) 340min (d) 360min

Question No.21 : The angle in the given figure is:

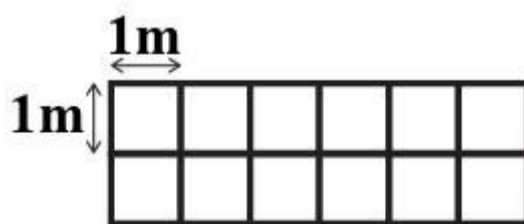
سوال نمبر 21: دی گئی شکل میں زاویہ ہے۔



- (a) Acute (b) Right  
(c) Obtuse (d) Straight

Question No.22 : Area of the given figure is:

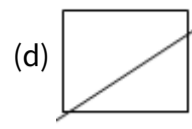
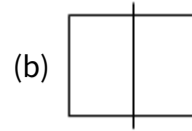
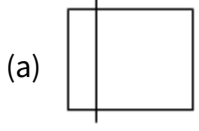
سوال نمبر 22: دی گئی شکل کا رقبہ ہے۔



- (a)  $10 m^2$  (b)  $12 m^2$   
(c)  $14 m^2$  (d)  $16 m^2$

Question No.23 : Which of following figure has the line of symmetry?

سوال نمبر 23: درج ذیل میں سے کس شکل میں خط تشاکل موجود ہے؟



Question No.24 : The number of surfaces in given cuboid is:

سوال نمبر 24: دی گئی مکعب نما شکل میں سطحوں کی تعداد ہے۔



(a) 4

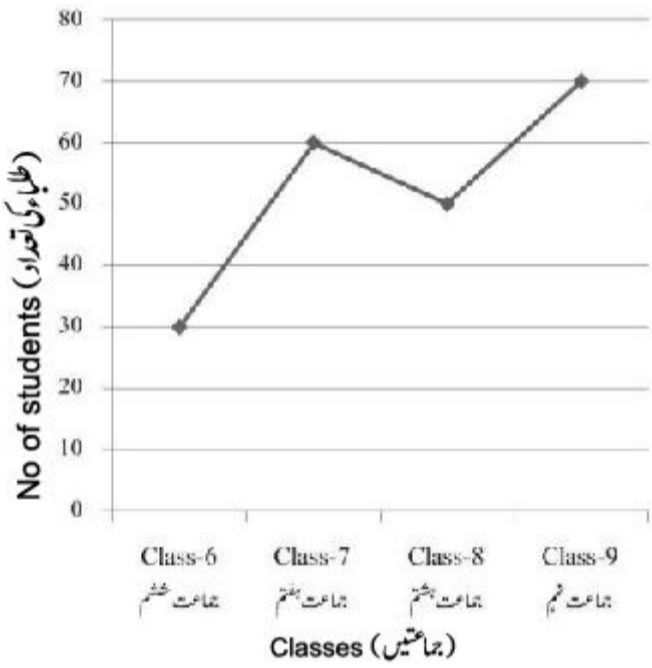
(b) 6

(c) 8

(d) 12

Question No.25 : Given line graph shows the number of students in different classes. In which class number of students are minimum?

سوال نمبر 25: دیا گیا لائن گراف مختلف جماعتوں میں طلباء کی تعداد کو ظاہر کرتا ہے۔ کس جماعت میں سب سے کم طلباء ہیں؟



(a) Class-6

جماعت ششم

(b) Class-7

جماعت ہفتم

(c) Class-8

جماعت ہشتم

(d) Class-9

جماعت نہم



**SCHOOL BASED ASSESSMENT 2023**  
**MODEL PAPER**  
**GRADE 4**



**SCIENCE PART – B (Subjective Type)**

[Paper A: 50 Marks, Paper B: 50 Marks, Total: 100 Marks]

School : \_\_\_\_\_  
Tehsil : \_\_\_\_\_ District: \_\_\_\_\_

Student Name : \_\_\_\_\_ Section : \_\_\_\_\_

Roll Number : \_\_\_\_\_ Date : \_\_\_\_\_

**General Instructions for students :**

طلبا کے لیے عمومی ہدایات:

1. Use separate answer sheet for writing answers and give your personal information on it as well.  
۱. جوابات لکھنے کے لیے علیحدہ سے جوابی کاپی کا استعمال کریں اور اس کے اوپر بھی اپنے بارے میں معلومات دیں۔
2. Read carefully and attempt all questions.  
۲. غور سے پڑھیں اور تمام سوالات حل کریں۔
3. A question can consist of one or more parts.  
۳. ایک سوال ایک یا ایک سے زیادہ حصوں پر مشتمل ہو سکتا ہے۔
4. Use black/blue ink for writing answers. Use of lead pencil is not allowed.  
۴. جواب لکھنے کے لیے کالی/ نیلی روشنائی کا استعمال کریں۔ کچی پنسل کے استعمال کی اجازت نہیں ہے۔

**Total Marks: 50**

**Part-B (Constructed Response Questions)**

**Total Time: 1 Hour 45 Minutes**

**Question No: 1**

سوال نمبر 1

a) How does a new plant germinate? (2 Marks)

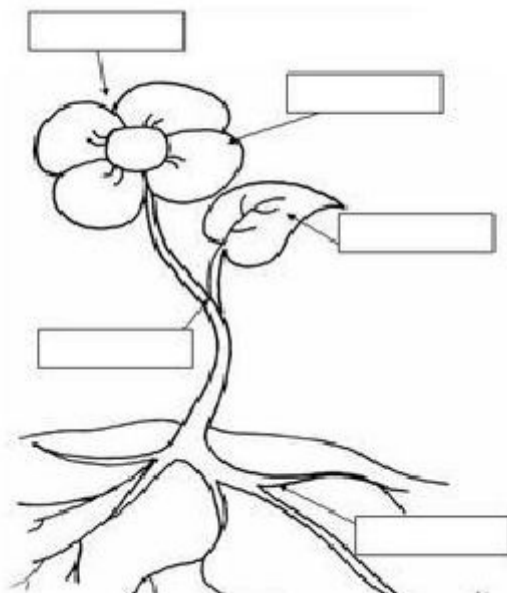
(a) نیا پودا کیسے اگتا ہے؟ (2)

b) What is the colour of leaves and write their important function? (1+2=3 Marks)

(b) پتوں کا رنگ کیا ہوتا ہے اور ان کا اہم کام لکھیں؟ (3)

c) Label the different parts of a flowering plant given in the diagram. (5 Marks)

(c) ڈایا گرام میں دیے گئے پھولدار پودے کے مختلف حصوں کو لیبل کریں۔ (5)



Question No: 2

سوال نمبر 2

a ) Define balanced diet. (2 Marks)

(a) متوازن خوراک کی تعریف کریں۔ (2)

b ) Describe any two groups of a balanced diet. (4 Marks )

(b) متوازن غذا کے کوئی سے دو گروپ بیان کریں۔ (4)

c ) Write any four ways of maintaining good health. (4 Marks)

(c) اچھی صحت کو برقرار رکھنے کے چار طریقے لکھیں۔ (4)

Question No: 3

سوال نمبر 3

a ) Define heat. How does it transfer from one place to another? (2+2= 4 Marks)

(a) ہیٹ کی تعریف کریں۔ یہ کس طرح ایک جگہ سے دوسری جگہ منتقل ہوتی ہے؟ (4)

b ) Why does a solid ice cream turn into a liquid after some time? (3 Marks)

(b) ٹھوس آئس کریم کچھ عرصے بعد مائع کیوں بن جاتی ہے؟ (3)

c ) Ali is suffering from a fever. He visits the doctor and the doctor records his temperature. (3 Marks)

a) Which instrument is used by the doctor?

b) How that instrument works to show Ali's body temperature?

c) Which unit of temperature is used to measure fever?

(c) علی بخار میں مبتلا ہے۔ وہ ڈاکٹر کے پاس جاتا ہے اور ڈاکٹر اس کا درجہ حرارت ریکارڈ کرتا ہے۔ (3)

(a) ڈاکٹر کون سا آلہ استعمال کرتا ہے؟

(b) یہ آلہ علی کے جسمانی درجہ حرارت کو ظاہر کرنے کے لیے کیسے کام کرتا ہے؟

(c) درجہ حرارت کی کونسی اکائی بخار کی پیمائش کے لیے استعمال ہوتی ہے؟

Question No: 4

سوال نمبر 4

a ) What is first aid? (2 Marks)

(a) ابتدائی طبی امداد کیا ہے؟ (2)

b ) What is the purpose of first aid? (2 Marks)

(b) ابتدائی طبی امداد کا مقصد کیا ہے؟ (2)

c ) What is the handbook of first aid? Write names of four items for the first aid box. (2 + 4 Marks)

(c) فرسٹ ایڈ کی ہینڈ بک کیا ہے؟ فرسٹ ایڈ باکس کے لیے چار چیزوں کے نام لکھیں۔ (6)

Question No: 5

سوال نمبر 5

a ) Define the following: (2 Marks)

A. Crescent

B. Moon

(a) مندرجہ ذیل کی تعریف کریں۔ (2)

۱. ہلال

۲. چاند

b ) Give the reasons of the following facts. (2 Marks)

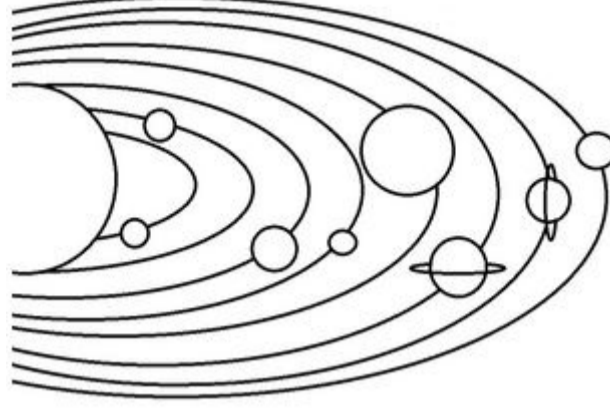
- Why sun looks bigger than other stars?
- Why duration of day on each planet is different?

(b) مندرجہ ذیل حقائق کی وجوہات بیان کریں۔ (2)

- سورج دوسرے ستاروں سے بڑا کیوں دکھتا ہے؟
- ہر سیارے پر دن کے اوقات مختلف کیوں ہیں؟

c) Label any six planets given in the following diagram. (6 Marks)

(c) تصویر میں دیے گئے کوئی سے چھ سیاروں کے نام لکھیں۔ (6)





# SCHOOL BASED ASSESSMENT 2023

## MODEL PAPER

### GRADE 4

## SCIENCE PART – A (Objective Type)

[Paper A: 50 Marks, Paper B: 50 Marks, Total: 100 Marks]



School : \_\_\_\_\_  
Tehsil : \_\_\_\_\_ District: \_\_\_\_\_

Student Name : \_\_\_\_\_ Section : \_\_\_\_\_  
Roll Number : \_\_\_\_\_ Date : \_\_\_\_\_

### General Instructions for students :

طلباء کے لیے عمومی ہدایات:

1) Use mask & keep at least 3 ft. distance from each other.

۱۔ ماسک پہنیں اور آپس میں کم از کم 3 فٹ کا فاصلہ رکھیں۔

2) Read carefully and attempt all questions.

۲۔ غور سے پڑھیں اور تمام سوالات حل کریں۔

3) Encircle the correct option of each of the Multiple Choice Questions (MCQs) as shown in the example given below.

۳۔ ہر کثیر الانتخابی سوال کے صحیح جواب پر دائرہ لگائیں جیسا کہ نیچے دی گئی مثال میں دکھایا گیا ہے۔

### Example : Covid-19 is caused by:

مثال : کووڈ-19 کی وجہ ہے :

a) bacteria بیکٹیریا

b) fungi فنجائی

c) virus وائرس

d) algae الگی

4) If more than one options are encircled in a question, no mark will be given.

۴۔ اگر کسی سوال میں ایک سے زیادہ جوابات کے گرد دائرہ لگایا گیا تو کوئی نمبر نہیں دیا جائے گا۔

Total Marks: 50

Part-A (Multiple Choice Questions)

Total Time: 1 Hour

Instructions: Twenty-five (25) Multiple Choice Questions (MCQs) are given in this paper. Each question carries two marks.

ہدایات: اس پرچہ میں پچیس (25) کثیر الانتخابی سوالات دیے گئے ہیں۔ ہر سوال کے دو نمبر ہیں۔

Question No.1 : Which part of body is responsible for smell?

سوال نمبر 1: جسم کا کون سا حصہ سونگھنے کا ذمہ دار ہے؟

(a) Teeth

دانت

(b) Heart

دل

(c) Tongue

زبان

(d) Nose

ناک

Question No.2 : Identify the X labelled part of the plant body.

سوال نمبر 2: پودے کے X لیبل شدہ جسم کے حصے کی شناخت کریں۔

(a) Root

جڑ

(b) Stem

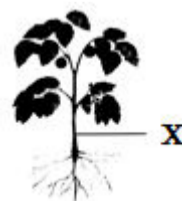
تنا

(c) Flower

پھول


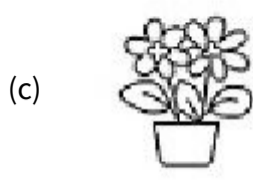
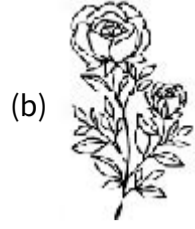
(d) Leaf

پتا



Question No.3 : Identify the non-flowering plant.

سوال نمبر 3: غیر پھول دار پودے کی شناخت کریں۔



Question No.4 : Which of the following is the biggest source of energy in a balanced ecosystem?

سوال نمبر 4: ایک متوازن ماحولیاتی نظام میں، مندرجہ ذیل میں سے انرجی کا سب سے بڑا ذریعہ کون سا ہے؟

- (a) Moon چاند (b) Water پانی (c) Mountain پہاڑ (d) Sun سورج

Question No.5 : Herbivores compete for which of the following habitat?

سوال نمبر 5: سبزی خور مندرجہ ذیل میں سے کس مسکن کے لیے مقابلہ کرتے ہیں؟

- (a) Polar region قطبی علاقہ (b) Desert صحرا (c) Water پانی (d) Grassland گھاس کا میدان

Question No.6 : A lion is a good example of predator in an ecosystem, identify its prey from the following.

سوال نمبر 6: شیر ماحولیاتی نظام میں شکاری کی ایک اچھی مثال ہے، درج ذیل میں سے اس کے شکار کی شناخت کریں۔

- (a) Fish مچھلی (b) Deer ہرن (c) Shark شکارک (d) Lizard چھپکلی

Question No.7 : Identify the correct pair of predator-prey relationship from the following.

سوال نمبر 7: درج ذیل میں سے شکاری اور شکار کے تعلق کے درست جوڑے کی شناخت کریں۔

- (a) Fish , Rat مچھلی ، چوہا (b) Zebra , Deer زبیرا ، ہرن (c) Shark , Lizard چھپکلی (d) Goat , Grass گھاس ، بکری

Question No.8 : Identify the balanced diet group of maize and pulses.

سوال نمبر 8: مکئی اور دالیں متوازن غذا کے کون سے گروپ سے ہیں؟

- (a) Milk دودھ (b) Grain اناج (c) Meat گوشت (d) Fruit پھل

Question No.9 : Which of the following sources of food strengthens our immune system?

سوال نمبر 9: مندرجہ ذیل میں سے غذا کا کون سا ذریعہ ہمارے مدافعتی نظام کو مضبوط کرتا ہے؟

- (a) Fast food فاسٹ فوڈ (b) Chocolate چاکلیٹ (c) Fruits پھل (d) Cold drink ٹھنڈا مشروب

Question No.10 : Identify the disease which is transmitted by coughing and sneezing.

سوال نمبر 10: اس بیماری کی شناخت کریں جو چھینکنے اور کھانسنے سے منتقل ہوتی ہے۔

- (a) COVID-19 کووڈ-19 (b) Heart disease دل کی بیماری (c) Diabetes ذیابیطس (d) Kidney failure گردوں کا ناکارہ ہونا

Question No.11 : Which of the following metal is red in color?

سوال نمبر 11: مندرجہ ذیل میں سے کون سی دھات کا رنگ سرخ ہے؟

- (a) Zinc زنک (b) Chromium کرومیم (c) Copper کاپر (d) Tin ٹن

Question No.12 : We mostly use metals to make cooking utensils, Because metals are \_\_\_\_\_.

سوال نمبر 12: - کھانا پکانے کے برتن بنانے کے لیے ہم زیادہ تر دھاتیں استعمال کرتے ہیں، کیونکہ دھاتیں \_\_\_\_\_ ہوتی ہیں۔

- (a) cheap سستی (b) conductors موصل (c) costly مہنگی (d) non conductors غیر موصل

Question No.13 : Which of the followings is NOT a source of energy.

سوال نمبر 13: مندرجہ ذیل میں سے کون سا توانائی کا ذریعہ نہیں ہے۔

- (a) Wind ہوا (b) Light روشنی (c) Water پانی (d) Sound آواز

Question No.14 : Sound CANNOT travel through:

سوال نمبر 14: آواز \_\_\_\_\_ میں سے نہیں گزر سکتی۔

- (a) space خلا (b) solid ٹھوس (c) liquid مائع (d) gas گیس

**Question No.15 :** Which of the following energy is used by plants for thier growth?

سوال نمبر 15: مندرجہ ذیل میں سے کون سی توانائی پودے اپنی گروتھ کے لئے استعمال کرتے ہیں؟

- (a) Wind energy      ہوا کی توانائی      (b) Heat energy      حرارتی توانائی      (c) Light energy      روشنی کی توانائی      (d) Sound energy      صوتی توانائی

**Question No.16 :** In which power station, the energy of fast flowing water is transformed into electricity?

سوال نمبر 16: کس پاور سٹیشن میں تیز بہتے پانی کی توانائی بجلی میں تبدیل ہوتی ہے؟

- (a) Hydel power sataion      ہائیڈل پاور سٹیشن      (b) Thermal power station      تھرمل پاور سٹیشن  
(c) Solar power station      سولر پاور سٹیشن      (d) Wind power station      ونڈ پاور سٹیشن

**Question No.17 :** Igniting the match stick is an example of:

سوال نمبر 17: ماچس کی تیلی کا جلانا \_\_\_\_\_ کی ایک مثال ہے۔

- (a) force      قوت      (b) motion      حرکت  
(c) friction      رگڑ      (d) gravity      کشش ثقل

**Question No.18 :** If force is applied to an empty plastic bottle, what change will occur?

سوال نمبر 18: اگر پلاسٹک کی ایک خالی بوتل پر قوت لگائی جائے تو اس میں کون سی تبدیلی آئے گی؟

- (a) Change in width      چوڑائی میں تبدیلی      (b) Change in shape      شکل میں تبدیلی  
(c) Change in length      لمبائی میں تبدیلی      (d) Change in volume      حجم میں تبدیلی

**Question No.19 :** How we can conserve the natural resources?

سوال نمبر 19: ہم قدرتی وسائل کو کیسے بچا سکتے ہیں؟

- (a) By forestation      جنگلات لگا کر      (b) By deforestation      جنگلات کاٹ کر  
(c) By using electricity      بجلی کے استعمال سے      (d) By spreading pollution      آلودگی پھیلا کر

**Question No.20 :** The fast flowing (running) water is used for which purpose?

سوال نمبر 20: تیزی سے بہنے والے پانی کو کس کام کے لیے استعمال کرتے ہیں؟

- (a) Generate electricity      بجلی بنانے کے لیے      (b) Cook food      کھانا پکانے کے لیے  
(c) Wash clothes      کپڑے دھونے کے لیے      (d) Grow plants      پودے اگانے کے لیے

**Question No.21 :** In the temperate zone, sun rays fall:

سوال نمبر 21: معتدل زون میں سورج کی کرنیں \_\_\_\_\_ گرتی ہیں۔

- (a) vertically      عمودی      (b) diagonally      ترچھی      (c) horizantally      افقی      (d) randomly      بے ترتیب

**Question No.22 :** Earth completes its one rotation around its axis in:

سوال نمبر 22: زمین اپنے محور کے گرد ایک چکر \_\_\_\_\_ میں مکمل کرتی ہے۔

- (a) 21 Hours      21 گھنٹے      (b) 22 Hours      22 گھنٹے      (c) 23 Hours      23 گھنٹے      (d) 24 Hours      24 گھنٹے

**Question No.23 :** Which of the foolowing movements causes the formation of days and nights?

سوال نمبر 23: دن اور رات کی تشکیل کے لیے کون مندرجہ ذیل میں سے کون سی حرکت ذمہ دار ہے؟

- (a) Rotation of earth around sun      سورج کے گرد زمین کی گردش      (b) Rotaton of moon around earth      زمین کے گرد چاند کی گردش  
(c) Spinning of earth around its axis      زمین کا اپنے محور کے گرد گھومنا      (d) Spinning of moon around its axis      چاند کا اپنے محور کے گرد گھومنا

**Question No.24 :** What is the normal limit of blood pressure?


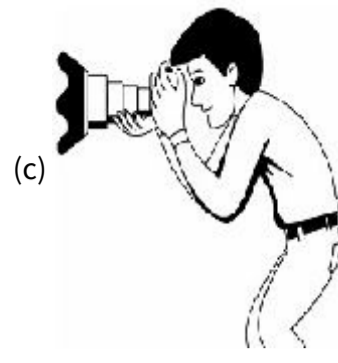


سوال نمبر 24: نارمل بلڈ پریشر کی حد کیا ہے؟

- (a) 90/130 mmHg      (b) 80/120 mmHg  
(c) 110/70 mmHg      (d) 100/140 mmHg

Question No.25 :

Which of the following is the way to taking selfi?

سوال نمبر 25: ذیل میں سے کون سا سیلفی لینے کا طریقہ ہے؟



# SCHOOL BASED ASSESSMENT 2023

## MODEL PAPER

### GRADE 4

## SOCIAL STUDIES PART – B (Subjective Type)

[Part A: 50 Marks Part B: 50 Marks Total: 100 Marks]



School : \_\_\_\_\_  
Tehsil : \_\_\_\_\_ District: \_\_\_\_\_

Student Name : \_\_\_\_\_ Section : \_\_\_\_\_

Roll Number : \_\_\_\_\_ Date : \_\_\_\_\_

#### General Instructions for students :

1. Read carefully and attempt all questions.

۱۔ غور سے پڑھیں اور تمام سوالات حل کریں۔

2. A question can consist of one or more parts.

۲۔ ایک سوال ایک یا ایک سے زیادہ حصوں پر مشتمل ہو سکتا ہے۔

3. Use black/blue ink for writing answers in separate answer sheet. Use of lead pencil is not allowed.

۳۔ جواب لکھنے کے لیے الگ سے جوابی کاپی میں کالی / نیلی روشنائی کا استعمال کریں۔ کچی پنسل کے استعمال کی اجازت نہیں ہے۔

Total Marks: 50

Part-B (Constructed Response Questions)

Total Time: 1 Hour 45 Minutes

#### Question No: 1

سوال نمبر 1

a) What is E-Mail? (02 Marks)

(a) ای میل کیا ہے؟ (نمبر 02)

b) What kind of clothes do Pakistani people wear? Explain. (Marks 05)

(b) پاکستان کی عوام کس طرح کا لباس پہنتی ہے؟ وضاحت کریں: (نمبر 05)

c) Write note on regional festivals. (Marks 03)

(c) علاقائی تہواروں پر نوٹ لکھیں؟ (نمبر 03)

#### Question No: 2

سوال نمبر 2

a) Why is a Government formed? (Marks 02)

(a) حکومت کیوں قائم کی جاتی ہے؟ (نمبر 02)

b) Write note on living style of humans in ancient times. (Marks 04)

(b) پرانے وقتوں میں انسان کے رہنے سہنے کے متعلق نوٹ لکھیں: (نمبر 04)

c) Write the difference between Rule and Law. (Marks 4)

(c) اصول اور قانون میں فرق لکھیں: (نمبر 04)

#### Question No: 3

سوال نمبر 3

a) Write about necessary elements of map. (Marks 3)

(a) نقشہ کے ضروری عناصر لکھیں: (نمبر 03)

b) Define temperature. (Marks 02)

(b) درجہ حرارت کی تعریف کریں: (نمبر 02)

c ) What is meant by the coastal areas of Pakistan? (Marks 05)

(c) پاکستان کے ساحلی علاقوں سے کیا مراد ہے؟ (نمبر 05)

Question No: 4

سوال نمبر 4

a ) What is meant by stock market? (Marks 02)

(a) سٹاک مارکیٹ سے کیا مراد ہے؟ (نمبر 02)

b ) What is meant by trading? (Marks 02)

(b) تجارت سے کیا مراد ہے؟ (نمبر 02)

c ) What is meant by natural disasters? (Marks 03)

(c) قدرتی آفات سے کیا مراد ہے؟ (نمبر 03)

d ) Write any three important imports of Pakistan. (Marks 03)

(d) پاکستان کی کوئی سی تین اہم درآمدات لکھیں: (نمبر 03)

Question No: 5

سوال نمبر 5

a ) What is a mobile phone? Write a brief note on its uses. (Marks 05)

(a) موبائل فون کیا ہے؟ اس کے استعمال پر مختصر نوٹ لکھیں: (نمبر 05)

b ) Write down the difference between letters and post cards. (5 Marks)

(b) خطوط اور پوسٹ کارڈز میں فرق تحریر کریں: (نمبر 05)

# SCHOOL BASED ASSESSMENT 2023

## MODEL PAPER

### GRADE 4

## SOCIAL STUDIES PART – A (Objective Type)

[Part A: 50 Marks Part B: 50 Marks Total: 100 Marks]



School : \_\_\_\_\_  
Tehsil : \_\_\_\_\_ District: \_\_\_\_\_

Student Name : \_\_\_\_\_ Section : \_\_\_\_\_  
Roll Number : \_\_\_\_\_ Date : \_\_\_\_\_

### General Instructions for students :

طلبہ کے لیے عمومی ہدایات:

1) Use mask & keep at least 3 ft. distance from each other.

۱۔ ماسک پہنیں اور آپس میں کم از کم 3 فٹ کا فاصلہ رکھیں۔

2) Read carefully and attempt all questions.

۲۔ غور سے پڑھیں اور تمام سوالات حل کریں۔

3) Encircle the correct option of each of the Multiple Choice Questions (MCQs) as shown in the example given below.

۳۔ ہر کثیر الانتخابی سوال کے صحیح جواب پر دائرہ لگائیں جیسا کہ نیچے دی گئی مثال میں دکھایا گیا ہے۔

Example : Which country is located in the north of Pakistan?

مثال : پاکستان کے شمال میں کون سا ملک واقع ہے؟

a) India بھارت

b) Afghanistan افغانستان

c) China چین

d) Iran ایران

4) Use black/blue ink for writing. Use of lead pencil is not allowed.

۴۔ لکھنے کے لیے کالی/ نیلی روشنائی کا استعمال کریں۔ کچی پنسل کے استعمال کی اجازت نہیں ہے۔

5) If more than one options are encircled in a question, no mark will be given.

۵۔ اگر کسی سوال میں ایک سے زیادہ جوابات کے گرد دائرہ لگایا گیا تو کوئی نمبر نہیں دیا جائے گا۔

Total Marks: 50

Part-A (Multiple Choice Questions)

Total Time: 1 Hour

Instructions: Twenty-five (25) Multiple Choice Questions (MCQs) are given in this part. Each question carries two marks.

ہدایات: اس حصہ میں پچیس (25) کثیر الانتخابی سوالات دیے گئے ہیں۔ ہر سوال کے دو نمبر ہیں۔

Question No.1 : Protection of plants and flowers in the park belongs to:

سوال نمبر 1: پارک میں موجود پودوں اور پھولوں کی حفاظت کا تعلق ہے:

(a) rights of citizen

شہری کے حقوق سے

(b) responsibilities of citizen

شہری کی ذمہ داریوں سے

(c) duties of citizen

شہری کے فرائض سے

(d) privileges of citizen

شہری کی مراعات سے

Question No.2 : Paying tax regularly and honestly is the citizen's :

سوال نمبر 2: ایمانداری اور پابندی سے ٹیکس ادا کرنا شہری کا ہے:

(a) duty

فرض

(b) right

حق

(c) thinking

رائے

(d) belief

عقیدہ

**Question No.3 :** The basic right of human is:

سوال نمبر 3: انسان کا بنیادی حق ہے:

- |             |       |            |      |
|-------------|-------|------------|------|
| (a) freedom | آزادی | (b) wealth | دولت |
| (c) power   | طاقت  | (d) fame   | شہرت |

**Question No.4 :** The white color in the Pakistani flag represents the:

سوال نمبر 4: پاکستانی پرچم میں موجود سفید رنگ نمائندگی کرتا ہے:

- |                |            |                |             |
|----------------|------------|----------------|-------------|
| (a) minorities | اقلیتوں کی | (b) Christians | عیسائیوں کی |
| (c) Sikhs      | سکھوں کی   | (d) Muslims    | مسلمانوں کی |

**Question No.5 :** The most important feature of a mobile phone is:

سوال نمبر 5: موبائل فون کی سب سے اہم خصوصیت ہے:

- |              |                  |                |           |
|--------------|------------------|----------------|-----------|
| (a) camera   | کیمرہ            | (b) calculator | کیلکولیٹر |
| (c) wireless | تار کے بغیر ہونا | (d) games      | گیمز      |

**Question No.6 :** The languages spoken in the world are:

سوال نمبر 6: دنیا میں زبانیں بولی جاتی ہیں:

- |                    |              |                    |              |
|--------------------|--------------|--------------------|--------------|
| (a) more than 3000 | 3000 سے زائد | (b) more than 4000 | 4000 سے زائد |
| (c) more than 5000 | 5000 سے زائد | (d) more than 6000 | 6000 سے زائد |

**Question No.7 :** Eid-ul-Fitar is celebrated on the:

سوال نمبر 7: عید الفطر منائی جاتی ہے:

- |                       |              |                          |                    |
|-----------------------|--------------|--------------------------|--------------------|
| (a) 1st of Shawwal    | یکم شوال کو  | (b) 1st of ZulHajjah     | یکم ذوالحج کو      |
| (c) 10th of ZulHajjah | 10 ذوالحج کو | (d) 12th of Rabi-ul-Awal | بارہ ربیع الاول کو |

**Question No.8 :** The set of rules that governs the system of a country is called:

سوال نمبر 8: اصول و ضوابط کا مجموعہ جو ملک کا نظام چلاتا ہے، کہلاتا ہے:

- |                  |       |               |       |
|------------------|-------|---------------|-------|
| (a) constitution | آئین  | (b) law       | قانون |
| (c) manifesto    | منشور | (d) agreement | معادہ |

**Question No.9 :** The head of the judiciary at district level is:

سوال نمبر 9: ضلعی سطح پر عدلیہ کا سربراہ ہوتا ہے:

- |                   |          |                              |                 |
|-------------------|----------|------------------------------|-----------------|
| (a) Chief justice | چیف جسٹس | (b) Civil judge              | سول جج          |
| (c) Session judge | سیشن جج  | (d) Additional session judge | ایڈیشنل سیشن جج |

**Question No.10 :** The current government system in Pakistan is:

سوال نمبر 10: پاکستان میں موجودہ طرز حکومت ہے:

- |                  |         |                   |           |
|------------------|---------|-------------------|-----------|
| (a) presidential | صدارتی  | (b) parliamentary | پارلیمانی |
| (c) unitary      | واحدانی | (d) Monarchy      | بادشاہت   |

**Question No.11 :** The reasons for colonization of foremost settlements along the rivers banks were:

سوال نمبر 11: دنیا کی اولین بستیوں کی دریا کنارے آباد کاری کی وجوہات تھیں:

- |                                  |                       |                                   |                         |
|----------------------------------|-----------------------|-----------------------------------|-------------------------|
| (a) water and economic resources | آبی اور معاشی وسائل   | (b) social and economic resources | معاشرتی اور معاشی وسائل |
| (c) mineral and social resources | معدنی اور معاشی وسائل | (d) water and mineral resources   | آبی اور معدنی وسائل     |

**Question No.12 :** The city of the Indus valley civilization which is still inhabited:

سوال نمبر 12: وادی سندھ کی تہذیب کا شہر جو ابھی تک آباد ہے:

- |              |       |             |        |
|--------------|-------|-------------|--------|
| (a) Multan   | ملتان | (b) Harappa | ہڑپہ   |
| (c) Peshawar | پشاور | (d) Qandhar | قندھار |



**Question No.13 :** The concept of "Mummi" was originated from the:

سوال نمبر 13: می کا تصور سب سے پہلے شروع ہوا:

- |             |          |            |         |
|-------------|----------|------------|---------|
| (a) Greece  | یونان سے | (b) Egypt  | مصر سے  |
| (c) Lebanon | لبنان سے | (d) Turkey | ترکی سے |

**Question No.14 :** Human beings were forced to settle on the banks of rivers for the search of:

سوال نمبر 14: دریاؤں کے کنارے انسانوں کو آباد ہونے پر مجبور کیا:

- |                       |                         |                       |                        |
|-----------------------|-------------------------|-----------------------|------------------------|
| (a) human resources   | انسانی وسائل کی تلاش نے | (b) water resources   | آبی وسائل کی تلاش نے   |
| (c) natural resources | قدرتی وسائل کی تلاش نے  | (d) mineral resources | معدنی وسائل کی تلاش نے |

**Question No.15 :** Total number of continents and oceans in the world respectively is:

سوال نمبر 15: دنیا میں بالترتیب کل براعظموں اور سمندروں کی تعداد ہے:

- |                    |               |                     |              |
|--------------------|---------------|---------------------|--------------|
| (a) five and seven | پانچ اور سات  | (b) seven and five  | سات اور پانچ |
| (c) five and five  | پانچ اور پانچ | (d) seven and seven | سات اور سات  |

**Question No.16 :** In terms of physical features, Pakistan consists of parts:

سوال نمبر 16: بلحاظ طبعی خدوخال پاکستان حصوں پر مشتمل ہے:

- |          |     |           |      |
|----------|-----|-----------|------|
| (a) four | چار | (b) five  | پانچ |
| (c) six  | چھ  | (d) seven | سات  |

**Question No.17 :** The least populous province of Pakistan is:

سوال نمبر 17: پاکستان کا سب سے کم آبادی والا صوبہ ہے:

- |                         |                |            |       |
|-------------------------|----------------|------------|-------|
| (a) Balochistan         | بلوچستان       | (b) Sindh  | سندھ  |
| (c) Khyber Pakhtun khwa | خیبر پختونخواہ | (d) Punjab | پنجاب |

**Question No.18 :** The model of Earth is called:

سوال نمبر 18: زمین کے ماڈل کو کہتے ہیں:

- |           |        |               |        |
|-----------|--------|---------------|--------|
| (a) map   | نقشہ   | (b) globe     | گلوب   |
| (c) scale | پیمانہ | (d) Continent | براعظم |

**Question No.19 :** Large Oceans of the world are:

سوال نمبر 19: دنیا میں بڑے بحر ہیں:

- |           |     |          |      |
|-----------|-----|----------|------|
| (a) three | تین | (b) five | پانچ |
| (c) seven | سات | (d) Nine | نو   |

**Question No.20 :** The worst and the fastest ever cyclone in the Arabian Sea was:

سوال نمبر 20: بحیرہ عرب کا اب تک کا شدید ترین اور تیز رفتار گردباد تھا:

- |                 |            |                  |              |
|-----------------|------------|------------------|--------------|
| (a) Bulbul 2010 | بلبل 2010ء | (b) Gonou 2007   | گونو 2007ء   |
| (c) Gati 2020   | گیٹی 2020ء | (d) Tauktae 2021 | تاوکتے 2021ء |

**Question No.21 :** The largest ocean in the world is:

سوال نمبر 21: دنیا کا سب سے بڑا بحر ہے:

- |                    |              |                   |            |
|--------------------|--------------|-------------------|------------|
| (a) Atlantic Ocean | بحر اوقیانوس | (b) Pacific Ocean | بحر الکاہل |
| (c) Indian Ocean   | بحر ہند      | (d) Arctic Ocean  | بحر شمالی  |

**Question No.22 :** To fulfill needs and desires within limited resources is:

سوال نمبر 22: محدود وسائل میں ضروریات اور خواہشات کو پورا کرتی ہے:

- |               |          |              |          |
|---------------|----------|--------------|----------|
| (a) Economics | معاشیات  | (b) Politics | سیاسیات  |
| (c) Sociology | عمرانیات | (d) Ethics   | اخلاقیات |

**Question No.23 :** Those items that Pakistan imports from abroad:

سوال نمبر 23: وہ اشیاء جو پاکستان بیرون ملک سے حاصل کرتا ہے:

- |                                    |                                |                       |               |
|------------------------------------|--------------------------------|-----------------------|---------------|
| (a) Leather items, medicines       | چمڑے کی اشیاء، ادویات          | (b) Rice, medicines   | چاول، ادویات  |
| (c) Electronics goods, mineral oil | الیکٹرونکس کی اشیاء، معدنی تیل | (d) Carpet, machinery | قالین، مشینری |

**Question No.24 :** The basic needs are included :

سوال نمبر 24: بنیادی ضروریات میں شامل ہوتی ہیں:

- |                         |                   |                             |                     |
|-------------------------|-------------------|-----------------------------|---------------------|
| (a) food, clothes, car  | خوراک، لباس، گاڑی | (b) food, jewelry, clothing | خوراک، زیورات، لباس |
| (c) clothes, house, car | لباس، گھر، گاڑی   | (d) food, clothes, house    | خوراک، لباس، گھر    |

**Question No.25 :** An example of goods is:

سوال نمبر 25: اشیا کی مثال ہے:

- |              |        |            |      |
|--------------|--------|------------|------|
| (a) hospital | ہسپتال | (b) school | سکول |
| (c) shoes    | جوتے   | (d) park   | پارک |

# SCHOOL BASED ASSESSMENT 2023

## MODEL PAPER

### GRADE 4

## URDU PART – B (Subjective Type)

[Part A: 50 Marks Part B: 50 Marks Total: 100 Marks]



School : \_\_\_\_\_  
Tehsil : \_\_\_\_\_ District: \_\_\_\_\_

Student Name : \_\_\_\_\_ Section : \_\_\_\_\_

Roll Number : \_\_\_\_\_ Date : \_\_\_\_\_

طلبا کے لیے عمومی ہدایات:

- 1۔ جواب لکھنے کے لیے علیحدہ سے جوابی کاپی کا استعمال کریں اور اس کے اوپر بھی اپنے بارے میں معلومات دیں۔
- 2۔ غور سے پڑھیں اور تمام سوالات حل کریں۔
- 3۔ ایک سوال ایک یا ایک سے زیادہ حصوں پر مشتمل ہو سکتا ہے
- 4۔ جواب لکھنے کے لیے کالی/ نیلی روشنائی کا استعمال کریں۔ کچی پنسل کے استعمال کی اجازت نہیں ہے۔

کل نمبر: 50

(حصہ ب) (انشائیہ سوالات)

وقت: 1 گھنٹہ 45 منٹ

سوال نمبر 1: "احسان کا بدلہ احسان" کے نتیجے سے کہانی لکھیں: (کل نمبر 10)

سوال نمبر 2: "ہمارا گاؤں" کے عنوان پر دس جملوں پر مشتمل مضمون لکھیں۔ (کل نمبر 10)

سوال نمبر 3: ہیڈ ماسٹر صاحب / ہیڈ مسٹریس صاحبہ کے نام کمرہ جماعت کے لیے پانی کا نیا کولر فراہم کرنے کی درخواست لکھیں۔ (کل نمبر 10)

سوال نمبر 4: درج ذیل اشعار کو نثر میں تبدیل کریں۔ (کل نمبر 10)

ہر چیز کی ہے ادائزالی حکمت سے نہیں ہے کوئی خالی

تاروں بھری رات کیا بنائی دن کو بخش عجب صفائی

- ممتحن کمرے کو شور اور خلفشار سے پاک بنائے گا۔
- ممتحن طلبہ کو بتائے گا کہ وہ ایک پیرا گراف کو دو بار پڑھنے جا رہے ہیں اور پیرا گراف کو توجہ سے سنا جائے۔
- ممتحن کلاس میں متن کے پیرا گراف کو دو بار اونچی آواز میں پڑھے گا۔
- سوالات پڑھنے کے بعد ممتحن طلبہ کو بتائے گا کہ وہ پیپر پر مہیا کی گئی جگہ پر سوالات کے جوابات لکھیں۔
- ممتحن اس بات کو یقینی بنائے گا کہ طلبہ کو سوالات کی سمجھ آگئی ہے اور وہ جواب دینے کے قابل ہیں۔
- طلبہ کو 15 منٹ تک وقت دیا جائے گا کہ وہ اپنا جواب تسلی سے دیں اور اس کے بعد طلبہ سے یہ شیٹ واپس لے لی جائے گی۔

#### پیرا گراف

درزی کپڑوں کی سلائی کرتا ہے۔ اور معمار مکان کی تعمیر کرتا ہے۔ بڑھئی لکڑی کا کام کرتا ہے۔ یہ سب لوگ ہماری خدمت کرتے ہیں۔ ہم نے زندگی گزارنے کے لیے مختلف پیشے اختیار کر رکھے ہیں۔ اس طرح ہم ایک دوسرے کی خدمت کر رہے ہیں۔ ہر وہ پیشہ مقدس ہوتا ہے جس کو اختیار کر کے حلال رزق کمایا جاسکے۔

نوٹ: یہاں سے پیپر کا حصہ الگ کر لیں۔-----<

عزیز طلبہ! آپ کو پیرا گراف پڑھ کر سنایا جائے گا۔ آپ پیرا گراف کو غور سے سنیں۔ پیرا گراف سننے کے بعد مندرجہ ذیل سوالات کے جوابات دیں۔ کل نمبر (10)

(1). معمار کسے کہتے ہیں؟ (3 نمبر)

(2). بڑھئی کیا کام کرتا ہے؟ (3 نمبر)

(3). ہم ایک دوسرے کی کس طرح خدمت کرتے ہیں؟ (4 نمبر)

# SCHOOL BASED ASSESSMENT 2023

## MODEL PAPER

### GRADE 4

## URDU PART – A (Objective Type)

[Part A: 50 Marks Part B: 50 Marks Total: 100 Marks]



School : \_\_\_\_\_  
Tehsil : \_\_\_\_\_ District: \_\_\_\_\_

Student Name : \_\_\_\_\_ Section : \_\_\_\_\_  
Roll Number : \_\_\_\_\_ Date : \_\_\_\_\_

طلبا کے لیے عمومی ہدایات:

- ۱۔ ماسک پہنیں اور آپس میں کم از کم 3 فٹ کا فاصلہ رکھیں۔
  - ۲۔ غور سے پڑھیں اور تمام سوالات حل کریں۔
  - ۳۔ ہر کثیر الانتخابی سوال کے صحیح جواب پر دائرہ لگائیں جیسا کہ نیچے دی گئی مثال میں دکھایا گیا ہے۔
- مثال : چیچڑ کی وجہ سے پھیلنے والی بیماری ہے:

(a) پولیو

(b) خسرہ

(c) ڈینگی

(d) کانگو

۴۔ اگر کسی سوال میں ایک سے زیادہ جوابات کے گرد دائرہ لگایا گیا تو کوئی نمبر نہیں دیا جائے گا۔

کل نمبر: 50

( حصہ الف ) کثیر الانتخابی سوالات

وقت: 1 گھنٹہ

ہدایات: اس پیپر میں بیچیں کثیر الانتخابی سوالات دیے گئے ہیں۔ ہر سوال کے 2 نمبر ہیں۔

سوال نمبر 1: " بہت دنوں بعد آپ سے ملاقات ہوئی ہے۔ " یہ جملہ ہے :

(d) ہدایت کا

(c) اعلان کا

(b) تقریر کا

(a) گفتگو کا

سوال نمبر 2: ایک پرندہ ایسا جس کی دم پہ پیسہ  
اس پہیلی کی درست بوجھ ہے:

(d) کبوتر

(c) کوا

(b) مور

(a) طوطا

سوال نمبر 3: لطیفہ پڑھ کر درست جواب کی نشاندہی کریں۔

ڈاکٹر: موٹاپے کا علاج ہے کہ تم روزانہ صرف دو ہی روٹیاں کھایا کرو۔

مریض: لیکن یہ دو روٹیاں کھانا کھانے سے پہلے کھانی ہیں یا کھانا کھانے کے بعد۔

لطیفے کے مطابق ڈاکٹر نے علاج کیا:

(d) سر درد کا

(c) فالج کا

(b) موٹاپے کا

(a) بخار کا

سوال نمبر 4: محاورہ کے استعمال کا درست جملہ ہے :

(d) میلے میں خوب چہل پہل تھی۔

(c) میلے میں خوب شور تھا۔

(b) میلے میں خوب رونق تھی۔

(a) میلے میں خوب چہل قدمی تھی۔

سوال نمبر 5: "40" کو لفظوں میں لکھا جاتا ہے:

(d) چالیس

(c) چالیڑ

(b) چالیس

(a) چالیث

سوال نمبر 6: عددی ترتیب کے استعمال والا درست جملہ ہے:

- (a) بلال اُن کا پانچویں بچہ ہے۔ (b) بلال اُن کا پانچ بچہ ہے۔ (c) بلال اُن کا پانچواں بچہ ہے۔ (d) بلال اُن کا پانچوں بچہ ہے۔

سوال نمبر 7: عددی ترتیب والا درست جملہ ہے:

- (a) شوکت دسویں قطار میں بیٹھا ہے۔ (b) شوکت دس قطار میں بیٹھا ہے۔  
(c) شوکت دسواں قطار میں بیٹھا ہے۔ (d) شوکت دہم قطار میں بیٹھا ہے۔

سوال نمبر 8: "عابد امریکہ جائے گا"۔ اس کا فعل حال میں جملہ ہے:

- (a) عابد امریکہ گیا تھا۔ (b) عابد امریکہ جا رہا ہو گا۔  
(c) عابد امریکہ جا چکا تھا۔ (d) عابد امریکہ جاتا ہے۔

سوال نمبر 9: "میں نے کام کیا"۔ اس کا فعل حال میں درست جملہ ہے:

- (a) میں کام کر رہا ہوں گا۔ (b) میں کام کر چکا تھا۔  
(c) میں کام کروں گا۔ (d) میں کام کرتا ہوں۔

سوال نمبر 10: "دستاویزات" کا واحد ہے:

- (a) دستاویزا (b) دستاویزے  
(c) دستاویز (d) دستاواز

سوال نمبر 11: "تصویرات" کا واحد ہے:

- (a) تصاویر (b) تصویر  
(c) متصور (d) تصور

سوال نمبر 12: اجالا کا مترادف ہے:

- (a) روشنی (b) رات  
(c) اندھیرا (d) تاریکی

سوال نمبر 13: سابقہ "بد" سے بننے والے درست الفاظ کی فہرست ہے:

- (a) بد تمیز، بد بخت، بد نصیب (b) بد بلا یا، بد ادب، بد گماں  
(c) بد معاش، بد پرس، بد امید (d) بد تاج، بد پست، بد منظر

سوال نمبر 14: اسم خاص کی درست فہرست ہے:

- (a) اکرم، اسلم (b) انعام، لڑکا  
(c) شائلہ، لڑکی (d) بوڑھا، بوڑھی

سوال نمبر 15: "عائشہ نیک لڑکی ہے"۔ بزرگوں کا ادب کرتی ہے۔ "خالی جگہ میں درست اسم ضمیر لگے گا:

- (a) وہ (b) اُن (c) اُسے (d) تم

سوال نمبر 16: حرف جار کے استعمال والا جملہ ہے:

- (a) گلاس میں گرم گرم دودھ (b) فریال اور ارشد بہت محنتی ہیں  
(c) ارشد اور آپ اکٹھے جائیں (d) ساجدہ بہت خوب صورت ہے

سوال نمبر 17: "اسلم نے بیل کو مارا"۔ اس جملے میں علامت مفعول ہے:

- (a) مارا (b) بیل (c) اسلم (d) کو

سوال نمبر 18: درج ذیل میں فعل نہی والا جملہ ہے:

- (a) بچو! میری بات سنو۔ (b) یہ دروازہ کھول دو۔  
(c) جلدی کام ختم کرو۔ (d) پھول مت توڑو۔

سوال نمبر 19: "چین" کا معنی ملک کا نام جبکہ "چین" کا معنی ہے:

- (a) سکھ (b) سکھی (c) سکھے (d) سکھا

سوال نمبر 20: لفظ "تاریک" کا لغت میں معنی تلاش کرنے کی درست ترتیب ہے:

- (a) ت-ی-ا-ک-ر (b) ت-ا-ر-ک-ی  
(c) ت-ر-ی-ا-ک (d) ت-ا-ر-ی-ک

مندرجہ ذیل پیرا گراف پڑھ کر نیچے دیے گئے سوالات کے جوابات دیجیے۔

انسانی معاشرے میں اخبار معلومات کا سب سے پرانا اور اہم ذریعہ رہا ہے۔ ابتدا میں سہولتوں کی کمی کے باعث اس کی معلومات کا دائرہ محدود تھا لیکن سائنسی ترقی اور سہولتوں کی دستیابی کے بعد اب اخبار ملکی اور عالمی واقعات سے آگاہی کا سب سے مؤثر ذریعہ بن گیا ہے۔ اخبار ہمیں زندگی کے ہر شعبے سے متعلق ملکی اور غیر ملکی خبروں سے آگاہ کرتا ہے۔ سیاسی، سماجی، معاشی، سائنسی، کھیل، تفریح غرض ہر شعبے پر اخبار کام کر رہا ہے۔ آج کا اخبار دنیا میں ہونے والی تبدیلیوں، حالات اور انکشافات سے متعلق معلومات کی ایک دنیا رکھتا ہے۔ ہفتے کے ساتوں دنوں میں سیاسی، دیگر اہم خبریں اور مختلف موضوعات کا رٹین کی دلچسپی کا باعث ہیں۔ زمانہ بدل رہا ہے اور ذرائع ابلاغ میں بھی ترقی ہو رہی ہے۔ معلومات حاصل کرنے کے اور بھی بہت سے ذرائع کام کر رہے ہیں جیسے سیٹلائٹ، انٹرنیٹ، کمپیوٹر اور ٹی وی کے ذریعے ہم تک معلومات پہنچتی ہیں لیکن آج بھی اخبار معلومات حاصل کرنے کا سب سے آسان، بہترین اور سستا ترین ذریعہ ہے۔ اخبار کا مطالعہ نہ صرف معلومات میں اضافہ کرتا ہے بلکہ یہ طالب علموں کے لئے بلند خوانی بہتر بنانے اور ذخیرہ الفاظ بڑھانے کے لئے بھی اہم ذریعہ ثابت ہو سکتا ہے۔

سوال نمبر 21: پیرا گراف کے مطابق معلومات حاصل کرنے کا سب سے پرانا اور اہم ذریعہ ہے:

- (a) کھیل (b) تفریح (c) اخبار (d) ڈائجیسٹ

سوال نمبر 22: پیرا گراف کے مطابق اخبار ملکی اور عالمی واقعات سے آگاہی کا سب سے مؤثر ذریعہ بنا:

- (a) سائنسی ترقی کے بعد (b) معاشرتی ترقی کے بعد (c) سیاسی ترقی کے بعد (d) معاشی ترقی کے بعد

سوال نمبر 23: پیرا گراف کے مطابق معلومات حاصل کرنے کا آسان اور سستا ترین ذریعہ ہے:

- (a) اخبار (b) ٹیلی ویژن (c) کمپیوٹر (d) ٹیلی فون

سوال نمبر 24: پیرا گراف کے مطابق اخبار کا مطالعہ طالب علم کے لیے بہتر بناتا ہے:

- (a) قوت سماعت (b) بلند خوانی (c) قوت بصارت (d) قوت بصیرت

سوال نمبر 25: درج بالا پیرا گراف کا عنوان ہے:

- (a) میگزین کی اہمیت (b) کتاب کی اہمیت (c) رسالے کی اہمیت (d) اخبار کی اہمیت