

SCHOOL BASED ASSESSMENT 2023

MODEL PAPER

GRADE 6

COMPUTER EDUCATION PART – B (Subjective Type)

[Paper A: 48 Marks, Paper B: 52 Marks, Total: 100 Marks]



School : _____
Tehsil : _____ District: _____

Student Name : _____ Section : _____

Roll Number : _____ Date : _____

General Instructions for students :

طلبا کے لیے عمومی ہدایات:

1. Use separate answer sheet for writing answers and give your personal information on it as well.

۱۔ جوابات لکھنے کے لیے علیحدہ سے جوابی کاپی کا استعمال کریں اور اس کے اوپر بھی اپنے بارے میں معلومات دیں۔

2. Read carefully and attempt all questions.

۲۔ غور سے پڑھیں اور تمام سوالات حل کریں۔

3. A question can consist of one or more parts.

۳۔ ایک سوال ایک یا ایک سے زیادہ حصوں پر مشتمل ہو سکتا ہے۔

4. Use black/blue ink for writing answers. Use of lead pencil is not allowed.

۴۔ جواب لکھنے کے لیے کالی / نیلی روشنائی کا استعمال کریں۔ کچی پنسل کے استعمال کی اجازت نہیں ہے۔

Total Marks: 52

Part-B (Constructed Response Questions)

Total Time: 1 Hour 45 Minutes

Question No: 1

سوال نمبر 1

a) Define data and information with example. (3 Marks)

(a) ڈیٹا اور انفارمیشن کی مثال کے ساتھ تعریف کریں۔ (3 نمبر)

b) Define Processing and give any two examples. (3 Marks)

(b) پروسیسنگ کی تعریف کریں اور کوئی سی دو مثالیں دیں۔ (3 نمبر)

c) List any four advantages of using computer. (4 Marks)

(c) کمپیوٹر کے استعمال کے کوئی سے چار فوائد کی فہرست بنائیں۔ (4 نمبر)

Question No: 2

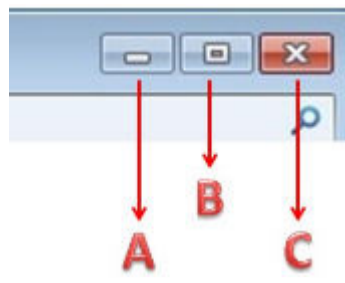
سوال نمبر 2

a) Define Scroll Bar and write the names of its two types. (3 Marks)

(a) سکرول بار کی تعریف کریں اور اس کی دو اقسام کے نام لکھیں۔ (3 نمبر)

b) Label the given picture. (3 Marks)

(b) دی گئی تصویر کو لیبل کریں۔ (3 نمبر)



c) Define Control Button and write the names of Control Buttons. (4 Marks)

(c) کنٹرول بٹن کی تعریف کریں اور کنٹرول بٹنز کے نام بھی لکھیں۔ (4 نمبر)

Question No: 3

سوال نمبر 3

a) Define Typing Tutor and also write its one use. (3 Marks)

(a) ٹائپنگ ٹیوٹر کی تعریف کریں اور اس کا ایک استعمال بھی لکھیں۔ (3 نمبر)

b) Write down any four important points to remember while typing. (4 Marks)

(b) ٹائپنگ کرتے وقت ذہن نشین رکھنے والے چار اہم نکات لکھیں۔ (4 نمبر)

c) Write five steps to run a Typing Tutor. (5 Marks)

(c) ٹائپنگ ٹیوٹر کو چلانے کے پانچ مراحل لکھیں۔ (5 نمبر)

Question No: 4

سوال نمبر 4

a) List the types of files that can be opened by using Media Player software. (2 Marks)

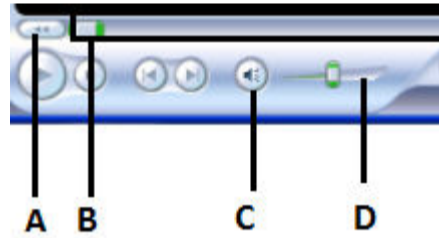
(a) فائلوں کی اقسام کی فہرست بنائیں جو میڈیا پلیئر سافٹ ویئر کے ذریعے کھولی جاسکتی ہیں۔ (2 نمبر)

b) Write the steps to play the audio file from the CD drive. (4 Marks)

(b) CD ڈرائیو سے آڈیو فائل چلانے کے مراحل لکھیں۔ (4 نمبر)

c) Label the given figure of Windows Media Player. (4 Marks)

(c) ونڈوز میڈیا پلیئر کی دی گئی تصویر کو لیبل کریں۔ (4 نمبر)



Question No: 5

سوال نمبر 5

a) Define ISP and give any two examples. (2 Marks)

(a) ISP کی تعریف کریں اور کوئی سی دو مثالیں لکھیں۔ (2 نمبر)

b) Write one difference between Internet and Web Browser. Also write the name of any Web Browser. (3 Marks)

(b) انٹرنیٹ اور ویب براؤزر میں ایک فرق لکھیں اور کسی ایک ویب براؤزر کا نام بھی لکھیں۔ (3 نمبر)

c) What are the requirements to access the Internet? (5 Marks)

(c) انٹرنیٹ تک رسائی کے لیے کون سی ضروریات ہیں؟ (5 نمبر)

SCHOOL BASED ASSESSMENT 2023

MODEL PAPER

GRADE 6

COMPUTER EDUCATION PART – A (Objective Type)

[Paper A: 48 Marks, Paper B: 52 Marks, Total: 100 Marks]



School : _____
Tehsil : _____ District: _____

Student Name : _____ Section : _____
Roll Number : _____ Date : _____

General Instructions for students :

طلبہ کے لیے عمومی ہدایات:

1) Use mask & keep at least 3 ft. distance from each other.

۱۔ ماسک پہنیں اور آپس میں کم از کم 3 فٹ کا فاصلہ رکھیں۔

2) Read carefully and attempt all questions.

۲۔ غور سے پڑھیں اور تمام سوالات حل کریں۔

3) Encircle the correct option of each of the Multiple Choice Questions (MCQs) as shown in the example given below.

۳۔ ہر کثیر الانتخابی سوال کے صحیح جواب پر دائرہ لگائیں جیسا کہ نیچے دی گئی مثال میں دکھایا گیا ہے۔

Example : The performance of computer depends upon given:

مثال : : کمپیوٹر کی کارکردگی دی گئی _____ پر منحصر ہے۔

a) Commands کمانڈز

b) Statements سٹیٹمنٹس

(c) Instructions ہدایات

d) Keywords کی ورڈز

4) If more than one options are encircled in a question, no mark will be given.

۴۔ اگر کسی سوال میں ایک سے زیادہ جوابات کے گرد دائرہ لگایا گیا تو کوئی نمبر نہیں دیا جائے گا۔

Total Marks: 48

Part-A (Multiple Choice Questions)

Total Time: 1 Hour

Instructions: Thirty two (32) Multiple Choice Questions (MCQs) are given in this paper. Each question carries 1.5 marks.

ہدایات : اس پیپر میں بتیس (32) کثیر الانتخابی سوالات دیے گئے ہیں۔ ہر سوال کے 1.5 نمبر ہیں۔

Question No.1 : The machine/device used to convert the data into information is called:

سوال نمبر 1: ڈیٹا کو معلومات میں تبدیل کرنے کے لیے استعمال ہونے والی مشین / ڈیوائس کو کہتے ہیں:

(a) Scanner سکینر (b) Computer کمپیوٹر (c) Digital Camera ڈیجیٹل کیمرہ (d) Microphone مائیکروفون

Question No.2 : Arranging the student names, addresses, subjects and calculating the result is an example of:

سوال نمبر 2: طالب علم کے نام، ایڈریسز، مضامین کو ترتیب دینا اور نتیجے کا حساب لگانا _____ کی مثال ہے۔

(a) Data ڈیٹا (b) Information انفارمیشن (c) Process پروسیس (d) Output آؤٹ پٹ

Question No.3 : The position of the Function keys on the keyboard is:

سوال نمبر 3: کی بورڈ پر فنکشن keys کی پوزیشن ہے:

(a) Up اوپر (b) Down نیچے (c) Middle درمیان (d) Right دائیں

Question No.4 : Total obtained marks in an examination can be concluded after:

سوال نمبر 4: امتحان میں حاصل کردہ نمبر _____ کے بعد اخذ کئے جاسکتے ہیں۔

(a) Process پروسیس (b) Input ان پٹ (c) Output آؤٹ پٹ (d) Storage سٹوریج

Question No.5 : Select the type of file "picture.jpg".

سوال نمبر 5: "picture.jpg" فائل کی قسم منتخب کریں۔

- (a) Text file ٹیکسٹ فائل (b) Graphics file گرافکس فائل (c) Sound file ساؤنڈ فائل (d) Program file پروگرام فائل

Question No.6 : In MS Windows, default folder for images and media files is:

سوال نمبر 6: MS Windows میں، تصاویر اور میڈیا فائلوں کے لیے ڈیفالٹ فولڈر ہے:

- (a) My Documents مائی ڈا کو منٹس (b) My Computer مائی کمپیوٹر (c) Downloads ڈاؤن لوڈز (d) Desktop ڈیسک ٹاپ

Question No.7 : A place which is used to store all deleted files, is called:

سوال نمبر 7: ایک ایسی جگہ جو تمام ڈیلیٹ کی گئی فائلوں کو سٹور کرنے کے لیے استعمال ہوتی ہے، کہلاتی ہے:

- (a) My Computer مائی کمپیوٹر (b) Desktop ڈیسک ٹاپ (c) My Documents مائی ڈا کو منٹس (d) Recycle Bin ری سائیکل بن

Question No.8 : Select the position of the Start button in MS Windows.

سوال نمبر 8: MS Windows میں سٹارٹ بٹن کی پوزیشن منتخب کریں۔

- (a) Upper Right Corner اوپر دائیں کونے پر (b) Bottom Right Corner نیچے دائیں کونے پر
(c) Upper Left Corner اوپر بائیں کونے پر (d) Bottom Left Corner نیچے بائیں کونے پر

Question No.9 : The default position of Taskbar on desktop screen is:

سوال نمبر 9: ڈیسک ٹاپ اسکرین پر ٹاسک بار کی ڈیفالٹ پوزیشن ہے:

- (a) Right دائیں (b) Left بائیں (c) Top اوپر (d) Bottom نیچے

Question No.10 : Choose the correct option used to represent the drive letter.

سوال نمبر 10: ڈرائیو لیٹر کی نمائندگی کرنے کے لیے استعمال ہونے والی صحیح آپشن کا انتخاب کریں۔

- (a) c/ (b) c! (c) c: (d) C

Question No.11 : Dragging a file/folder is similar to:

سوال نمبر 11: فائل / فولڈر کو ڈریگ کرنا کس کام کی طرح ہے؟

- (a) Copy a file فائل کو کاپی کرنا (b) Paste a file فائل کو پیسٹ کرنا
(c) Edit a file فائل کو ایڈیٹ کرنا (d) Cut a file فائل کو کٹ کرنا

Question No.12 : The Magnifier tool is located in:

سوال نمبر 12: میگنی فائر ٹول _____ میں پایا جاتا ہے۔

- (a) Drawing area ڈرائنگ ایریا (b) Tools box ٹولز باکس (c) Shapes box شپس باکس (d) Color box کلر باکس

Question No.13 : Identify the finger which will press a set of keys "QAZ" while typing.

سوال نمبر 13: اس انگلی کی شناخت کریں جو ٹائپ کرتے وقت "QAZ" keys کو دبائے گی۔

- (a) Middle finger of the right hand دائیں ہاتھ کی درمیانی انگلی (b) Middle finger of the left hand بائیں ہاتھ کی درمیانی انگلی
(c) Little finger of right hand دائیں ہاتھ کی چھوٹی انگلی (d) Little finger of the left hand بائیں ہاتھ کی چھوٹی انگلی

Question No.14 : The shortcut key to open an MS Word document is:

سوال نمبر 14: ایک MS Word ڈا کو منٹ کھولنے کی شارٹ کٹ key ہے:

- (a) Ctrl + C (b) Ctrl + D (c) Ctrl + O (d) Ctrl + V

Question No.15 : The status of the Volume Control button as shown below is:

سوال نمبر 15: ذیل میں دکھایا گیا ولیم کنٹرول بٹن _____ حالت کو ظاہر کرتا ہے۔



- (a) high volume (b) low volume (c) mute volume (d) unmute volume

Question No.16 : Identify the key used to insert a single space between letters.

سوال نمبر 16: حروف کے درمیان سنگل سپیس دینے کے لئے استعمال ہونے والی key کی شناخت کریں۔

- (a) Enter (b) Tab (c) Spacebar (d) Shift

Question No.17 : Right-hand fingers are used to press which keys?

سوال نمبر 17: دائیں ہاتھ کی انگلیاں کونسی keys دبانے کے لیے استعمال ہوتی ہیں؟



Question No.18 : Which key is used to remove a single character in an MS Word document?

سوال نمبر 18: MS Word ڈاکومنٹ میں کسی ایک کریکٹر کو ختم کرنے کے لیے کونسی key استعمال کی جاتی ہے؟

- (a) Space (b) Delete (c) Esc (d) Shift

Question No.19 : A document after printing is called:

سوال نمبر 19: ایک ڈاکومنٹ پرنٹ ہونے کے بعد کہلاتا ہے:

- (a) Soft copy سافٹ کاپی (b) Special copy سپیشل کاپی (c) Carbon copy کاربن کاپی (d) Hard copy ہارڈ کاپی

Question No.20 : The software used to play a video file is:

سوال نمبر 20: ویڈیو فائل چلانے کے لیے استعمال ہونے والا سافٹ ویئر ہے:

- (a) MS-Word (b) MS-Powerpoint (c) MS-Paint (d) Windows Media Player

Question No.21 : Select the correct procedure to open the MS Paint program.

سوال نمبر 21: MS Paint پروگرام کھولنے کے لیے صحیح طریقہ کار منتخب کریں۔

- (a) Start ->All Programs ->Paint
(b) Start ->All Programs ->Accessories ->Paint
(c) Start ->All Programs ->Accessories->System Tools ->Paint
(d) Start ->All Programs ->Accessories->Communication -> Paint

Question No.22 : What will you click to save the MS Paint file?

سوال نمبر 22: MS Paint کی فائل کو محفوظ کرنے کے لیے، آپ کو کیا کلک کرنا ہوگا؟

- (a) Edit menu (b) File menu (c) View menu (d) Help menu

Question No.23 : Speed of typing is measured in:

سوال نمبر 23: ٹائپنگ کی رفتار _____ میں ماپی جاتی ہے۔

- (a) Characters per minute کریکٹرز فی منٹ (b) Words per minute الفاظ فی منٹ
(c) Characters per second کریکٹرز فی سیکنڈ (d) Words per second الفاظ فی سیکنڈ

Question No.24 : The file extension of MS Word document is:

سوال نمبر 24: MS Word ڈاکومنٹ کی فائل ایکسٹینشن ہے:

- (a) .xls (b) .doc (c) .ppt (d) .txt

Question No.25 : Identify the following button of Windows Media Player software.

سوال نمبر 25: ونڈوز میڈیا پلیئر سافٹ ویئر کے درج ذیل بٹن کی شناخت کریں۔



- (a) Forward (b) Rewind (c) Play (d) Stop

Question No.26 : WWW is specifically designed to connect people of:

سوال نمبر 26: WWW خاص طور پر لوگوں کو _____ جوڑنے کے لیے ڈیزائن کیا گیا ہے۔

- (a) Globally پوری دنیا تک (b) Nationally پورے ملک تک (c) Locally مقامی طور پر (d) Metropolitically پورے شہر تک

Question No.27 : Identify a feature of the internet that provides audio and video conversation instantly.

سوال نمبر 27: انٹرنیٹ کی ایک خصوصیت کی شناخت کریں جو فوری طور پر آڈیو اور ویڈیو کے ذریعے گفتگو کی سہولت فراہم کرتی ہے۔

- (a) WWW (b) Email (c) Instant Messaging (d) Chatting

Question No.28 : Which type of line is used by DSL technology?

سوال نمبر 28: DSL ٹیکنالوجی کس قسم کی لائن استعمال کرتی ہے؟

- (a) Telephone ٹیلی فون (b) Cable کیبل (c) Power پاور (d) Optical fiber آپٹیکل فائبر

Question No.29 : How many are the basic types of modems?

- (a) 1 (b) 2 (c) 4 (d) 6

سوال نمبر 29: موڈیم کی بنیادی طور پر کتنی اقسام ہیں؟

Question No.30 : Every web page has the address, that is:

- (a) identical (b) unique (c) duplicate (d) universal

ایک جیسا منفرد

سوال نمبر 30: ہر ویب پیج کا ایڈریس ہوتا ہے:

یونیورسل ڈوپلیکیٹ

Question No.31 : Identify the following browser's icon.

سوال نمبر 31: درج ذیل براؤزر کے آئیکن کی شناخت کریں۔



- (a) Google Chrome (b) Opera
(c) Mozilla Firefox (d) Internet Explorer

Question No.32 : Choose the most popular search engine from the following.

سوال نمبر 32: ان میں سے مشہور سرچ انجن کا انتخاب کریں۔

- (a) www.bing.com (b) www.google.com
(c) www.funbrain.com (d) www.wiki.com

SCHOOL BASED ASSESSMENT 2023
MODEL PAPER
GRADE 6



ENGLISH PART – B (Subjective Type)

[Paper A: 48 Marks, Paper B: 52 Marks, Total: 100 Marks]

School : _____
Tehsil : _____ District: _____

Student Name : _____ Section : _____

Roll Number : _____ Date : _____

General Instructions for students :

1. Read carefully and attempt all questions.
2. A question can consist of one or more parts.
3. Use black/blue ink for writing answers in separate answer sheet. Use of lead pencil is not allowed.


Total Marks: 52	Part-B (Constructed Response Questions)	Total Time: 1 Hour 45 Minutes
------------------------	--	--------------------------------------

Question No.1 : **Guess the profession in the picture and write ten sentences about it. Use correct spelling, grammar and punctuation.**
Marks (10)



Question No.2 : **Look at the given picture and write a short story with a moral by using the hints given below. Use correct punctuation, spelling and grammar. Marks (10)**

Once upon a time a foolish donkey lived in village.....found lion's skin.....animal and people feared him.....thought of himself.....heard donkey braying.....



Question No.3 : You want to access to your school library. Fill the following library registration form to get library card. Use correct punctuation, spelling and grammar. Marks (10)

Library Registration Form

Name: _____

Father's Name: _____

Date of Birth: _____

Class _____

Class Incharge _____

Gender: _____

Religion: _____

Permanent Address: _____

Contact No: _____

Father/Guardian occupation _____

Question No.4 : Read the passage carefully. It has certain grammatical and vocabulary errors. Rewrite it after possible correction. Marks (10)

the king of iran had heard that birbal was one of the wisest men in the east? he wanted to meet Birbal, so he sent him a invitation to visit my country. in due course, Birbal arrive in Iran.

Question No.5 : Read the following paragraph carefully and answer the questions. Marks (12)

Coconut is the most important nut in the world. Not only it is one of the biggest of all nuts but almost all parts of the tree are useful for man. The flesh of the green coconut is used as a vegetable. The milk inside the young nut is used as a fresh drink. Rope matting and brooms are made from the outside layer which protects the nuts. Coconut tree is the most useful tree in our life. Khopra is the dried pulp of the seed which is the source of coconut oil. The leaves provide materials for baskets and roofing the husk and shell can be used for fuel and are a good source of charcoal. Its wood is used for making frames, windows, doors, pillars, etc.

- (a) What provides protection to coconut? Marks (02)
- (b) Enlist the things which are made by coconut tree? Marks (03)
- (c) Can you write the name of some other nuts? Marks (02)
- (d) Which is the most valuable and biggest nut? Marks (02)
- (e) What is the main theme of the paragraph? Marks (03)



SCHOOL BASED ASSESSMENT 2023

MODEL PAPER

GRADE 6



ENGLISH PART – A (Objective Type)

[Paper A: 48 Marks, Paper B: 52 Marks, Total: 100 Marks]

School : _____
Tehsil : _____ District: _____

Student Name : _____ Section : _____

Roll Number : _____ Date : _____

General Instructions for students :

- 1) Use mask & keep at least 3 ft. distance from each other.
- 2) Read carefully and attempt all questions.
- 3) Encircle the correct option of each of the Multiple Choice Questions (MCQs) as shown in the example given below.

Example : He is _____ to school.

- a) goes
b) went
c) going
d) go

- 4) If more than one options are encircled in a question, no mark will be given.

Total Marks: 48

Part-A (Multiple Choice Questions)

Total Time: 1 Hour

Instructions: Thirty two (32) Multiple Choice Questions (MCQs) are given in this paper. Each question carries 1.5 marks.

Question No.1 : Identify four syllable word from the following.
"Patriotism keeps us alert from the foreign invasion."

- (a) Alert (b) Foreign
(c) Patriotism (d) Invasion

Question No.2 : "Each vaccine is tested _____ its administration on humans."

- (a) contrary to (b) due to
(c) prior to (d) according to

Question No.3 : Which is the sentence of Passive Voice?

- (a) He likes fruits.
(b) They bought apples.
(c) I have taken tea by the window.
(d) A letter is written by me.

Question No.4 : Choose an appropriate expression to show an apology.

- (a) Don't be worried about the mistake.
(b) I am so sorry for the mistake.
(c) How kind of you to me!
(d) Nice to meet you after so long.

Question No.5 : Complete the sentence with an absolute adjective.
"This stone is a _____ match for this ring."

- (a) more perfect (b) much perfect
(c) perfect (d) most perfect

Question No.6 : Which of the following words is an example of triphthong?

- (a) Smooth (b) Royal
(c) Splash (d) Unique

Question No.7 : Which of the following has an initial consonant cluster?

- (a) Fast (b) Lazy
(c) Slow (d) Active

Question No.8 : Choose the option with correct usage of the hyphen (-).

- (a) C-ough (b) X- ray
(c) Tsh-irt (d) Uturn-

Question No.9 : Identify the adjective from the given sentence.

"Minar-e-Pakistan is a tall tower."

- (a) Tower (b) Tall
(c) Is (d) Minar-e-Pakistan

Question No.10 : Change the narration of the given sentence.

Hamza will say, "I love my homeland."

- (a) Hamza will say he loves his homeland.
(b) Hamza will say that I love my homeland.
(c) Hamza will say that he loves his homeland.
(d) Hamza will say I love my homeland.

Question No.11 : Pick the group of uncountable nouns.

- (a) Milk, Noise, Honey (b) Table, Chair, Suitcase
(c) Bed, Bell, Bill (d) Chapter, Chest, Child

Question No.12 : Select the sentence that uses "have" as the main verb.

- (a) Those cows have eaten all the grass.
(b) We have gathered all the equipment we need.
(c) We have a large extended family.
(d) They have decided to go for shopping.

Question No.13 : Complete the sentence given below with correct spelling.

"He enjoyed the _____ weather."

- (a) plesant
(b) pleasant
(c) plazant
(d) plaisent



Question No.14 : "He _____ is trying to tie his shoelaces."

- (a) myself
(b) herself
(c) yourself
(d) himself



Question No.15 : "This is _____ moment my parents were waiting for."

- (a) a (b) an
(c) the (d) any

Question No.16 : "You _____ pluck the flowers from the garden."

- (a) is not (b) has not
(c) are not (d) should not

Question No.17 : Which of the following pair has silent letters?

- (a) Carry, Pick (b) Feed, Drink
(c) Climb, Fight (d) Teach, Learn

Question No.18 : Choose the adverb of frequency from the following.

"He _____ goes to school in time."

- (a) already (b) happily
(c) efficiently (d) always

Question No.19 : Identify the sentence from the following with the correct use of capitalization.

- (a) ahmad went to Lahore to visit badshahi masjid and minar-e-Pakistan.
(b) Ahmad went to Lahore to visit Badshahi masjid and minar-e-Pakistan.
(c) ahmad went to Lahore to visit badshahi masjid and Minar-e-Pakistan.
(d) Ahmad went to Lahore to visit Badshahi Masjid and Minar-e-Pakistan.

Question No.20 : Identify the correct question form of the given sentence.

"Give me a glass of water."

- (a) Will you give me a glass of water?
- (b) You will not give me a glass of water?
- (c) Please give me a glass of water.
- (d) You will give me a glass of water?



Question No.21 : Identify the sentence of "Past Continuous Tense".

- (a) The boys played football in the playground.
- (b) The boys were playing football in the playground.
- (c) The boys are playing football in the playground.
- (d) The boys play football in the playground.

Question No.22 : Identify the sentence with incorrect sentence structure.

- (a) The crowd will president point out.
- (b) A flock of birds flew over our heads.
- (c) We smiled at each other.
- (d) We were helping the poor and the needy.

Question No.23 : Choose the sentence with the correct use of comma from the following.

- (a) Students, always keep pencils books, clipboards and notebooks in bags.
- (b) Students always keep pencils, books, clipboards and notebooks in bags.
- (c) Students always, keep pencils, books, clipboards, and notebooks in bags.
- (d) Students always keep pencils books clipboards, and notebooks in bags.

Question No.24 : "If he works hard, he will not _____ the match."

- (a) lose
- (b) loses
- (c) lost
- (d) losing

Question No.25 : "Charles Babbage _____ the first computer in 1834."

- (a) invent
- (b) inventing
- (c) invented
- (d) invents

Question No.26 : Identify the Passive Voice from the given sentences.

- (a) We celebrated World Health Day.
- (b) We will enjoy World Health Day.
- (c) World Health Day is celebrated by us.
- (d) We are celebrating World Health Day.



Question No.27 : Choose the right compound word which matches the picture.


- (a) Fishstar
- (b) Fish-Star
- (c) Star-fish
- (d) Starfish



Paragraph Instruction

Read the following poem carefully and answer the questions given below.

O Gracious and Merciful Lord
We always seek your pardon
All the sins as we have done
Stars shine at the night
Looks delight in the height
The moon vivid up so high
Like a diamond in the sky
Rain showers upon the trees
Floods the streets in summer
Spring brings the colors to life
Winter comes and brings cold
Leave falls in the autumn
All the blessings are by You



Question No. 28 : Choose the appropriate synonym of “Merciful”.

- (a) Cruel
- (b) Merciless
- (c) Fatal
- (d) Forgiving

Question No.29 : Which one of the following correctly rhymes with “Night”?

- (a) Pardon
- (b) Height
- (c) Shower
- (d) Autumn

Question No.30 : What is the purpose of the poet to mention all changing weather conditions?

- (a) To inform us about extreme weather.
- (b) To warn the reader about dangers.
- (c) To let the reader know about floods.
- (d) To show blessings of Lord.

Question No.31 : What figure of speech is used in the given sentence?

“Like a diamond in the sky”.

- (a) Rhyme Scheme
- (b) Simile
- (c) Metaphor
- (d) Alliteration

Question No.32 : Identify the theme of the poem.

- (a) Seeking Knowledge
- (b) Sorrows of Life
- (c) Wonders of Life
- (d) Blessings of Nature

SCHOOL BASED ASSESSMENT 2023
MODEL PAPER
GRADE 6



ISLAMIAT PART – B (Subjective Type)

[Part A: 30 Marks Part B: 30 Marks Part C: 40 Marks Total: 100 Marks]

School : _____
Tehsil : _____ District: _____

Student Name : _____ Section : _____

Roll Number : _____ Date : _____

General Instructions for students :

1. Use separate answer sheet for writing answers and give your personal information on it as well

جوابات لکھنے کے لیے علیحدہ سے جوابی کاپی کا استعمال کریں اور اس کے اوپر بھی اپنے بارے میں معلومات دیں۔

2. Read carefully and attempt all questions

غور سے پڑھیں اور تمام سوالات حل کریں۔

3- A question can consist of one or more parts.

ایک سوال ایک یا ایک سے زیادہ حصوں پر مشتمل ہو سکتا ہے۔

4- Use black/blue ink for writing answers. Use of lead pencil is not allowed.

جواب لکھنے کے لیے کالی / نیلی روشنائی کا استعمال کریں۔ کچی پنسل کے استعمال کی اجازت نہیں ہے۔

Total Marks: 30

Part-B (Constructed Response Questions)

Total Time: 45 Minutes

Question No: 1

سوال نمبر 1

a) Write the literal and terminological meaning of Azan.(4)

(a) اذان کا لغوی واصطلاحی مفہوم لکھیں۔ (4)

b) Write a note on the importance of funeral Salah. (4 Marks)

(b) نماز جنازہ کی اہمیت پر نوٹ لکھیں۔ (4 نمبر)

c) Write the method of offering funeral Salah. (2 Marks)

(c) نماز جنازہ کا طریقہ لکھیں۔ (2 نمبر)

Question No: 2

سوال نمبر 2

a) Explain the meaning of selflessness (Eesar). (2)

(a) ایثار کا مفہوم بیان کریں۔ (2)

b) Explain the selflessness (Eesar) of the Sahaba kiram رضی اللہ تعالیٰ عنہم on the occasion of the Battle of Tabuk. (4)

(b) غزوہ تبوک کے موقع پر صحابہ کرام رضی اللہ تعالیٰ عنہم کا ایثار بیان کریں۔ (4)

c) As Muslims and Pakistanis, how can we show selflessness for our country? (4)

(c) مسلمان اور پاکستانی ہونے کی حیثیت سے ہم کس طرح اپنے ملک کے لیے ایثار کا مظاہرہ کر سکتے ہیں؟ (4)

Question No: 3

سوال نمبر 3

a) By what title was Hazrat Khadijah رضی اللہ تعالیٰ عنہا known in her tribe? (2)

(a) ام المؤمنین حضرت خدیجہ رضی اللہ تعالیٰ عنہا اپنے قبیلہ میں کس لقب سے مشہور تھیں؟ (2)

(b) Why Hazrat Khadijah (رضی اللہ تعالیٰ عنہا) was impressed by the Rasoolullah (صلی اللہ تعالیٰ علیہ وعلیٰ آلہ واصحابہ وسلم)? (3)

(b) حضرت خدیجہ رضی اللہ تعالیٰ عنہا حضور اکرم صلی اللہ تعالیٰ علیہ وعلیٰ آلہ واصحابہ وسلم سے کیوں متاثر ہوئیں؟ (3)

(c) Mother of believers Hazrat Khadija's life is a source of guidance for Islamic women. Explain. (5)

(c) ام المؤمنین حضرت خدیجہ رضی اللہ تعالیٰ عنہا کی زندگی خواتین اسلام کے لئے سرچشمہ ہدایت ہے۔ وضاحت کریں۔ (5)

SCHOOL BASED ASSESSMENT 2023

MODEL PAPER

GRADE 6

ISLAMIAT PART – A (Objective Type)

[Part A: 30 Marks Part B: 30 Marks Part C: 40 Marks Total: 100 Marks]



School : _____

Tehsil : _____

District: _____

Student Name : _____

Section : _____

Roll Number : _____

Date : _____

General Instructions for students :

طلبہ کے لیے عمومی ہدایات:

1) Use mask & keep at least 3 ft. distance from each other.

۱۔ ماسک پہنیں اور آپس میں کم از کم 3 فٹ کا فاصلہ رکھیں۔

2) Read carefully and attempt all questions.

۲۔ غور سے پڑھیں اور تمام سوالات حل کریں۔

3) Encircle the correct option of each of the Multiple Choice Questions (MCQs) as shown in the example given below.

۳۔ ہر کثیر الانتخابی سوال کے صحیح جواب پر دائرہ لگائیں جیسا کہ نیچے دی گئی مثال میں دکھایا گیا ہے۔

مثال : مسلمانوں پر روزانہ کتنی نمازیں فرض ہیں؟

Example : How many Salah are obligatory for Muslims in a day?

Four

(b) چار

Three

(a) تین

Six

(d) چھ

Five

(c) پانچ

4) If more than one options are encircled in a question, no mark will be given.

۴۔ اگر کسی سوال میں ایک سے زیادہ جوابات کے گرد دائرہ لگایا گیا تو کوئی نمبر نہیں دیا جائے گا۔

Total Marks: 30

Part-A (Multiple Choice Questions)

Total Time: 45 Minutes

Instructions: Twenty (20) Multiple Choice Questions (MCQs) are given in this part. Each question carries 1.5 marks.

ہدایات: اس حصہ میں 20 کثیر الانتخابی سوالات دیے گئے ہیں۔ ہر سوال کے 1.5 نمبر ہیں۔

Question No.1 : The Oneness of Allah Almighty is mentioned in the:

سوال نمبر 1: اللہ تعالیٰ کی واحدانیت کا ذکر ہے؟

(a) Belief in Resalat

عقیدہ رسالت میں

(b) Belief in Tauheed

عقیدہ توحید میں

(c) Belief in Akhirat

عقیدہ آخرت میں

(d) Belief in Khatm-E-Nabuwat

عقیدہ ختم نبوت میں

Question No.2 : Rasolullah taught the words of Azan to:

سوال نمبر 2: نبی اکرم صلی اللہ علیہ وعلی آلہ واصحابہ وسلم نے اذان کے الفاظ سکھائے:

(a) Hazrat Umer Farooq رضی اللہ تعالیٰ عنہ

حضرت عمر فاروق رضی اللہ تعالیٰ عنہ کو

(b) Hazrat Zaid bin Haras رضی اللہ تعالیٰ عنہ

حضرت زید بن حارث رضی اللہ تعالیٰ عنہ کو

(c) Hazrat Abdullah bin Zaid رضی اللہ تعالیٰ عنہ

حضرت عبداللہ بن زید رضی اللہ تعالیٰ عنہ کو

(d) Hazrat Bilal رضی اللہ تعالیٰ عنہ

حضرت بلال رضی اللہ تعالیٰ عنہ کو

Question No.3 : The words used in congregational prayers are:

سوال نمبر 3: باجماعت نماز کے لیے پکارے جانے والے الفاظ کہلاتے ہیں:

(a) kalimaat

کلمہ جات

(b) azan

اذان

(c) tasbih

تسبیح

(d) dua

دعا

Question No.4 : Complete the translation of Hadith, Salah is ----- for the believer :

سوال نمبر 4: حدیث کا ترجمہ مکمل کریں نماز مومن کی ہے:

- (a) glory شان (b) life جان (c) ascension معراج (d) recognition پہچان

Question No.5 : The greatness and purity of Allah Almighty is acknowledged by saying سبحان ربی العظیم :

سوال نمبر 5: سبحان ربی العظیم کہ کر اللہ تعالیٰ کی عظمت اور پاکیزگی کا اقرار کیا جاتا ہے:

- (a) in Ruku رکوع میں (b) in prostration سجدے میں (c) in stay قیام میں (d) in qada قعدہ میں

Question No.6 : The lesson we seek on attending the funeral Namaz is:

سوال نمبر 6: نماز جنازہ میں شرکت سے درس ملتا ہے:

- (a) the ritual is performed رسم ادا ہوتی ہے
(b) the relationship grows تعلق بڑھتا ہے
(c) belief in the Hereafter becomes firm آخرت پر ایمان پکا ہوتا ہے
(d) knowledge increases علم میں اضافہ ہوتا ہے

Question No.7 : Hazrat Ibrahim and Hazrat Ismaeel علیہما السلام prayed " O Allah make this city(i.e Makkah)"

سوال نمبر 7: حضرت ابراہیم اور حضرت اسماعیل علیہما السلام نے دعا کی کہ اے اللہ اس شہر (یعنی مکہ) کو بنا دے:

- (a) city of peace and prosperity امن و ثمرات کا شہر (b) city of valleys وادیوں کا شہر
(c) city of buildings عمارتوں کا شہر (d) city of gardens باغوں کا شہر

Question No.8 : The ideal means of seeking forgiveness for previous sins Regarding Allah's rights and avoiding future sins is:

سوال نمبر 8: حقوق اللہ کے متعلقہ سابقہ گناہ بخشوانے اور آئندہ گناہوں سے بچنے کا مثالی ذریعہ ہے:

- (a) Hajj حج (b) Soam روزہ (c) Zakat زکوٰۃ (d) Namaz نماز

Question No.9 : When Rasoolullah وسم واصحابہ وعلیٰ آلہ واصحابہ وسلم sent letters to preach Islam, the official religion of Egypt was the:

سوال نمبر 9: جب نبی کریم صلی اللہ علیہ وعلیٰ آلہ واصحابہ وسلم نے دعوت اسلام کے لیے خطوط بھیجے تو اس وقت مصر کا سرکاری مذہب تھا:

- (a) Judaism یہودیت (b) Christianity عیسائیت (c) Majusiyat مجوسیت (d) Atheism دہریت

Question No.10 : On the occasion of the Ghazwa-e-Khyber, the Jews intended to eliminate the----- from the world forever with help of polytheistic tribes:

سوال نمبر 10: غزوہ خیبر کے موقع پر یہودیوں کا ارادہ تھا کہ مشرک قبائل کو ساتھ ملا کر ہمیشہ کے لیے دنیا سے ختم کر دیں گے۔

- (a) Polytheists مشرکین کو (b) pyrolary آتش پرستی کو (c) Christianity عیسائیت کو (d) Islam اسلام کو

Question No.11 : There is a lesson for us in the command of Allah Almighty "ان اللہ یحب التوابین ویحب المتطہرین"

سوال نمبر 11: اللہ تعالیٰ کے فرمان ان اللہ یحب التوابین ویحب المتطہرین میں ہمارے لیے سبق ہے:

- (a) of Generosity سخاوت کا (b) of Cleaning صفائی کا (c) of Piety تقویٰ کا (d) of Trust امانت داری کا

Question No.12 : The people of Makkah have given to the Rasoolullah وسم واصحابہ وعلیٰ آلہ واصحابہ وسلم the title of "الصادق" due to His :

سوال نمبر 12: اہل مکہ کی طرف سے نبی کریم صلی اللہ علیہ وعلیٰ آلہ واصحابہ وسلم کو "الصادق" لقب دیے جانے کی وجہ ہے آپ صلی اللہ علیہ وعلیٰ آلہ واصحابہ وسلم کا:

- (a) behaving ethically اخلاق سے پیش آنا (b) adopting simplicity سادگی اختیار کرنا
(c) speaking the truth کا سچ بولنا (d) doing justice کا انصاف کرنا

Question No.13 : According to the Hadith of the Rasoolullah وسم واصحابہ وعلیٰ آلہ واصحابہ وسلم truth saves while lie.....

سوال نمبر 13: نبی کریم صلی اللہ علیہ وعلیٰ آلہ واصحابہ وسلم کے ارشاد کے مطابق سچ نجات دیتا ہے اور جھوٹ -----

- (a) bothers پریشان کرتا ہے (b) indulges in problems مسائل میں ڈالتا ہے
(c) makes angry غصہ دلاتا ہے (d) creats jealousy حسد پیدا کرتا ہے

Question No.14 : It is also a kind of betrayal (Khianat):

سوال نمبر 14: خیانت کی ایک قسم ہے:

- (a) telling a lie جھوٹ بولنا (b) stealing چوری کرنا
(c) negligence in duties فراموشی میں غفلت برتنا (d) being jealous حسد کرنا

Question No.15 : Every good act is called:

سوال نمبر 15: بھلائی کا ہر عمل کہلاتا ہے:

- (a) Favor احسان (b) Truthfulness صداقت (c) Patience صبر (d) Integrity امانت

Question No.16 : If you spend all your pocket money your friend needs it, this is an expression of:

سوال نمبر 16: آپ کے دوست کو ضرورت پڑنے پر آپ اپنا سارا جیب خرچ اسے دے دیں تو یہ اظہار ہے:

- (a) truthfulness طہارت کا (b) sacrifice ایثار کا (c) trust امانت کا (d) purity صداقت کا

Question No.17 : The tenth year of the Nabuwat is called the year of general mourning due to :

سوال نمبر 17: بعثت کے دسویں سال کو عام الحزن قرار دیے جانے کی وجہ ہے:

- (a) martyrdom of Hazrat Ali رضی اللہ تعالیٰ عنہ شہادت حضرت علی رضی اللہ تعالیٰ عنہ
(b) incident of Karbala واقعہ کربلا
(c) martyrdom of Hazrat Umar رضی اللہ تعالیٰ عنہ شہادت حضرت عمر رضی اللہ تعالیٰ عنہ
(d) death of Hazrat Khadija رضی اللہ تعالیٰ عنہا حضرت خدیجہ رضی اللہ تعالیٰ عنہا کی وفات

Question No.18 : We learn a lesson from the practical life of Hazrat Ali رضی اللہ تعالیٰ عنہ:

سوال نمبر 18: حضرت علی رضی اللہ تعالیٰ عنہ کی عملی زندگی سے ہمیں درس ملتا ہے:

- (a) malice بغض کا (b) fighting لڑائی کا (c) resentment کینہ کا (d) braveness شجاعت کا

Question No.19 : The specific reason for the fame of the family of Hazrat Data Ganj Bakhsh Ali Hajwary was:

سوال نمبر 19: حضرت داتا گنج بخش علی ہجویری رحمۃ اللہ علیہ کے خاندان کی شہرت کی خاص وجہ تھی:

- (a) knowledge and piety علم اور تقویٰ (b) equality and patience مساوات اور صبر
(c) bravery and courage بہادری اور ہمت (d) wealth and property دولت اور جائیداد

Question No.20 : known as the conqueror of Andalusia:

سوال نمبر 20: فاتح اندلس (سپین) کے لقب سے مشہور ہوئے:

- (a) Muhammad Bin Qasim رحمۃ اللہ علیہ محمد بن قاسم رحمۃ اللہ علیہ
(b) Salah Uddin Ayoobi رحمۃ اللہ علیہ صلاح الدین ایوبی رحمۃ اللہ علیہ
(c) Musa Bin Naseer رحمۃ اللہ علیہ موسیٰ بن نصیر رحمۃ اللہ علیہ
(d) Tariq Bin Zayyad رحمۃ اللہ علیہ طارق بن زیاد رحمۃ اللہ علیہ

SCHOOL BASED ASSESSMENT 2023

MODEL PAPER

GRADE 6

MATHEMATICS PART – B (Subjective Type)

[Paper A: 48 Marks, Paper B: 52 Marks, Total: 100 Marks]



School : _____
Tehsil : _____ District: _____

Student Name : _____ Section : _____

Roll Number : _____ Date : _____

General Instructions for students :

1. Read carefully and attempt all questions.

۱۔ غور سے پڑھیں اور تمام سوالات حل کریں۔

2. A question can consist of one or more parts.

۲۔ ایک سوال ایک یا ایک سے زیادہ حصوں پر مشتمل ہو سکتا ہے۔

3. Use black/blue ink for writing answers in separate answer sheet. Use of lead pencil is not allowed.

۳۔ جواب لکھنے کے لیے الگ سے جوابی کاپی میں کالی / نیلی روشنائی کا استعمال کریں۔ کچی پنسل کے استعمال کی اجازت نہیں ہے۔

Total Marks: 52

Part-B (Constructed Response Questions)

Total Time: 1 Hour 45 Minutes

Question No: 1

سوال نمبر 1

a) Write the following sets in tabular form. (5 marks)

X= The set of letters of the word Mathematics

Y=Set of natural numbers less than 13.

(a) درج ذیل سیٹوں کو اندراجی طریقے میں لکھیں۔ (5 نمبر)

X = لفظ Mathematics کے حروف کا سیٹ

Y = 13 سے کم قدرتی اعداد کا سیٹ

b) Prove that $13 + (15 + 17) = (13 + 15) + 17$. (5 marks)

(b) ثابت کریں۔ $13 + (15 + 17) = (13 + 15) + 17$ (5 نمبر)

Question No: 2

سوال نمبر 2

a) Find the HCF of 18, 24, 72 by prime factorization method. (5 marks)

(a) 18, 24, 72 کا عطا بزرگہ مفرد تجزی معلوم کیجیے۔ (5 نمبر)

b) Simplify: $[(+21) - (-7)] - (+27)$. (5 Marks)

(b) مختصر کریں۔ $[(+21) - (-7)] - (+27)$ (5 نمبر)

Question No: 3

سوال نمبر 3

a) Asad ate $\frac{1}{6}$, Ali ate $\frac{1}{4}$ and Umer ate $\frac{1}{3}$ of a pizza. How much pizza they ate altogether and how much they left? (5 marks)

(a) اسد نے ایک پیزے کا $\frac{1}{6}$ ، علی نے $\frac{1}{4}$ اور عمر نے $\frac{1}{3}$ حصہ کھایا۔ انہوں نے کل کتنا پیزا کھایا اور کتنا باقی بچا؟ (5 نمبر)

b) If a washerman irons 4 shirts in 12 minutes. Then how many shirts will he iron in one hour? (5 marks)

(b) اگر ایک دھوبی 12 منٹ میں 4 شرٹیں استری کرتا ہو تو وہ ایک گھنٹے میں کتنی شرٹیں استری کرے گا؟ (5 نمبر)

Question No: 4

سوال نمبر 4

a) The sum of two numbers having a difference of 10 is 100. Find the numbers? (5 marks)

(a) 10 کا فرق رکھنے والے دو اعداد کا مجموعہ 100 ہے۔ اعداد معلوم کریں؟ (5 نمبر)

b) Construct a ΔABC if $m\overline{AB} = 4$ cm, $m\overline{AC} = 3$ cm and $m\angle BAC = 70^\circ$. (7 Marks)

(b) ΔABC بنائیں اگر $m\overline{AB} = 4$ cm، $m\overline{AC} = 3$ cm اور $m\angle BAC = 70^\circ$ ۔ (7 نمبر)

Question No: 5

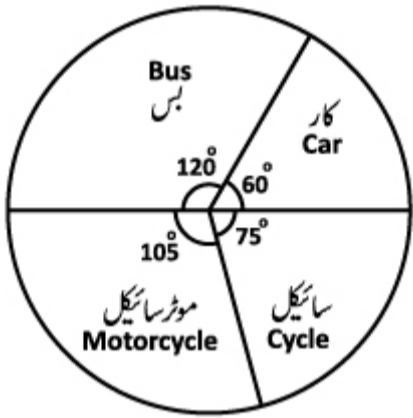
سوال نمبر 5

a) The perimeter of a square-shaped room is 48 meters. Find its area. (5 marks)

(a) ایک مربع نما کمرے کا احاطہ 48 میٹر ہے۔ اس کا رقبہ معلوم کریں۔ (5 نمبر)

b) The given pie graph represents 1080 people of a town travelling by different modes of transport. Find number of people who travel by motorcycle and car. (5 marks)

(b) دیا گیا پائی گراف ایک قصبہ کے مختلف ذرائع سے سفر کرنے والے 1080 افراد کو ظاہر کرتا ہے۔ موٹر سائیکل اور کار میں سفر کرنے والے افراد کی تعداد معلوم کریں۔ (5 نمبر)



SCHOOL BASED ASSESSMENT 2023

MODEL PAPER

GRADE 6

MATHEMATICS PART – A (Objective Type)

[Paper A: 48 Marks, Paper B: 52 Marks, Total: 100 Marks]



School : _____

Tehsil : _____

District: _____

Student Name : _____

Section : _____

Roll Number : _____

Date : _____

General Instructions for students :

طلبہ کے لیے عمومی ہدایات:

1) Use mask & keep at least 3 ft. distance from each other.

۱۔ ماسک پہنیں اور آپس میں کم از کم 3 فٹ کا فاصلہ رکھیں۔

2) Read carefully and attempt all questions.

۲۔ غور سے پڑھیں اور تمام سوالات حل کریں۔

3) Encircle the correct option of each of the Multiple Choice Questions (MCQs) as shown in the example given below.

۳۔ ہر کثیر الانتخابی سوال کے صحیح جواب پر دائرہ لگائیں جیسا کہ نیچے دی گئی مثال میں دکھایا گیا ہے۔

Example : $64 \div 8 =$

a) 4 b) 6 c) 8 d) 12

4) If more than one options are encircled in a question, no mark will be given.

۴۔ اگر کسی سوال میں ایک سے زیادہ جوابات کے گرد دائرہ لگایا گیا تو کوئی نمبر نہیں دیا جائے گا۔

Total Marks: 48

Part-A (Multiple Choice Questions)

Total Time: 1 Hour

Instructions: Thirty two (32) Multiple Choice Questions (MCQs) are given in this paper. Each question carries 1.5 marks.

ہدایات: اس پیپر میں تیس (32) کثیر الانتخابی سوالات دیے گئے ہیں۔ ہر سوال کے 1.5 نمبر ہیں۔

Question No.1 : To represent the set of Whole numbers, we use the capital letter:

سوال نمبر 1: مکمل اعداد کے سیٹ کو اس لیٹر سے ظاہر کرتے ہیں۔

- (a) P (b) E
(c) O (d) W

Question No.2 : If $M = \{1, 2, 3, 4\}$ and $N = \{4, 3, 2, 1\}$, then:

سوال نمبر 2: اگر $M = \{1, 2, 3, 4\}$ اور $N = \{4, 3, 2, 1\}$ ہو تو

- (a) $M = N$ (b) $M \neq N$
(c) $M \in N$ (d) $N \in M$

Question No.3 : Solve $5283 + 4914$

سوال نمبر 3: حل کریں $5283 + 4914$

- (a) 10197 (b) 10917
(c) 11097 (d) 11907

Question No.4 : Solve 84×35

سوال نمبر 4: حل کریں 84×35

- (a) 119 (b) 2100
(c) 2940 (d) 4040

Question No.5 : The factors of 28 are:

سوال نمبر 5: 28 کے عا د ہیں۔

- (a) 1,2,3,7,8,14,28
(c) 1,2,4,7,14,28

- (b) 1,2,5,7,8,28
(d) 1,2,4,7,20,28

Question No.6 : The prime factors of 24 are:

سوال نمبر 6: 24 کے مفرد اجزائے ضربی ہیں۔

- (a) $1 \times 2 \times 3 \times 4$
(c) $1 \times 2 \times 2 \times 6$

- (b) $2 \times 2 \times 2 \times 3$
(d) $1 \times 3 \times 8$

Question No.7 : The Index notation of $5 \times 5 \times 5 \times 5 \times 5 \times 5 \times 5$ is:

سوال نمبر 7: $5 \times 5 \times 5 \times 5 \times 5 \times 5 \times 5$ کی قوت نمائی شکل ہے۔

- (a) 5^5
(c) 5^7

- (b) 5^6
(d) 5^8

Question No.8 : The HCF of 17 and 51 is:

سوال نمبر 8: 17 اور 51 کا عا د اعظم ہے۔

- (a) 1
(c) 17

- (b) 3
(d) 34

Question No.9 : The numbers having more than two factors are called:

سوال نمبر 9: ایسے اعداد جو دو سے زیادہ عا د رکھتے ہوں _____ کہلاتے ہیں۔

- (a) Prime Numbers
(c) Even Numbers

مفرد اعداد
جفت اعداد

- (b) Composite Numbers
(d) Odd Numbers
- مرکب اعداد
طاق اعداد

Question No.10 : The composite numbers less than 15 are:

سوال نمبر 10: 15 سے چھوٹے مرکب اعداد ہیں۔

- (a) 2,4,8,9,10,12,16
(c) 4,6,8,10,11,14

- (b) 4,6,8,9,10,12,14,15
(d) 4,6,8,9,10,12,14

Question No.11 : On the number line the next integer greater than 2 is:

سوال نمبر 11: نمبر لائن پر 2 سے بڑا اگلا صحیح عدد ہے۔



- (a) -3
(c) 1

- (b) -1
(d) 3

Question No.12 : Solve $128 \div (-8)$

سوال نمبر 12: حل کریں $128 \div (-8)$

- (a) -16
(c) +14

- (b) -14
(d) +16

Question No.13 : The numerical value of -64 is:

سوال نمبر 13: -64 کی عددی قیمت ہے۔

- (a) -65
(c) 64

- (b) -64
(d) 65

Question No.14 : The ascending order of 0, -3, 2, 4, -1 is:

سوال نمبر 14: 0, -3, 2, 4, -1 کی صعودی ترتیب ہے۔

- (a) 4, 2, 0, -1, -3
(c) -1, -3, 0, 2, 4

- (b) 0, -1, 2, -3, 4
(d) -3, -1, 0, 2, 4

Question No.15 : $(-18) + (-12) =$

سوال نمبر 15: $(-18) + (-12) =$

- (a) -30
(c) 6

- (b) -6
(d) 30

Question No.16 : $2.5 + (3.6 \div 2.4) =$

سوال نمبر 16 : $2.5 + (3.6 \div 2.4) =$

- (a) 2.5 (b) 4.0
(c) 6.0 (d) 7.5

Question No.17 : In a class of 35 girls and 25 boys, the ratio of girls to boys is:

سوال نمبر 17 : ایک جماعت میں 35 لڑکیاں اور 25 لڑکے ہیں، لڑکیوں کی لڑکوں سے نسبت ہے۔

- (a) 7:1 (b) 1:7
(c) 7:5 (d) 5:7

Question No.18 : The value of x in the given proportion $3 : x :: 2 : 6$ is:

سوال نمبر 18 : دیئے گئے تناسب $3 : x :: 2 : 6$ میں x کی قیمت ہے۔

- (a) $x = 1$ (b) $x = 4$
(c) $x = 9$ (d) $x = 12$

Question No.19 : $\frac{3}{10}$ in percentage is:

سوال نمبر 19 : $\frac{3}{10}$ فیصد میں ہے۔

- (a) 20% (b) 30%
(c) 40% (d) 60%

Question No.20 : Waqar bought a bag for Rs 400 and sold it for Rs 600. His profit percentage is:

سوال نمبر 20 : وقار نے ایک بیگ 400 روپے میں خریدا اور اسے 600 روپے میں بیچ دیا۔ اس کا نفع فیصد ہے۔

- (a) 40% (b) 50%
(c) 60% (d) 70%

Question No.21 : Solve $8y - (3x + 6y)$

سوال نمبر 21 : حل کریں $8y - (3x + 6y)$

- (a) $14y - 3x$ (b) $-14y + 3x$
(c) $-3x + 14y$ (d) $-3x + 2y$

Question No.22 : Solve $[5x - \{3x + (2x - x)\}]$

سوال نمبر 22 : حل کریں $[5x - \{3x + (2x - x)\}]$

- (a) x (b) -x
(c) 9x (d) -9x

Question No.23 : If a=2 and b=3 then the value of 4ab is:

سوال نمبر 23 : اگر $a=2$ اور $b=3$ تو $4ab$ کی قیمت ہے۔

- (a) 24 (b) 25
(c) 26 (d) 27

Question No.24 : If $a = 3$, and $3a - b = 7$, then value of b is:

سوال نمبر 24 : اگر $a = 3$ اور $3a - b = 7$ ہو تو b کی قیمت ہے۔

- (a) -4 (b) -2
(c) 2 (d) 4

Question No.25 : $(4x^2 - 2x + 5) + (3x^2 - 5x - 3) =$

سوال نمبر 25 : $(4x^2 - 2x + 5) + (3x^2 - 5x - 3) =$

- (a) $7x^2 - 7x + 2$ (b) $7x^2 + 7x + 2$
(c) $7x^2 - 7x - 2$ (d) $-7x^2 - 7x - 2$

Question No.26 : "The difference of a number and 17 is 25". Correct equation of the given statement is:

سوال نمبر 26 : "ایک عدد اور 17 کا فرق 25 ہے"۔ دیئے گئے بیان کی درست مساوات ہے۔

- (a) $x + 17 = 25$ (b) $x - 17 = 25$
(c) $x + 25 = 17$ (d) $x - 25 = 17x$

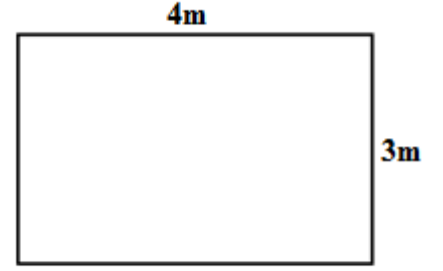
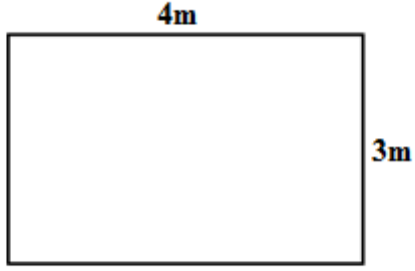
Question No.27 : An algebraic equation is:

سوال نمبر 27 : ایک الجبری مساوات ہے۔

- (a) $5x - y - 2$ (b) $5x - y < 2$
(c) $5x - y > 2$ (d) $5x - y = 2$

Question No.28 : The perimeter of the given rectangle is:

سوال نمبر 28: دی گئی مستطیل کا احاطہ ہے۔



(a) 7m

7 میٹر

(b) 12m

12 میٹر

(c) 14m


14 میٹر

(d) 21m

21 میٹر

Question No.29 : In the figure, the length of one side of a square field is given. Its area is:

سوال نمبر 29: شکل میں ایک مربعی کھیت کے ایک ضلع کی لمبائی دی گئی ہے۔ اس کا رقبہ ہے۔



(a) 5 m²

5 مربع میٹر

(b) 10 m²

10 مربع میٹر

(c) 20 m²

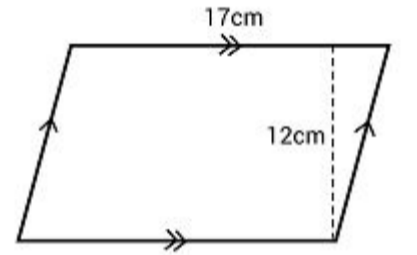
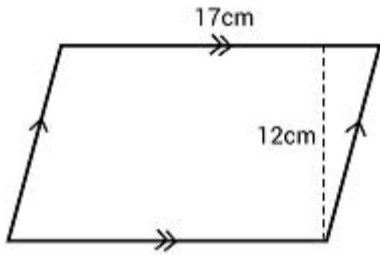
20 مربع میٹر

(d) 25 m²

25 مربع میٹر

Question No.30 : Area of the given Parallelogram is:

سوال نمبر 30: دی گئی متوازی الاضلاع کا رقبہ ہے۔



(a) 104cm²

104 سینٹی میٹر

(b) 204cm²

204 سینٹی میٹر

(c) 304cm²

304 سینٹی میٹر

(d) 404cm²

404 سینٹی میٹر

Question No.31 : The number of vertices in a cuboid is:

سوال نمبر 31: ایک مکعب نما میں راسوں کی تعداد ہوتی ہے۔

(a) 6

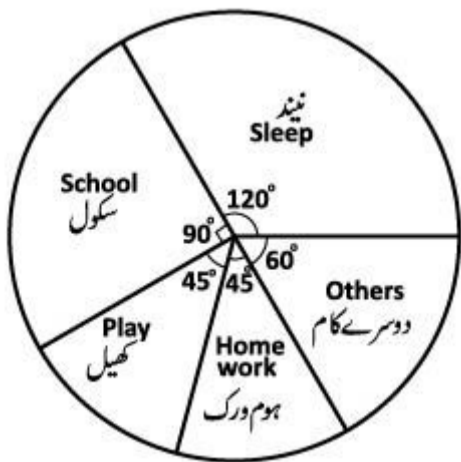
(b) 8

(c) 10

(d) 12

Question No.32 : The following pie graph is showing the daily (24 hours) routine of Ali. According to the pie graph how much time did he sleep?

سوال نمبر 32: نیچے دیا گیا پائی گراف علی کے روزانہ (24 گھنٹے) کے معمولات کو ظاہر کر رہا ہے۔ پائی گراف کے مطابق اس نے کتنا وقت سو کر گزارا؟



(a) 6 hours

6 گھنٹے

(b) 8 hours

8 گھنٹے

(c) 10 hours

10 گھنٹے

(d) 12 hours

12 گھنٹے

SCHOOL BASED ASSESSMENT 2023
MODEL PAPER
GRADE 6



SCIENCE PART – B (Subjective Type)

[Paper A: 48 Marks, Paper B: 52 Marks, Total: 100 Marks]

School : _____
Tehsil : _____ District: _____

Student Name : _____ Section : _____

Roll Number : _____ Date : _____

General Instructions for students :

طلبا کے لیے عمومی ہدایات:

1. Use separate answer sheet for writing answers and give your personal information on it as well.
۱. جوابات لکھنے کے لیے علیحدہ سے جوابی کاپی کا استعمال کریں اور اس کے اوپر بھی اپنے بارے میں معلومات دیں۔
2. Read carefully and attempt all questions.
۲. غور سے پڑھیں اور تمام سوالات حل کریں۔
3. A question can consist of one or more parts.
۳. ایک سوال ایک یا ایک سے زیادہ حصوں پر مشتمل ہو سکتا ہے۔
4. Use black/blue ink for writing answers. Use of lead pencil is not allowed.
۴. جواب لکھنے کے لیے کالی/ نیلی روشنائی کا استعمال کریں۔ کچی پنسل کے استعمال کی اجازت نہیں ہے۔

Total Marks: 52

Part-B (Constructed Response Questions)

Total Time: 1 Hour 45 Minutes

Question No: 1

سوال نمبر 1

a) Define a Cell. (2 Marks)

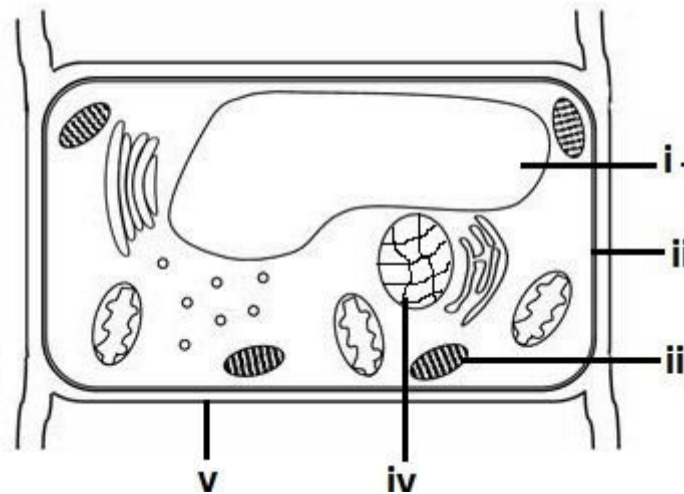
(a) سیل کی تعریف کریں۔ (2)

b) Write any three similarities between animal and plant cells. (3 Marks)

(b) پودے اور جانور کے سیل کی کوئی سی تین مماثلتیں لکھیں۔ (3)

c) Write the names of labeled parts of the given below diagram. (5 Marks)

(c) دی گئی ڈایا گرام کے لیبل شدہ حصوں کے نام لکھیں۔ (5)



Question No: 2

سوال نمبر 2

a) Define environment. (2 Marks)

(a) ماحول کی تعریف کریں۔ (2)

b) Identify and circle the carnivores from the following. (4 Marks)

lion, crow, cat, bear, frog, humans, snake

(b) درج ذیل میں سے کارنی دورز کی شناخت کریں اور ان کے گرد دائرہ لگائیں۔ (4)
شیر، کوا، بلی، بھالو، مینڈک، انسان، سانپ۔

c) Identify any two biotic and two abiotic components from the following diagram. (4 Marks)

(c) درج ذیل تصویر میں سے دو بائیوٹیک اجزا اور دو اے بائیوٹیک اجزا کی شناخت کریں۔ (4)



Question No: 3

سوال نمبر 3

a) Define molecule. (2 Marks)

(a) مالیکیول کی تعریف کریں۔ (2)

b) Write down the symbols of the following elements. (5 Marks)

Aluminum, Gold, Silver, Sodium, Mercury

(b) دیئے گئے ایلیمنٹس کے سمبلز لکھیں۔ (5)
ایلو مینیم، سونا، چاندی، سوڈیم، مرکری

c) Write the names of any five metals. (5 Marks)

(c) کوئی سی پانچ دھاتوں کے نام لکھیں۔ (5)

Question No: 4

سوال نمبر 4

a) Define potential energy. (2 Marks)

(a) پوٹینشل انرجی کی تعریف بیان کریں۔ (2)

b) Write down the name of any three kinds of artificial satellites. (3 Marks)

(b) کوئی سی تین قسم کے مصنوعی سیٹلائٹس کے نام لکھیں۔ (3)

c) Where do comets come from? Write the name of its three parts. (2+3 Marks)

(c) کامٹس کہاں سے آتے ہیں؟ اس کے تین حصوں کے نام لکھیں۔ (5)

Question No: 5

سوال نمبر 5

a) Define asteroid belt. (2 Marks)

(a) ایسٹرایڈ بیلٹ کی تعریف کریں۔ (2)

b) How asteroids are formed? (3 Marks)

(b) ایسٹرایڈز کیسے بنتے ہیں؟ (3)

c) Describe artificial satellites with examples. (5 Marks)

(c) آرٹیفیشل سیٹلائٹس پر نوٹ لکھیں کو مثالوں کی مدد سے بیان کریں۔ (5)

SCHOOL BASED ASSESSMENT 2023

MODEL PAPER

GRADE 6

SCIENCE PART – A (Objective Type)

[Paper A: 48 Marks, Paper B: 52 Marks, Total: 100 Marks]



School : _____

Tehsil : _____

District: _____

Student Name : _____

Section : _____

Roll Number : _____

Date : _____

General Instructions for students :

طلباء کے لیے عمومی ہدایات:

1) Use mask & keep at least 3 ft. distance from each other.

۱۔ ماسک پہنیں اور آپس میں کم از کم 3 فٹ کا فاصلہ رکھیں۔

2) Read carefully and attempt all questions.

۲۔ غور سے پڑھیں اور تمام سوالات حل کریں۔

3) Encircle the correct option of each of the Multiple Choice Questions (MCQs) as shown in the example given below.

۳۔ ہر کثیر الانتخابی سوال کے صحیح جواب پر دائرہ لگائیں جیسا کہ نیچے دی گئی مثال میں دکھایا گیا ہے۔

Example : Covid-19 is caused by:

مثال : کووڈ-19 کی وجہ ہے :

a) bacteria بیکٹیریا

b) fungi فنجائی

(c) virus وائرس

d) algae الگی

4) If more than one options are encircled in a question, no mark will be given.

۴۔ اگر کسی سوال میں ایک سے زیادہ جوابات کے گرد دائرہ لگایا گیا تو کوئی نمبر نہیں دیا جائے گا۔

Total Marks: 48

Part-A (Multiple Choice Questions)

Total Time: 1 Hour

Instructions: Thirty two (32) Multiple Choice Questions (MCQs) are given in this paper. Each question carries 1.5 marks.

ہدایات : اس پیپر میں بتیس (32) کثیر الانتخابی سوالات دیے گئے ہیں۔ ہر سوال کے 1.5 نمبر ہیں۔

Question No.1 : Which of the following parts of a plant cell, traps energy from the Sun for making food?

سوال نمبر 1: مندرجہ ذیل میں سے پودے کے سیل کا کون سا حصہ، سورج سے آنے والی روشنی کو خوراک بنانے کے لیے استعمال کرتا ہے؟

(a) Mitochondria

مائیٹو کونڈریا

(b) Nucleus

نیوکلئیس

(c) Chloroplast

کلوروپلاسٹ

(d) Vacuole

ویکیول

Question No.2 : Identity tissue from the following.

سوال نمبر 2: درج ذیل میں سے نشو کی شناخت کریں۔

(a) Heart

دل

(b) Blood

خون

(c) Liver

جگر

(d) Stomach

معدہ

Question No.3 : Which of the following organelle is NOT found in the animal cell?

سوال نمبر 3: درج ذیل میں سے کون سا عضو جانوروں کے سیل میں نہیں پایا جاتا؟

(a) Cell wall

سیل وال

(b) Nucleus

نیوکلئیس

(c) Vacuoles

ویکیول

(d) Centrioles

سنٹریولز

Question No.4 : The cavity of the nose is known as:

سوال نمبر 4: ناک کی کیویٹی کو _____ کہا جاتا ہے۔

(a) nasal cavity

ناک کا جوف

(b) hammer

ہیمر

(c) nostrils

نتھن

(d) anvil

اینول

Question No.5 : The coloured part of the eye beneath the cornea is called:

سوال نمبر 5: کارنیا کے نیچے آنکھ کا رنگین حصہ _____ کہلاتا ہے۔

- (a) iris آئرس (b) pupil پوپل (c) retina ریٹینا (d) lense لینز

Question No.6 : Which of the following is a product of photosynthesis?

سوال نمبر 6: درج ذیل میں سے فوٹو سنتھی سز کی پروڈکٹ ہے:

- (a) Water پانی (b) Carbon dioxide کاربن ڈائی آکسائیڈ
(c) Chlorophyll کلوروفل (d) Oxygen آکسیجن

Question No.7 : Plants normally grow well at temperature:

سوال نمبر 7: پودے عام طور پر _____ درجہ حرارت پر اچھی طرح نمو پاتے ہیں۔

- (a) 15 – 25°C 15-25 ڈگری سینٹی گریڈ (b) 25 – 35°C 25-35 ڈگری سینٹی گریڈ
(c) 35 – 45°C 35-45 ڈگری سینٹی گریڈ (d) 20 – 30°C 20-30 ڈگری سینٹی گریڈ

Question No.8 : What will be the effect on earth if the process of photosynthesis is stopped?

سوال نمبر 8: اگر فوٹو سنتھیسز کا عمل روک دیا جائے تو زمین پر کیا اثر پڑے گا؟

- (a) Oxygen will increase in quantity آکسیجن کی مقدار میں اضافہ ہو جائے گا
(b) Carbon dioxide will decrease in quantity کاربن ڈائی آکسائیڈ کی مقدار میں کمی ہو جائے گی
(c) Plants will get more food پودوں کو زیادہ خوراک ملے گی
(d) Plants will die gradually آہستہ آہستہ پودے مر جائیں گے

Question No.9 : Which one of the following microorganisms provides important compounds to the plants?

سوال نمبر 9: مندرجہ ذیل میں سے کون سا خوردبینی جاندار پودوں کو اہم مرکبات فراہم کرتا ہے؟

- (a) Bacteria بیکٹیریا (b) Fungi فنجائی (c) Algae الگی (d) Mushroom مشروم

Question No.10 : Identify an example of the biotic component from the following.

سوال نمبر 10: درج ذیل میں سے حیاتیاتی (بائیوٹک) جزو کی مثال کی شناخت کریں۔

- (a) Water پانی (b) Sand مٹی (c) Bacteria بیکٹیریا (d) Light روشنی

Question No.11 : The hair and mucus in our nose helps in ___ of air.

سوال نمبر 11: ہماری ناک میں موجود بال اور میوکس ہوا کی _____ میں مدد دیتے ہیں۔

- (a) purification پوریفیکیشن (b) filtration فلٹریشن (c) sublimation سبلمیشن (d) distillation ڈسٹیلیشن

Question No.12 : Which compound is used to manufacture caustic soda?

سوال نمبر 12: کون سا کمپاؤنڈ کا سٹک سوڈا بنانے کے لیے استعمال ہوتا ہے؟

- (a) Carbon dioxide کاربن ڈائی آکسائیڈ (b) Plaster of paris پلاسٹر آف پیرس
(c) Tincture of iodine ٹنکچر آف آئیوڈین (d) Sodium chloride سوڈیم کلورائیڈ

Question No.13 : Which of the following is the world's largest mixture?

سوال نمبر 13: درج ذیل میں سے دنیا کا سب سے بڑا مکسچر کون سا ہے؟

- (a) Pond تالاب (b) Canal نہر (c) Sea سمندر (d) River دریا

Question No.14 : Identify the structure of molecule in the given below image.

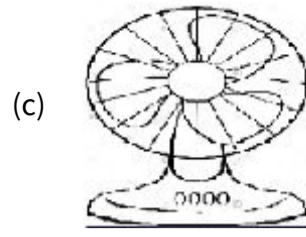
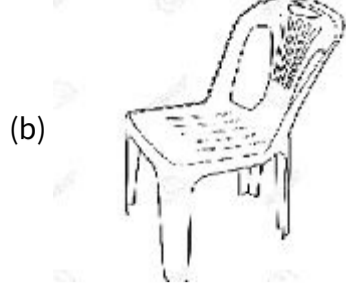
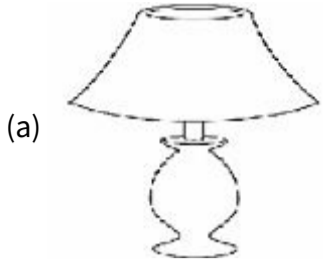
سوال نمبر 14: نیچے تصویر میں دیئے گئے مالیکیول کی ساخت کی شناخت کریں۔

- (a) Water پانی
(b) Nitrogen نائٹروجن
(c) Oxygen آکسیجن
(d) Hydrogen ہائیڈروجن



Question No.15 : Identify the object which is NOT an energy converter.

سوال نمبر 15: اس شے کی شناخت کریں جو توانائی کو ایک شکل سے دوسری میں تبدیل نہیں کرتی۔



Question No.16 : Which one of the following dissolved gases is used by aquatic plants to make food?

سوال نمبر 16: مندرجہ ذیل میں سے کون سی حل شدہ گیس کو آبی پودے خوراک بنانے کے لیے استعمال کرتے ہیں؟

(a) Oxygen

آکسیجن

(b) Nitrogen

نائٹروجن

(c) Ammonia

امونیا

(d) Carbon dioxide

کاربن ڈائی آکسائیڈ

Question No.17 : Identify the correct composition.

سوال نمبر 17: درست ترکیب کی نشاندہی کریں۔

(a) Solute + Solution → Solvent

سولیوٹ + سلوشن → سولیونٹ

(b) Solvent + Solution → Solute

سولیونٹ + سلوشن → سولیوٹ

(c) Solvent + Solute → Solution

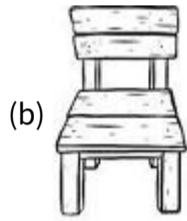
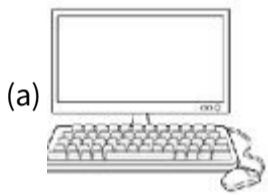
سولیونٹ + سولیوٹ → سلوشن

(d) Solvent + Solvent → Solution

سولیونٹ + سولیونٹ → سلوشن

Question No.18 : Which of the following is made up of alloy?

سوال نمبر 18: ذیل میں سے کون سی چیز بھرت سے بنی ہے؟



Question No.19 : Which one of the following is a source of non-renewable energy?

سوال نمبر 19: ان میں سے کون سا انرجی کا ناقابل تجدید ذریعہ ہے؟

(a) Wind

ہوا

(b) Water

پانی

(c) Light

روشنی

(d) Petrol

پٹرول

Question No.20 : At which point of the given pendulum potential energy is zero?

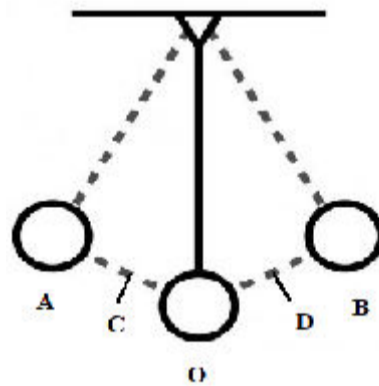
سوال نمبر 20: دیے گئے پینڈولم کے کس پوائنٹ پر پوٹینشل انرجی زیرو ہوگی؟

(a) O

(b) B

(c) A

(d) D



Question No.21 : What happened when a brick fell down from some height?

سوال نمبر 21: جب ایک اینٹ مخصوص بلندی سے گرتی ہے تو کیا ہوتا ہے؟

(a) Decreases potential energy as height decreases

پوٹینشل انرجی کم ہوتی ہے جیسے جیسے اونچائی کم ہوتی ہے

(b) Increases sound energy as height decreases

ساؤنڈ انرجی بڑھتی ہے جیسے جیسے اونچائی کم ہوتی ہے

(c) Decreases kinetic energy as height decreases

کائینٹک انرجی کم ہوتی ہے جیسے جیسے اونچائی کم ہوتی ہے

(d) Increases heat energy as height decreases

ہیٹ انرجی بڑھتی ہے جیسے جیسے اونچائی کم ہوتی ہے

Question No.22 :

Which simple machine is used to raise the flag to the top of the flagpole?

سوال نمبر 22: جھنڈے کو جھنڈے کے پول کے اوپری حصے تک اٹھانے کے لیے کون سی سادہ مشین کا استعمال ہوتا ہے؟

(a) Wheel and axle

وہیل اینڈ ایکسل

(b) Wedge

فانہ

(c) Pulley

پلی

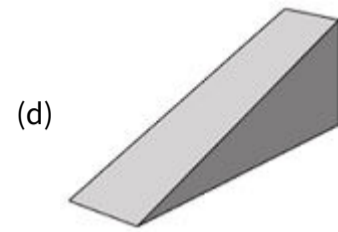
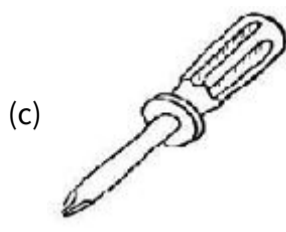

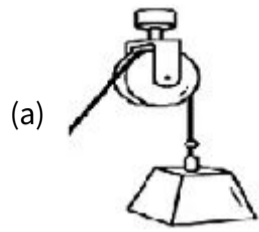
(d) Lever

لیور

Question No.23 :

Identify the example of wheel and axle from the following.

سوال نمبر 23: ذیل میں سے وہیل اور ایکسل کی مثال کی شناخت کریں۔



Question No.24 :

Which one of the following is used by crane to lift the heavy load?

سوال نمبر 24: مندرجہ ذیل میں سے کون سی چیز بھاری بوجھ اٹھانے کے لیے کرین میں استعمال ہوتی ہے؟

(a) Pulley

پلی

(b) Screw

سکریو

(c) Gear

گیر

(d) Lever

لیور

Question No.25 :

According to laws of reflection, the angle of incidence is _____ to/than the angle of reflection.

سوال نمبر 25: رفلیکشن کے قوانین کے مطابق اینگل آف انسیڈنٹس، اینگل آف رفلیکشن کے / سے _____ ہے۔

(a) greater

بڑا

(b) smaller

چھوٹا

(c) equal

برابر

(d) opposite

مخالف

Question No.26 :

In which mirror the size of object and image are equal?

سوال نمبر 26: کس مرر میں آجیکٹ اور امیج دونوں کے سائز برابر ہوتے ہیں؟

(a) Plane mirror

پلین مرر

(b) Concave mirror

کنکاو مرر

(c) Convex mirror

کنوکیکس مرر

(d) Back view mirror

بیک ویو مرر

Question No.27 :

According to the law of reflection the angle of incidence is equal to:

سوال نمبر 27: رفلیکشن کے قانون کے مطابق اینگل آف انسیڈنٹس _____ کے برابر ہے۔

(a) reflected ray

رفلیکٹڈ رے

(b) refracted ray

رفریکٹڈ رے

(c) point of incidence

پوائنٹ آف انسیڈنٹس

(d) angle of reflection

اینگل آف رفلیکشن

Question No.28 :

Which of the following mirrors is used on blind corners of roads and mountains?

سوال نمبر 28: مندرجہ ذیل میں سے کون سا مرر سڑکوں اور پہاڑوں کے کونوں پر استعمال ہوتا ہے جن کے پار نظر نہیں آتا؟

(a) Plane mirror

پلین مرر

(b) Curved mirror

کروی مرر

(c) Concave mirror

کنکاو مرر

(d) Convex mirror

کنوکیکس مرر

Question No.29 :

Which of the following instrument has the most sound energy?

سوال نمبر 29: درج ذیل میں سے کس آلہ کی ساؤنڈ انرجی سب سے زیادہ ہے؟

(a) Flute

بانسری

(b) Piano

پیانو

(c) Drum

ڈھول

(d) Guitar

گٹار

Question No.30 :

The tail of the comet is in which direction?

سوال نمبر 30: ایک کامٹ کی دم کس سمت میں ہوتی ہے؟

(a) Towards the Sun

سورج کی طرف

(b) Opposite to the Sun

سورج کی مخالف سمت میں

(c) Towards the Earth

زمین کی طرف

(d) Opposite to the Earth

زمین کی مخالف سمت میں

Question No.31 :

Ahmad is visiting Lahore first time. With the help of which technology he will find his way around a new city?

سوال نمبر 31: احمد پہلی مرتبہ لاہور جا رہا ہے۔ کس ٹیکنالوجی کی مدد سے وہ نئے شہر میں اپنا راستہ تلاش کرے گا؟

(a) Global Projecting System

گلوبل پروجیکٹنگ سسٹم

(b) Global Processing System

گلوبل پروسیسنگ سسٹم

(c) Global Polar System

گلوبل پولر سسٹم

(d) Global Positioning System

گلوبل پوزیشننگ سسٹم

Question No.32 :

A large ball of ice and dust revolving around the Sun is called:

سوال نمبر 32: سورج کے گرد گھومنے والی برف اور دھول کی ایک بڑی گیند کہلاتی ہے۔

(a) asteroid

ایسٹروئڈ

(b) satellite

سیٹلائٹ

(c) orbit

آرٹ

(d) comet

کامٹ

SCHOOL BASED ASSESSMENT 2023

MODEL PAPER

GRADE 6

SOCIAL STUDIES PART – B (Subjective Type)

[Paper A: 48 Marks, Paper B: 52 Marks, Total: 100 Marks]



School : _____
Tehsil : _____ District: _____

Student Name : _____ Section : _____

Roll Number : _____ Date : _____

General Instructions for students :

1. Read carefully and attempt all questions.

۱۔ غور سے پڑھیں اور تمام سوالات حل کریں۔

2. A question can consist of one or more parts.

۲۔ ایک سوال ایک یا ایک سے زیادہ حصوں پر مشتمل ہو سکتا ہے۔

3. Use black/blue ink for writing answers in separate answer sheet. Use of lead pencil is not allowed.

۳۔ جواب لکھنے کے لیے الگ سے جوابی کاپی میں کالی / نیلی روشنائی کا استعمال کریں۔ کچی پنسل کے استعمال کی اجازت نہیں ہے۔

Total Marks: 52

Part-B (Constructed Response Questions)

Total Time: 1 Hour 45 Minutes

Question No: 1

سوال نمبر 1

a) Write a note on Khawaja Muain-Ud- din(R.A) Chishti. (5 Marks)

(a) حضرت خواجہ معین الدین چشتی اجمیری رحمۃ اللہ علیہ کی شخصیت پر نوٹ لکھیں۔ (5 نمبر)

b) Write short notes on the system of government of Delhi Sultans.(5 Marks)

(b) سلطنت دہلی کا نظام حکومت مختصر بیان کریں۔ (5 نمبر)

Question No: 2

سوال نمبر 2

a) Describe the classification of rural settlements according to formation: (6 Marks)

(a) دیہی بستیوں کی بناوٹ کے لحاظ سے تقسیم بیان کریں: (6 نمبر)

b) What are rural settlements? discuss in detail:(6 Marks)

(b) دیہی بستیاں کیا ہوتی ہیں؟ تفصیل سے لکھیں: (6 نمبر)

Question No: 3

سوال نمبر 3

a) Describe five important features of the reign of Ghyas- U-Din Balban : (5 Marks)

(a) غیاث الدین بلبن کا دور حکومت پانچ اہم نکات بیان کریں: (5 نمبر)

b) Give a brief introduction of Tughlaq family: (5 Marks)

(b) خاندان تغلق کا مختصر تعارف بیان کریں: (5 نمبر)

Question No: 4

سوال نمبر 4

a) Write down the reasons of attack by Muslims on Sindh: (5 Marks)

(a) سندھ پر مسلمانوں کے حملے کی وجوہات لکھیں: (5 نمبر)

b) Discuss the problems of Razia Sultana's government: (5 Marks)

(b) رضیہ سلطانہ کی حکومت کے مسائل لکھیں: (5 نمبر)

Question No: 5

سوال نمبر 5

a) How the Aryans behave with women? Write in details: (Marks 05)

(a) آریا قوم عورتوں سے کیسا سلوک کرتی تھی؟ تفصیل سے لکھیں: (نمبر 05)

b) Discribe the economic system of Aryans: 5 Marks

(b) آریاؤں کا معاشی نظام بیان کریں: 5 نمبر

SCHOOL BASED ASSESSMENT 2023

MODEL PAPER

GRADE 6

SOCIAL STUDIES PART – A (Objective Type)

[Paper A: 48 Marks, Paper B: 52 Marks, Total: 100 Marks]



School : _____
Tehsil : _____ District: _____

Student Name : _____ Section : _____
Roll Number : _____ Date : _____

General Instructions for students :

طلبہ کے لیے عمومی ہدایات:

1) Use mask & keep at least 3 ft. distance from each other.

۱۔ ماسک پہنیں اور آپس میں کم از کم 3 فٹ کا فاصلہ رکھیں۔

2) Read carefully and attempt all questions.

۲۔ غور سے پڑھیں اور تمام سوالات حل کریں۔

3) Encircle the correct option of each of the Multiple Choice Questions (MCQs) as shown in the example given below.

۳۔ ہر کثیر الانتخابی سوال کے صحیح جواب پر دائرہ لگائیں جیسا کہ نیچے دی گئی مثال میں دکھایا گیا ہے۔

Example : Which country is located in the north of Pakistan?

مثال : پاکستان کے شمال میں کون سا ملک واقع ہے؟

a) India بھارت

b) Afghanistan افغانستان

c) China چین

d) Iran ایران

4) Use black/blue ink for writing. Use of lead pencil is not allowed.

۴۔ لکھنے کے لیے کالی/ نیلی روشنائی کا استعمال کریں۔ کچی پنسل کے استعمال کی اجازت نہیں ہے۔

5) If more than one options are encircled in a question, no mark will be given.

۵۔ اگر کسی سوال میں ایک سے زیادہ جوابات کے گرد دائرہ لگایا گیا تو کوئی نمبر نہیں دیا جائے گا۔

Total Marks: 48

Part-A (Multiple Choice Questions)

Total Time: 1 Hour

Instructions: Thirty two (32) Multiple Choice Questions (MCQs) are given in this part. Each question carries 1.5 marks.

ہدایات : اس پیپر میں تیس (32) کثیر الانتخابی سوالات دیے گئے ہیں۔ ہر سوال کے 1.5 نمبر ہیں۔

Question No.1 : The prominent feature of the continent Australia is that, it is the:

سوال نمبر 1: براعظم آسٹریلیا کی نمایاں خصوصیت ہے، کہ یہ سب سے:

(a) largest

بڑا ہے

(b) warmest

گرم ہے

(c) smallest

چھوٹا ہے

(d) coldest

ٹھنڈا ہے

Question No.2 : The types of scales for showing the distance on the map are:

سوال نمبر 2: نقشے پر فاصلے کی پیمائش کو ظاہر کرنے والے پیمانوں کی اقسام ہیں:

(a) Two

دو

(b) three

تین

(c) five

پانچ

(d) seven

سات

Question No.3 : The ocean located in the east of Australia is:

سوال نمبر 3: براعظم آسٹریلیا کے مشرق میں واقع بحر ہے:

(a) Pacific Ocean

بحرالکابل

(b) Atlantic Ocean

بحر اوقیانوس

(c) Indian Ocean

بحر ہند

(d) Arctic Ocean

بحر شمالی

Question No.4 : The reason for calculating the international time difference from Greenwich is that:

سوال نمبر 4: بین الاقوامی وقت کا فرق گرینچ کے وقت سے لینے کی وجہ ہے:

(a) prime meridian passes through it

خط نصف النہار کا گزرنا

(b) it is highly developed area

انتہائی ترقی یافتہ علاقہ

(c) it is center of the world

دنیا کے وسط میں ہونا

(d) it is near to equator

خط استوا کے قریب ہونا

Question No.5 : A collection of maps in the form of a book is called:

سوال نمبر 5: کتابی شکل میں نقشوں کے مجموعہ کو کہتے ہیں:

(a) Outline

خاکہ

(b) Circle

دائرہ

(c) Impression

نقش

(d) Atlas

اٹلس

Question No.6 : It is helpful to find the time difference between the two countries:

سوال نمبر 6: دو ممالک کے درمیان وقت کا فرق معلوم کرنے میں مددگار ہے:

(a) longitude

طول بلد

(b) Latitude

عرض بلد

(c) direction

سمت

(d) Map

نقشہ

Question No.7 : The most popular tourist places are in:

سوال نمبر 7: سب سے زیادہ مقبول سیاحتی مقامات ہیں:

(a) plain areas

سرسبز میدانوں میں

(b) coastal areas

ساحلی علاقوں میں

(c) mountain areas

پہاڑی علاقوں میں

(d) desert areas

صحرائی علاقوں میں

Question No.8 : The rocks that contain fossils of animals and plants, are called:

سوال نمبر 8: ایسی چٹانیں جن میں پودوں اور جانوروں کی باقیات موجود ہوتی ہیں، انہیں کہا جاتا ہے:

(a) chemically formed

کیمیائی چٹانیں

(b) organic formed

نامیاتی چٹانیں

(c) mechanically formed

میکانکی چٹانیں

(d) inorganic formed

غیر نامیاتی چٹانیں

Question No.9 : The types of rocks by structure are:

سوال نمبر 9: بناوٹ کے لحاظ سے چٹانوں کی اقسام ہیں:

(a) 5

پانچ

(b) 3

تین

(c) 2

دو

(d) 4

چار

Question No.10 : The plains made of soil deposited by rivers are called:

سوال نمبر 10: دریاؤں کی لائی ہوئی مٹی سے بننے والے میدان کہلاتے ہیں:

(a) demolition plains

انہدامی میدان

(b) flood plain

سیلابی میدان

(c) delivery plains

تحویلی میدان

(d) desert plains

ریگستانی میدان

Question No.11 : In ancient times snow by rubbing changed many areas into:

سوال نمبر 11: برف نے زمانہ قدیم میں کئی علاقوں کو رگڑ کر تبدیل کر دیا:

(a) Karst Plain

کارسٹ میدان

(b) Glacial Plain

گلشیاٹی میدان

(c) Coastal Plain

ساحلی میدان

(d) Flood Plain

سیلابی میدان

Question No.12 : The reason of slowing down of the river Indus in Deltai Indus plain is:

سوال نمبر 12: دریائے سندھ کے ڈیلٹائی میدان میں دریا کی سست رفتاری کی وجہ ہے:

(a) presence of forests

جنگلات کی موجودگی

(b) decrease in slope

ڈھلان کا کم ہونا

(c) presence of rocks

پتھروں کی موجودگی

(d) increase in slope

ڈھلان کا زیادہ ہونا

Question No.13 : The Silk highway connects Pakistan with a friendly country:

سوال نمبر 13: شاہراہِ ریشم پاکستان کو دوست ملک سے ملاتی ہے:

- | | | | |
|-----------|-------|-----------------|-----------|
| (a) India | بھارت | (b) Iran | ایران |
| (c) China | چین | (d) Afghanistan | افغانستان |

Question No.14 : The ratio of population in developed countries is:

سوال نمبر 14: ترقی یافتہ ممالک میں آبادی کی شرح ہے:

- | | | | |
|-----------|-------|---------------|-----------|
| (a) low | کم | (b) higher | زیادہ |
| (c) equal | برابر | (d) very high | بہت زیادہ |

Question No.15 : Un-inhabited continent of the world is:

سوال نمبر 15: دنیا کا غیر آباد براعظم ہے:

- | | | | |
|---------------|----------|----------------|------------|
| (a) Africa | افریقہ | (b) Asia | ایشیا |
| (c) Australia | آسٹریلیا | (d) Antarctica | انٹارکٹیکا |

Question No.16 : The greatest reason behind migration of millions of people from their areas in 2010, was:

سوال نمبر 16: 2010ء میں لاکھوں لوگوں کی اپنے علاقوں سے ہجرت کرنے کی سب سے بڑی اور اہم وجہ تھی:

- | | | | |
|--------------------------------|-----------------------|----------------------------------|----------------------|
| (a) earthquakes | زلزلوں کا آنا | (b) the devastation of the flood | سیلاب کی تباہ کاریاں |
| (c) lack of business resources | کاروباری وسائل کی کمی | (d) unemployment | نوکریوں کی قلت |

Question No.17 : The burning of fuels and absorption of heat by concrete buildings result in:

سوال نمبر 17: ایندھن کے جلنے اور کنکریٹ کی عمارتوں میں حرارت کے جذب ہونے سے واقع ہوتی ہے:

- | | | | |
|-------------------------------|----------------------------|------------------------------|------------------------------|
| (a) increase in temperature | درجہ حرارت میں کمی ہوتا ہے | (b) decrease in temperature | درجہ حرارت میں اضافہ ہوتا ہے |
| (c) moderation of temperature | درجہ حرارت تبدیل نہیں ہوتا | (d) no change in temperature | درجہ حرارت معتدل رہتا ہے |

Question No.18 : Population, size, administration and location are the basic characteristics of:

سوال نمبر 18: آبادی، سائز، انتظامیہ اور مقام، بنیادی خصوصیات ہیں:

- | | | | |
|-------------|---------|------------|--------------|
| (a) village | گاؤں کی | (b) city | شہر کی |
| (c) town | قصبہ کی | (d) hamlet | ذیلی گاؤں کی |

Question No.19 : A very important issue to understand Indus Valley is:

سوال نمبر 19: وادی سندھ کی تہذیب کو سمجھنے میں انتہائی اہم مسئلہ ہے:

- | | | | |
|------------------------------------|----------------------|--|--|
| (a) complicated script | پچیدہ رسم الخط | (b) similarities with other civilizations | تہذیب کے آثار کی دوسری تہذیبوں سے مماثلت |
| (c) lack of traces of civilization | تہذیب کے آثار کی کمی | (d) plenty of Civilization stamps and Toys | تہذیب کی بے شمار مہریں اور کھلونے |

Question No.20 : Indus valley civilization was destroyed by the:

سوال نمبر 20: وادی سندھ کی تہذیب کو تباہ کیا:

- | | | | |
|-----------------------------------|-----------------------------|----------------------|-----------------|
| (a) Internal factors | اندرونی عوامل نے | (b) external factors | بیرونی عوامل نے |
| (c) external and internal factors | اندرونی اور بیرونی عوامل نے | (d) natural factors | قدرتی عوامل نے |

Question No.21 : The quality of indus valley land was:

سوال نمبر 21: وادی سندھ کی زمین کی خوبی تھی:

- | | | | |
|------------------|-------------|-----------|---------|
| (a) Uncultivable | ناقابل کاشت | (b) Sandy | رتیلی |
| (c) Fertile | زرخیز | (d) Rocky | پتھریلی |

Question No.22 : Gautum Budh taught Hindu Society the lesson of:

سوال نمبر 22: گوتم بدھ نے ہندو معاشرے کو درس دیا:

- | | | | |
|---------------------------|----------------|--------------------------|--------------------------|
| (a) cast and creed system | ذات پات کا | (b) equality | مساوات کا |
| (c) conflicts | لڑائی جھگڑے کا | (d) monopoly of Brahmans | برہمنوں کی اجارہ داری کا |

Question No.23 : Ashnaan removes sins in:

سوال نمبر 23: اشنان سے گناہ ختم ہو جاتے ہیں:

- | | | | |
|-------------|------------|--------------|-------------|
| (a) Jainism | جین مت میں | (b) Buddhism | بدھ مت میں |
| (c) Sikhism | سکھ مت میں | (d) Hinduism | ہندو مت میں |

Question No.24 : Hindu society was divided into castes after the arrival of Aryans:

سوال نمبر 24: ہندو معاشرہ آریاؤں کی آمد کے بعد ذاتوں میں تقسیم ہو گیا تھا:

- | | | | |
|----------|-----|----------|------|
| (a) two | دو | (b) nine | نو |
| (c) four | چار | (d) five | پانچ |

Question No.25 : "I am the breaker of idols not the seller of idols" these were the words of:

سوال نمبر 25: "میں بت شکن ہوں بت فروش نہیں" یہ الفاظ تھے:

- | | | | |
|-----------------------------|----------------------|------------------------|-----------------|
| (a) Sultan Mahmood Ghaznavi | سلطان محمود غزنوی کے | (b) Muhammad Bin Qasim | محمد بن قاسم کے |
| (c) Abu Rehman | ابو رحمان کے | (d) Raja Dahir | راجا داہر کے |

Question No.26 : The father of Razia Sultana was:

سوال نمبر 26: رضیہ سلطانہ کے والد تھے:

- | | | | |
|--------------------------|------------------|------------------------|----------------|
| (a) Nasir ud-din Mahmood | ناصر الدین محمود | (b) Qutab ud-Din Aibak | قطب الدین ایبک |
| (c) Sultan Altatmash | سلطان التتمش | (d) Sultan Balban | سلطان بلبن |

Question No.27 : The loose and compromising policy of Feroze Shah Tughluq became the cause of:

سوال نمبر 27: فیروز شاہ تغلق کی نرم اور صلح جو پالیسی سبب بنی:

- | | | | |
|-----------------------------------|-------------------------|-----------------------------------|-------------------------|
| (a) the fall of the Delhi Empire | سلطنت دہلی کے زوال کا | (b) the rise of the Delhi Empire | سلطنت دہلی کے عروج کا |
| (c) the fall of the slave kingdom | سلطنت غلاماں کے زوال کا | (d) the rise of the slave kingdom | سلطنت غلاماں کے عروج کا |

Question No.28 : The successors of the Lodhi family had a great interest in:

سوال نمبر 28: لودھی خاندان کے جانشینوں کی بہت زیادہ دلچسپی تھی:

- | | | | |
|------------------|---------------|---------------------|--------------|
| (a) art of music | فنِ موسیقی سے | (b) art of war | فنِ حرب سے |
| (c) architecture | فنِ تعمیر سے | (d) art of painting | فنِ مصوری سے |

Question No.29 : The base of Islamic architecture in Subcontinent was laid by constructing:

سوال نمبر 29: برصغیر میں اسلامی فنِ تعمیر کی بنیاد رکھی گئی:

- | | | | |
|------------------------|-------------------|-------------------------|---------------------|
| (a) Jamia Masjid Dehli | جامع مسجد دہلی سے | (b) Masjid Wazeer Khan | مسجد وزیر خان سے |
| (c) Badshahi Masjid | بادشاہی مسجد سے | (d) Masjid Quwatulislam | مسجد قوت الاسلام سے |

Question No.30 : The real name of Hadrat Data Ganj Bakhsh was:

سوال نمبر 30: حضرت داتا گنج بخش کا اصلی نام تھا:

- | | | | |
|----------------------|----------------|------------------------|------------------|
| (a) Syed Ghiassuddin | سید غیاث الدین | (b) Syed Ali Bin Usman | سید علی بن عثمان |
| (c) Syed Muhammad | سید محمد | (d) Kamaluddin Shah | کمال الدین شاہ |

Question No.31 : The popular series of saints found in Subcontinent are:

سوال نمبر 31: برصغیر میں پائے جانے والے صوفیائے کرام کے مقبول سلسلے ہیں:

- | | | | |
|-------|-----|-------|------|
| (a) 4 | چار | (b) 3 | تین |
| (c) 6 | چھ | (d) 5 | پانچ |

Question No.32 :

The most famous book describing Sufism is:

سوال نمبر 32: تصوف سے متعلق مشہور کتاب ہے:

(a) Heer Ranjha

ہیر رانجھا

(b) Guru Granth

گرو گرنٹھ

(c) Seerat un Nabi ﷺ

سیرت النبی صلی اللہ علیہ وآلہ
وسلم

(d) Kashiful Majub

کشف المحجوب

SCHOOL BASED ASSESSMENT 2023

MODEL PAPER

GRADE 6

TEACHING OF QURAN MAJEED PART – B (Subjective Type)

[Part A:15 Marks Part B: 35 Marks Total: 50 Marks]



School : _____
Tehsil : _____ District: _____

Student Name : _____ Section : _____

Roll Number : _____ Date : _____

General Instructions for students :

1. Use separate answer sheet for writing answers and give your personal information on it as well.

جو بات لکھنے کے لیے علیحدہ سے جوابی کاپی کا استعمال کریں اور اس کے اوپر بھی اپنے بارے میں معلومات دیں۔

2. Read carefully and attempt all questions

غور سے پڑھیں اور تمام سوالات حل کریں۔

3. A question can consist of one or more parts

ایک سوال ایک یا ایک سے زیادہ حصوں پر مشتمل ہو سکتا ہے۔

4. Use black/blue ink for writing answers. Use of lead pencil is not allowed.

لکھنے کے لیے کالی / نیلی روشنائی کا استعمال کریں۔ کچی پنسل کے استعمال کی اجازت نہیں ہے۔

Total Marks: 35

Part-B (Constructed Response Questions)

Total Time: 1 Hour 30 Minutes

Instructions in English

ہدایات اردو میں: مختصر سوالات میں سے پانچ سوالات کے جوابات مطلوب ہیں ہر سوال کے 2 نمبر دیئے جائیں، آیات کے تراجم میں سے کسی تین آیات کے تراجم لکھیں ہر سوال کے 5 نمبر دیئے جائیں جب کہ آخر میں دیئے گئے 10 نمبر کے سوالات میں سے ایک سوال کا جواب دیا جائے۔

سوال نمبر 1: : سورة فاتحه میں اللہ تعالیٰ نے اپنی حمد کن الفاظ میں بیان فرمائی ہے؟ (2)

سوال نمبر 2: : سورة اللہب کہاں نازل ہوئی اور اسکی کل کتنی آیات ہیں؟ (2)

سوال نمبر 3: : سورة القدریش کا مرکزی مضمون کیا ہے؟ (2)

سوال نمبر 4: : سکی اور مدنی سورتوں سے کیا مراد ہے؟ (2)

سوال نمبر 5: : سورة الكوثر میں ”کوثر“ سے کیا مراد ہے؟ (2)

سوال نمبر 6: : سورة اللہب میں اللہ تعالیٰ نے ابو لہب کو کیا خطاب فرمایا؟ (2)

سوال نمبر 7: : سورة الفاتحه کی کس آیت میں اللہ کی عبادت اور اس سے مدد کا ذکر ہے؟ (2)

سوال نمبر 8: : سورة فاتحه کا دوسرا نام اور اسکی آیات کی تعداد بتائیں۔ (2)

سوال نمبر 9: : درج ذیل آیات کا باحاورہ ترجمہ لکھیں: (5) مِنْ شَرِّ مَا خَلَقَ ○ وَمِنْ شَرِّ غَاسِقٍ إِذَا وَقَبَ ○ وَمِنْ شَرِّ النَّفَّاثَاتِ فِي الْعُقَدِ ○

سوال نمبر 10: : درج ذیل آیات کا باحاورہ ترجمہ کریں: وَلَا أَنْتُمْ عَابِدُونَ مَا أَعْبُدُ ○ وَلَا أَنَا عَابِدٌ مَّا عَبَدْتُمْ ○ وَلَا أَنْتُمْ عَابِدُونَ مَا أَعْبُدُ ○

سوال نمبر 11: : درج ذیل آیات کا باحاورہ ترجمہ کیجئے: (5) قُلْ أَعُوذُ بِرَبِّ الْفَلَقِ ○ مِنْ شَرِّ مَا خَلَقَ ○ وَمِنْ شَرِّ غَاسِقٍ إِذَا وَقَبَ ○

سوال نمبر 12: : درج ذیل آیات کا باحاورہ ترجمہ کیجئے: (5) إِهْدِنَا الصِّرَاطَ الْمُسْتَقِيمَ ○ صِرَاطَ الَّذِينَ أَنْعَمْتَ عَلَيْهِمْ غَيْرِ الْمَغْضُوبِ عَلَيْهِمْ وَلَا الضَّالِّينَ ○

سوال نمبر 13: : درج ذیل آیات کا باحاورہ ترجمہ کیجئے: (5) لَلْكَافِرِينَ ○ إِيَّاكَ نَعْبُدُ ○ وَإِيَّاكَ نَسْتَعِينُ ○ إِهْدِنَا الصِّرَاطَ الْمُسْتَقِيمَ ○

سوال نمبر 14: : قرآن مجید کی آیات کی روشنی میں حضرت لوط علیہ السلام کی شخصیت کا جائزہ لیں (10)

سوال نمبر 15: : قرآن مجید کی آیات کی روشنی میں حضرت صالح علیہ السلام کی شخصیت کا جائزہ لیں۔ (10)

SCHOOL BASED ASSESSMENT 2023

MODEL PAPER

GRADE 6

TEACHING OF QURAN MAJEED PART – A (Objective Type)

[Part A:15 Marks Part B: 35 Marks Total: 50 Marks]



School : _____

Tehsil : _____

District: _____

Student Name : _____

Section : _____

Roll Number : _____

Date : _____

General Instructions for students :

طلباء کے لیے عمومی ہدایات:

1) Use mask & keep at least 3 ft. distance from each other.

۱۔ ماسک پہنیں اور آپس میں کم از کم 3 فٹ کا فاصلہ رکھیں۔

2) Read carefully and attempt all questions.

۲۔ غور سے پڑھیں اور تمام سوالات حل کریں۔

3) Encircle the correct option of each of the Multiple Choice Questions (MCQs) as shown in the example given below.

۳۔ ہر کثیر الانتخابی سوال کے صحیح جواب پر دائرہ لگائیں جیسا کہ نیچے دی گئی مثال میں دکھایا گیا ہے۔

مثال : مسلمانوں پر روزانہ کتنی نمازیں فرض ہیں؟

Example : How many Salah are obligatory for Muslims in a day?

Four

(b) چار

Three

(a) تین

Six

(d) چھ

Five

(c) پانچ

4) If more than one options are encircled in a question, no mark will be given.

۴۔ اگر کسی سوال میں ایک سے زیادہ جوابات کے گرد دائرہ لگایا گیا تو کوئی نمبر نہیں دیا جائے گا۔

Total Marks: 15

Part-A (Multiple Choice Questions)

Total Time: 30 minutes

Instructions: Fifteen (15) Multiple Choice Questions (MCQs) are given in this part. Each question carries one mark.

ہدایات: اس حصہ میں 15 کثیر الانتخابی سوالات دیے گئے ہیں۔ ہر سوال کا ایک نمبر ہے۔

سوال نمبر 1: عَلَيهِمْ كَالْفِظَىٰ مَعْنَىٰ هُوَ:

(d) ہم پر

(c) سب پر

(b) اُن پر

(a) تم پر

سوال نمبر 2: مَغْضُوبٌ وَهُوَ لَوْ كَانُوا مِنْ جَنِّ بَدِئًا:

(d) عذاب ہوا

(c) انعام ہوا

(b) کرم ہوا

(a) فضل ہوا

سوال نمبر 3: اِنَّا كَلَّمْنَاكَ بِاللُّغَةِ مَعْنَىٰ هُوَ:

(d) صرف تیرے لئے

(c) صرف تیرے ساتھ

(b) صرف تجھی سے

(a) صرف تیری ہی

سوال نمبر 4: سُورَةُ الْاٰلِیُّمِ فِي الْاٰیَاتِ كِي تَعْدَادُ هُوَ:

(d) چھ

(c) پانچ

(b) چار

(a) تین

سوال نمبر 5: اَلْفَلَقُ كَالْفِظَىٰ مَعْنَىٰ هُوَ:

(d) صبح

(c) شام

(b) رات

(a) دوپہر

سوال نمبر 6: ایلّیٰ کا لفظی معنی ہے:

(a) تیرے ساتھ (b) تیرے لئے (c) میرے لئے (d) میرے ساتھ

سوال نمبر 7: کُفُوًا کا لفظی معنی ہے:

(a) دوست (b) ہمدرد (c) برابر (d) بڑا

سوال نمبر 8: صُدُوْر کا لفظی معنی ہے:

(a) منہ (b) سینہ (c) دل (d) سینے

سوال نمبر 9: اللہ تعالیٰ نے آدم علیہ السلام کے لئے سب سے بہترین لباس قرار دیا:

(a) ریشم کا (b) سونے کا (c) تقویٰ کا (d) سادگی کا

سوال نمبر 10: اللہ تعالیٰ کا پیغام پہنچانے پر قوم کے سرداروں نے نوح علیہ السلام کو کہا:

(a) بے شک تم سچے ہو (b) بے شک ہم تمہیں کھلی گمراہی میں دیکھتے ہیں

(c) بے شک ہم ہی سیدھے راستے پر ہیں (d) تمہارا رب ہمیں عذاب نہیں دے گا

سوال نمبر 11: حضرت ہود علیہ السلام کو قوم کی طرف مبعوث فرمایا گیا:

(a) قوم ثمود (b) قوم یہود (c) قوم عاد (d) قوم ہنود

سوال نمبر 12: حضرت ہود علیہ السلام نے اپنی خدمات کا صلہ چاہا:

(a) اپنی قوم کے سرداروں سے (b) وحی لانے والے فرشتے سے (c) اہل ایمان سے (d) اپنے اللہ سے

سوال نمبر 13: حضرت لوط علیہ السلام کی قوم اس گناہ کی مرتکب ہوتی تھی:

(a) غریبوں کا مال کھانا (b) مردوں سے بد فعلی (c) کم تولنا اور جھوٹ بولنا (d) ملاوٹ اور چور بازاری

سوال نمبر 14: ملائکہ نے حضرت لوط علیہ السلام کو کہا:

(a) آپ اپنی قوم کے لئے بدعا کریں (b) اپنے گھر والوں کو لے کر راتوں رات چلے جائیں

(c) اپنی قوم کے ساتھ جنگ کریں (d) اپنی قوم کو ہمارے حوالے کر دیں

سوال نمبر 15: حضرت شعیب علیہ السلام نے اپنی قوم سے فرمایا، اللہ سے ڈرو اور:

(a) میری اطاعت کرو (b) اللہ کی اطاعت کرو (c) اپنے بزرگوں کی اطاعت کرو (d) اپنے بادشاہ کی اطاعت کرو

SCHOOL BASED ASSESSMENT 2023

MODEL PAPER

GRADE 6

URDU PART – B (Subjective Type)

[Part A: 48 Marks Part B: 52 Marks Total: 100 Marks]



School : _____
Tehsil : _____ District: _____

Student Name: _____ Section: _____
Roll Number: _____ Date: _____

طلبا کے لیے عمومی ہدایات:

- 1۔ جواب لکھنے کے لیے علیحدہ سے جوابی کاپی کا استعمال کریں اور اس کے اوپر بھی اپنے بارے میں معلومات دیں۔
- 2۔ غور سے پڑھیں اور تمام سوالات حل کریں۔
- 3۔ ایک سوال ایک یا ایک سے زیادہ حصوں پر مشتمل ہو سکتا ہے۔
- 4۔ جواب لکھنے کے لیے کالی/ نیلی روشنائی کا استعمال کریں۔ کچی پنسل کے استعمال کی اجازت نہیں ہے۔

کل نمبر: 52	حصہ ب (انشائیہ سوالات)	وقت: 1 گھنٹہ 45 منٹ
-------------	------------------------	---------------------

سوال نمبر 1: ہیڈ ماسٹر صاحب / ہیڈ مسٹریس صاحبہ کے نام تحصیل کی سطح پر ہونے والے تقریری مقابلہ جات میں شمولیت کے لیے درخواست لکھیں۔ (کل نمبر 10)

سوال نمبر 2: "جیسا کرو گے ویسا بھر گے" کے عنوان پر کہانی لکھیں۔ (کل نمبر 10)

سوال نمبر 3: درج ذیل اشعار کی تشریح کریں: (کل نمبر 10)

وہ نبیوں میں رحمت لقب پانے والا
مرادیں غریبوں کی برلانے والا

مصیبت میں غیروں کے کام آنے والا
وہ اپنے پرانے کا غم کھانے والا

سوال نمبر 4: آپ کے بھائی نے آپ کو تحفے میں ایک خوبصورت گھڑی دی ہے۔ تحفے کا شکریہ ادا کرنے کے لیے بھائی کو خط لکھیں۔ (کل نمبر 10)

سوال نمبر 5: دی گئی عبارت کو غور سے پڑھیں اور سوالات کے جوابات لکھیں۔ (کل نمبر 12)

آلودگی پوری دنیا کا بہت بڑا مسئلہ ہے۔ یہ مسئلہ روز بروز خطرناک صورت حال اختیار کر رہا ہے، جس کی وجہ سے انسان کو سنگین خطرات کا سامنا ہے۔ صنعتی ترقی نے ہمارے لیے نئے مسائل کا اضافہ کیا ہے۔ ان مسائل میں سے ایک اہم اور بنیادی مسئلہ آلودگی کا ہے۔ آلودگی ہمارے معاشرے کو خاموشی سے دیمک کی طرح چاٹ رہی ہے۔ یہ زمین، پانی اور ہوا کو ضرر رساں بنا رہی ہے جس کی وجہ سے نئی نئی بیماریاں انسانی زندگی کو اپنے گھیرے میں لے رہی ہیں۔

سوال (i): اس عبارت کا موزوں عنوان لکھیں۔ (2)

سوال (ii): دیمک کی طرح چائنا سے کیا مراد ہے۔ ایک مثال بھی دیں۔ (3)

سوال (iii): ضرر رساں کا معنی لکھیں۔ اور جملہ میں استعمال کریں۔ (3)

سوال (iv): کون سا مسئلہ خطرناک صورت حال اختیار کر رہا ہے؟ (4)

SCHOOL BASED ASSESSMENT 2023

MODEL PAPER

GRADE 6

URDU PART – A (Objective Type)

[Part A: 48 Marks Part B: 52 Marks Total: 100 Marks]



School : _____

Tehsil : _____

District: _____

Student Name : _____

Section : _____

Roll Number : _____

Date : _____

طلبہ کے لیے عمومی ہدایات:

۱۔ ماسک پہنیں اور آپس میں کم از کم 3 فٹ کا فاصلہ رکھیں۔

۲۔ غور سے پڑھیں اور تمام سوالات حل کریں۔

۳۔ ہر کثیر الانتخابی سوال کے صحیح جواب پر دائرہ لگائیں جیسا کہ نیچے دی گئی مثال میں دکھایا گیا ہے۔

مثال : چیچڑ کی وجہ سے پھیلنے والی بیماری ہے:

(a) پولیو

(b) خسرہ

(c) ڈینگی

(d) کانگو

۴۔ اگر کسی سوال میں ایک سے زیادہ جوابات کے گرد دائرہ لگایا گیا تو کوئی نمبر نہیں دیا جائے گا۔

کل نمبر: 48

(حصہ الف) کثیر الانتخابی سوالات

وقت: 1 گھنٹہ

ہدایات: اس پیپر میں تیس کثیر الانتخابی سوالات دیے گئے ہیں۔ ہر سوال کے 1.5 نمبر ہیں۔

سوال نمبر 1: درست املا والا جملہ ہے:

(a) شیر کو دیکھتے ہی اُس کے حلق میں پانی اٹک گیا۔

(b) شیر کو دیکھتے ہی اُس کے ہلق میں پانی اٹک گیا۔

(c) شیر کو دیکھتے ہی اُس کے ہلک میں پانی اٹک گیا۔

(d) شیر کو دیکھتے ہی اُس کے ہلق میں پانی اٹک گیا۔

سوال نمبر 2: قصور کا متشابہ لفظ ہے:

(a) قصر

(b) قیصر

(c) کسور

(d) قصار

سوال نمبر 3: درج ذیل میں سے درست مرکب جملہ ہے:

(a) وہ گھر چلا گیا کیونکہ اسے بخار تھا۔

(b) وہ بخار میں گھر چلا گیا۔

(c) وہ گھر میں بخار سے ہے۔

(d) اسے گھر میں شدید بخار تھا۔

سوال نمبر 4: درج ذیل میں مرکب جملہ ہے:

(a) وہ یہاں نہیں آیا۔

(b) وہ یہاں آیا اور چلا گیا۔

(c) وہ یہاں آ کر چلا گیا۔

(d) وہ کل یہاں سے گیا۔

سوال نمبر 5: داد دینا کا مترادف ہے:

(a) شاباش دینا

(b) چندہ دینا

(c) رخصت دینا

(d) دھکا دینا

سوال نمبر 6: مرکب جملہ ہے:

(a) جمیل نے بازار میں ہوٹل سے چائے پی۔

(b) میں نے گھر میں چائے بنا کر پی۔

(c) کیا تم مہمانوں کے لیے چائے بنا رہے ہو؟

(d) منزہ نے چائے بنائی اور مہمانوں کو پلائی۔

سوال نمبر 7: درج ذیل میں مرکب جملہ ہے :

(a) میں یہی کہوں گا کہ تم چپ رہو۔

(b) اس نے کسی کی بات نہیں سنی۔

(c) آپ اتنا کیوں بول رہے ہو؟

(d) اس نے میری بات نہ سنی۔

سوال نمبر 8: مترادف الفاظ کے استعمال والا جملہ ہے :

(a) اللہ تعالیٰ کو غرور و تکبر پسند نہیں۔

(b) حاکم و محکوم کو اللہ تعالیٰ نے پیدا کیا ہے۔

(c) قانون کی نظر میں امیر و غریب برابر ہیں۔

(d) تیمور نے ہر دُکھ سُکھ میں نوید کا ساتھ دیا۔

سوال نمبر 9: مترادف الفاظ کی درست فہرست ہے:

(a) بزم، محفل، انجمن

(b) وسیلہ، ذریعہ، نجات

(c) سخی، امیر، ضعیف

(d) آشنا، واقف، ماہتاب

سوال نمبر 10: ”وہ دوست ہے لیکن مشکل میں ساتھ نہیں دیتا“ سے بننے والا درست سادہ جملہ ہے:

(a) وہ دوست ہے اور اس کے باوجود مشکل میں ساتھ نہیں دیتا۔

(b) اگرچہ وہ دوست ہے پر مشکل میں ساتھ نہیں دیتا۔

(c) وہ دوست ہو کر بھی مشکل میں ساتھ نہیں دیتا۔

(d) وہ دوست بھی ہے لیکن مشکل میں ساتھ بھی نہیں دیتا۔

سوال نمبر 11: درج ذیل جملوں میں سادہ جملہ ہے:

(a) وہ نہایا اور سو گیا۔

(b) اسے تمام باتیں یاد ہیں۔

(c) عبادت کرو، تاکہ فلاح پاؤ۔

(d) اس نے محنت کی مگر کامیاب نہ ہوا۔

سوال نمبر 12: ”دھول“ کا معنی ہے تھپڑ جب کہ ”دُھول“ کا معنی ہے:

(a) غبار

(b) ڈھول

(c) آواز

(d) شور

سوال نمبر 13: حروفِ تاسف کے استعمال والا جملہ ہے:

(a) افسوس! تم نے بھی ساتھ نہ دیا۔

(b) مرحبا! بڑا نیک کام کیا ہے۔

(c) آہا! ہم جیت گئے۔

(d) اجی! دروازہ تو کھولو۔

سوال نمبر 14: فجائیہ کے درست استعمال والا جملہ ہے:

(a) کیا وہ عید کا چاند ہے؟

(b) ہو ہو! وہ دیکھو عید کا چاند۔

(c) اف! وہ دیکھو عید کا چاند۔

(d) آہا! وہ دیکھو عید کا چاند۔

سوال نمبر 15: حرفِ استفہامیہ کے درست استعمال والا جملہ ہے:

(a) واہ واہ! اس نے خط نہیں لکھا۔

(b) تف! اس نے خط نہیں لکھا۔

(c) کیا اس نے خط نہیں لکھا؟

(d) اس نے خط نہیں لکھا۔

سوال نمبر 16: حروفِ فجائیہ کے درست استعمال والا جملہ ہے:

(a) ماشاء اللہ! کتنا پیارا بچہ ہے۔

(b) افسوس! اکرم چھت سے گر پڑا۔

(c) اے اللہ! ہم پر رحم فرما۔

(d) سنو! آپ وہاں نہیں جائیں گے۔

سوال نمبر 17: قواعد کی رو سے درست جملہ ہے:

(a) نور نے جمائی لی۔

(b) نور نے جمائی لیا۔

(c) نور نے جمائی کھائی۔

(d) نور نے جمائی کھایا۔

سوال نمبر 18: متلازم الفاظ کی درست فہرست ہے:

(a) تیز دھوپ، سایہ، پیاس

(b) سبزیاں، کپڑے، مبارک باد

(c) ہاکی، کرکٹ، گندم

(d) کرسی، سادہ خوراک، کھیت

سوال نمبر 19: " بازار " کے متلازم الفاظ کی درست فہرست ہے :

(a) درخت، پتھر، جنگل

(b) دکانیں، گاہک، سودا

(c) میز، کرسی، پودے

(d) کتابیں، کاپیاں، پہاڑ

سوال نمبر 20: "برسات" کے متلازم الفاظ کی درست فہرست ہے:

- (a) سردی، بادل، بارش، جس (b) گرمی، سردی، کھیل، میدان (c) میدان، بادل، بارش، علاقہ (d) قوس و قزح، فصلیں، دھوپ، کھیت

سوال نمبر 21: بلحاظ تذکیر و تانیث درست جملہ ہے:

- (a) اس کی مرض بڑھ گئی۔ (b) اس کا مرض بڑھ گیا۔ (c) اس کے مرض بڑھ گیا۔ (d) اس کی مرض بڑھ گئے۔

سوال نمبر 22: "علی چھری سے سیب کا ٹٹا ہے۔" جملے میں اسم آلہ ہے:

- (a) سیب (b) علی (c) کا ٹٹا (d) چھری

سوال نمبر 23: "سر سید احمد خان پاکستان کے قومی ہیرو ہیں۔ اس جملے میں لفظ "سر" ہے:

- (a) عرف (b) کنیت (c) خطاب (d) تخلص

سوال نمبر 24: "دروازے پر کون ہے؟" میں لفظ "کون" اسم نکرہ کی کون سی قسم ہے؟

- (a) اسم ذات (b) اسم صفت (c) اسم استفہام (d) اسم عدد

سوال نمبر 25: "پچاس روپے کی چینی دیں۔" اس جملہ میں لفظ "پچاس" اسم نکرہ کے اعتبار سے کون سا اسم ہے؟

- (a) اسم ذات (b) اسم صفت (c) اسم عدد (d) اسم جنس

سوال نمبر 26: "احمد ایک ذہین لڑکا ہے۔ اس کا بھائی ڈاکٹر ہے۔" قواعد کی رو سے اس جملے میں "اس" ہے:

- (a) اسم علم (b) اسم اشارہ (c) اسم ضمیر (d) اسم موصول

سوال نمبر 27: "گھوڑا بہت قیمتی ہے۔" میں لفظ "گھوڑا" اسم نکرہ کے اعتبار سے ہے:

- (a) اسم ذات (b) اسم صفت (c) اسم استفہام (d) اسم عدد

پیرا گراف ہدایات *

مندرجہ ذیل پیرا گراف پڑھ کر نیچے دیے گئے سوالات کے جوابات دیجیے۔

ابتدائی طبی امداد کے لیے حکومت نے شہری دفاع کا محکمہ قائم کر رکھا ہے۔ یہ ادارہ کسی بھی حادثے کی صورت میں زخمیوں کو ابتدائی طبی امداد فراہم کرتا ہے۔ ہر صحت مند شخص کو رضاکارانہ طور پر اس کی تربیت حاصل کرنی چاہیے اور ہنگامی حالات میں اسے فرسٹ ایڈ باکس کے استعمال کا طریقہ معلوم ہونا چاہیے۔ فرسٹ ایڈ باکس ایسا ڈبہ ہے جس میں مرہم پٹی کا سامان یعنی روئی کا پیکٹ، چند ضروری قسم کی پٹیاں، ٹنگر، پائیوڈین کی بوتل اور یورک ایسڈ وغیرہ ہوتا ہے۔ فرسٹ ایڈ باکس ہر گھر میں ہونا چاہئے۔

سوال نمبر 28: ابتدائی طبی امداد سے مراد ہے:

- (a) ڈاکٹر سے علاج (b) حادثے میں فوری طبی امداد (c) ہسپتال میں علاج (d) جنگ میں حفاظتی اقدام

سوال نمبر 29: ابتدائی طبی امداد دینے والا محکمہ ہے:

- (a) پولیس (b) موسمیات (c) شہری دفاع (d) مواصلات

سوال نمبر 30: فرسٹ ایڈ باکس میں رکھتے ہیں:

- (a) پٹیاں، مرہم، ٹنگر (b) جوتے، کپڑے، زیورات (c) اوزار، ہتھیار، پرندے (d) کھلونے، پتنگ، گڑیاں

سوال نمبر 31: لفظ "رضاکارانہ" سے مراد ہے:

- (a) حکم سے (b) خوشی سے (c) احتیاط سے (d) مجبوری سے

سوال نمبر 32: پیراگراف کے مطابق فرسٹ ایڈ باکس استعمال ہوتا ہے:

- (a) کشتیہ حالات میں (b) پرسکون حالات میں (c) ہنگامی حالات میں (d) پرامن حالات میں

