



Worksheets Of All Sio's

- ★ PRACTICE TESTS
- ★ TAB QUESTIONS S.N.C

تعلیمی سال کے لئے

مکمل SLOs

All
version

LND

2023-24

URDU

ENGLISH

MATH



Writer:
M.TARIQ ABASI
0304
5495204

1. Identify the correct mark.


MIX SLOs Test

We study in class three_

? | | | |

2. Farmer is _____

in the fields.



Driving | ploughing | drinking

3. Identify the adjective. He is eating four apples.

Four | Eating | Apples

4. Identify the adjective. Ayesha is a sweet girl.

Ayesha | sweet | Girl

5. Nasir goes to the village. His brother lives there. Nasir stays with him. He meets his uncle and his friend Ayaan.

Who does not live in the village?

Nasir's uncle | Nasir | Nasir's brother

6. Identify the adjective. Amna is sitting on a small chair.

Chair | small | Sitting



7. Identify the adjective. The farmer lives in a big house.

Live | Big | House

8. A lion was sleeping under a tree. A mouse was jumping on his head. Who was sleeping under a tree?

Lion | Hunter | Mouse



9. The kid _____ on the stairs.



Fell | climbed | drove

10. The child is _____.



Crying | weeping | Drinking

11. Plural of cat is

cut | cot | cats

12. Identify the adjective. My father bought a new car.

car | New | Bought

13. Identify the word with

Correct spelling.


Farug | Frog | froj



14. Identify the ending

sound of the picture .

swi_____



tch | Are | thr

15. Identify the adjective. He is the shortest among his brothers.

Brother | Shortest | Among

16. Arooj is _____ meal.



cooking | Washing | Brushing

17. Hamid is _____.



Talking | Singing | Running

18. Identify the word

with correct spelling.

bin | Bensch | Byn



19. Identify the beginning

Sound of the picture. _____ ead.

scr | thr | tch



20. Identify the ending


sound of the picture. H_____.

tch | air | are



21. Identify the beginning sound of the picture. Ben_____.

sh | th | ch




42. Identify the ending sound of the picture .B



eer ear are

43. Sana is _____ a box of toys.



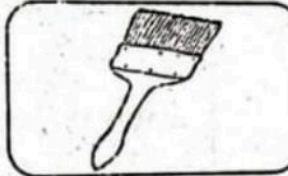
Planting Setting Operating

44. Identify the word with correct spelling.



fox faux fux

45. Identify the word with correct spelling.



brush bruch brash

46. Identify the word with correct spelling.



bufaloe buffolo buffalo

47. Ahmed went to a shop. He bought a doll for his sister, radio for his father and a football for himself.

What did Ahmed buy for himself?

doll radio football

48. The boy is _____ the mountain.



cleaning climbing jumping

49. Identify the picture with correct spelling.



newzpaper newspaper newspaper

50. Kids are _____.



listening writing reading

51. Identify the word with correct spelling.




pelow pilloo pillow

52. He _____ late today.



chopped Woke up combed

53. Identify the word With correct spelling.




vindow wendow window

54. The children are _____ hands.



cleaning shaking hugging

55. A girl is _____ a bicycle.




Weeping Breaking Riding

56. Usman studies in Karachi. His parents are coming to visit him from Multan. He will go to Lahore with them.

Where are Usman's parents coming from?

Karachi Lahore Multan

57. Identify the word with correct spelling.



Spinash Spinach Spalнеш

58. Fatima has a green pen. She filled her pen with blue ink and wrote on a white paper.

What is the color of ink?



Blue Green White

59. Identify the word with correct spelling.



Nack Nek Neck

60. Ahmad lives in Sahiwal. He is going to Faisalabad to visit his aunt. They will go to Murree for a picnic.

Where does Ahmad's aunt live?

Sahiwal Murree Faisalabad

61. You _____ in the park.

Am Is are

62. Identify the correct mark.

What is your name _____

? ! ,

63. Identify the sentence with correct capitalization.

They are playing . they Are playing . they are Playing .

64. We _____ taking tea.

is am are



66. .Umar is-----

Kite.



flying making watching

66.The man is ----
Wood.



breaking cutting tearing

67.He is -----
Shoes.



wearing repairing polishing

68. Zara has a dog and a cat. The dog's name is tony and the cat's name is Mano. Mano plays with her kitten Millie.



What is the name of the Kitten?

Tony Mano Millie

70. Identify the word
With correct spellings.



fork forc forq

71: Identify the beginning
sound of the picture.----ap



str thr th


72.I-----at the

Door .



walked knocked studied

73. Identify the ending
Sound of the picture.



T_____
ear air are

22. Identify the beginning sound of the picture.



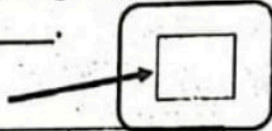
_____ ing.

str	tch	thr
-----	-----	-----

23. Identify the adjective. I like my red bike.

Red	Like	Bike
-----	------	------

24. Identify the ending sound of the picture. Squ _____.



air	are	tch
-----	-----	-----

25. Identify the beginning sound of the picture. _____aw.



str	scr	thr
-----	-----	-----

26. She is _____



Vegetables.

Chopping	Stitching	Looking
----------	-----------	---------

27. Identify the adjective. Amna is sitting on a small chair.

Amna	Sitting	chair
------	---------	-------

28. The kids are _____ on the floor.



Crying	fighting	Selling
--------	----------	---------

29. Identify the beginning sound of the picture.



_____ap.

scr	ear	str
-----	-----	-----

31. Identify the word with correct spelling.




cheak	cheaek	cheek
-------	--------	-------

32. All is _____ a song.



singing	Sweeping	Listening
---------	----------	-----------

33. Identify the ending sound of the picture. st_____.



are	ear	air
-----	-----	-----

34. Identify the ending sound of the picture. Ma_____.

thr	tch	ear
-----	-----	-----

35. Identify the adjective. Amna is happy today.

Amna	Happy	Today
------	-------	-------

36. Birds are sitting on a tree. Amna is sitting on a bench and watching the birds. Her brother, Ali is flying a kite with his friend.

Who is watching the birds?

Ali	Ali's friend	Amna
-----	--------------	------

37. The chef is _____ meat.



Cutting	Washing	Cooking
---------	---------	---------

38. Asif is playing football with his friends. His sister is reading books and his mother is cooking meal for them.

What is Asif's sister doing?

Reading	Cooking	Playing
---------	---------	---------

39. Identify the word with correct spelling.

Nife	knyf	knife
------	------	-------

40. Identify the adjective. My mother keeps the house clean.

Keeps	Clean	House
-------	-------	-------

41: The baby is _____.



playing	smiling	sleeping
---------	---------	----------

ایل این ڈی اے روٹے جیلے ایس ایل اوز کا جائزہ

42۔ یہ الہے ————— چنگ ہے۔

کا	کی	کے
----	----	----

43۔ "عمرہ" کا ہم معنی لفظ ہے۔

گھنٹیا	اعلیٰ	نایاب
--------	-------	-------

44۔ درست ترتیب کے جملے کی نشاندہی کریں۔

درخت کے نیچے	بکری درخت کے	سورہی ہے بکری
بکری سورہی	نیچے سورہی ہے۔	درخت کے نیچے

45۔ وہاں ————— مگر ہے۔

کا	کی	کے
----	----	----

46۔ ارکان ملائیں۔ بل + لا = —————

بلا	بلا	لا بل
-----	-----	-------

47۔ "ہمت" کا ہم معنی لفظ ہے۔

جرات	حکرت	بزوی
------	------	------

48۔ "عظیم" کا ہم معنی لفظ ہے۔

جاہل	بڑا	بے حس
------	-----	-------

49۔ "مساہ" کا ہم معنی لفظ ہے۔

استاد	لوکر	پڑوسی
-------	------	-------

36۔ جملے کے مطابق زمانہ حال کے جملے کی شناخت کریں۔



ولی تصویر میں رنگ بھر رہا ہوگا۔

ولی تصویر میں	ولی تصویر میں	ولی تصویر میں
رنگ بھر رہا تھا۔	رنگ بھر رہا ہے	رنگ بھر رہا تھا۔

37۔ ارکان ملائیں۔ ڈب + پ = —————

ڈب	ڈپ	بڈب
----	----	-----

38۔ "کام" کا ہم معنی لفظ ہے۔

عام	معلوم	راہنما
-----	-------	--------

59۔ چڑیا گھر میں مختلف قسم کے جانور تھے۔ ایک طرف شیر تھا

جو سو رہا تھا۔ اس کے سامنے ہاتھی اپنے گلے میں نہا رہا تھا۔ ایک

کونے میں ہرن دوڑ رہے تھے۔



ہاتھی کیا کر رہا تھا؟

نہا رہا تھا	دوڑ رہا تھا	سو رہا تھا
-------------	-------------	------------

40۔ اسامہ کو ہاکی کھیلنا بہت پسند ہے۔ اس کے ماموں نے اسے

ایک ہاکی اور گیند تھپنے میں دی ہے۔ وہ شام کو ٹیم میں کھج کھیلتا ہے۔

اسامہ کو ہاکی اور گیند کس نے تھپنے میں دی؟

چاپانے	ماموں نے	خالو نے
--------	----------	---------

41۔ مہلت کا ہم معنی لفظ ہے۔

مہلت	وقت	تبت
------	-----	-----

ایل این ڈی آر ڈوٹے مجھے ایس ایل اوز کا جائزہ

17- ایک دن ایک چرواہا بکریاں چرا رہا تھا۔ اچانک وہاں شیر

آگیا۔ جب چرواہے نے شور مچایا تو اس کا دوست اور گاؤں والے

اس کی مدد کو آئے۔



شیر دیکھ کر چرواہے نے کیا کیا؟

بھاگ گیا	شور مچایا	خاموش رہا
----------	-----------	-----------

18- "روشنی" کا متضاد ہے

بجلی	اجالا	تاریکی
------	-------	--------

19- ارکان ملائیں۔ نی + لی = _____

نیل	نیل	لینی
-----	-----	------

20- ارکان ملائیں۔ ہم + مت = _____

ہمت	ہمت	متم
-----	-----	-----

21- غر وہ اپنے بھائی سلطان عالم کے ساتھ باغ میں ہے پیلے

پھولوں پر شہد کی کھیاں ہیں۔ سلطان عالم کو نیلا آسمان بہت اچھا

لگ رہا ہے۔ غر وہ باغ کے تالاب میں سرخ کشتی چلا رہی ہے۔

شہد کی کھیاں کس رنگ کے پھولوں پر ہیں؟

سرخ رنگ	نیلے رنگ	پیلے رنگ
---------	----------	----------

22- "پست" کا متضاد ہے۔

چوڑا	بلند	نچا
------	------	-----

12- جملے کے مطابق زمانہ مستقبل کے جملے کی شناخت کریں۔

امی جان کھانا پکا رہی تھیں۔

امی کھانا پکا رہی تھیں۔	امی کھانا پکا رہی ہوں	امی کھانا پکا رہی
ہیں۔	گی۔	تھیں۔

13- "سوال" کا متضاد ہے۔

سوال	جواب	نال
------	------	-----

14- تین بیسی فاختا کیں پانی کی تلاش میں اڑ رہی تھیں۔ انھیں

کچھ بکریاں تالاب سے پانی پیتی ہوئیں نظر آئیں۔ وہاں مچھلیاں

بھی تیر رہی تھیں۔ تینوں فاختا کیں بھی اڑ کر وہاں پہنچ گئیں۔



تالاب سے پانی کون پی رہی تھیں؟

مچھلیاں	بکریاں	فاختا کیں
---------	--------	-----------

15- ارکان ملائیں۔ مچھ + لی = _____

لمبے	مچھلی	لمبے
------	-------	------

16- آج اتوار کا دن ہے۔ حنا کے ابو آج خود سب کے لیے ناشتہ

تیار کر رہے ہیں۔ امی اخبار پڑھ رہی ہیں اور اس کا بھائی گلی میں

کرکٹ کھیل رہا ہے۔



ناشتہ کون تیار کر رہا ہے؟

حنا کا بھائی	حنا کی امی	حنا کے ابو
--------------	------------	------------

ایل این ڈی آر دو طے جملے ایس ایل اوز کا جائزہ

29- جملے کے مطابق زمانہ ماضی کے جملے کی شناخت کریں۔

اسلم سبزی بیچتا ہے۔

اسلم سبزی بیچتا ہے	اسلم نے سبزی بیچی	اسلم سبزی بیچے گا
--------------------	-------------------	-------------------

30- ارکان ملائیں۔ لق + مہ = _____

لقہ	لق	لقہ
-----	----	-----

31- "پاس" کا متضاد ہے۔

غائب	دور	قریب
------	-----	------

32- جملے کے مطابق زمانہ ماضی کے جملے کی شناخت کریں۔

بچہ دودھ پی رہا ہوگا۔

بچہ دودھ پیتا ہے	بچہ دودھ پی رہا ہے۔	بچہ دودھ پی رہا تھا
------------------	---------------------	---------------------

33- ارکان ملائیں لٹ + ٹو = _____

ٹوٹ	ٹٹو	ٹوٹ
-----	-----	-----

34- "خوشی" کا متضاد ہے۔

نیکلی	غم	اطمینان
-------	----	---------

35- علی گھر کی تصویر بنا رہا ہے۔ گھر کا رنگ پتلا ہے۔ اس میں سفید کھڑکیاں اور کالے دروازے ہیں۔ اس کے گھر کے باہر درخت بھی بنایا ہے۔



علی کا گھر کس رنگ کا ہے؟

کالا	پتلا	بھورا	29
------	------	-------	----

23- جملے کے مطابق زمانہ حال کے جملے کی شناخت کریں۔

عروج کھانا کھاتی تھی۔

عروج کھانا کھاتی ہوگی	عروج کھانا کھاتی ہے۔	عروج کھانا کھا رہی تھی
-----------------------	----------------------	------------------------

24- ارکان ملائیں۔ وال + سہ = _____

والدہ	وادہ	وادہ
-------	------	------

25- مریم کی دادی کا نام قاطمہ ہے۔ ان کی عمر آٹھ سال ہے۔

مریم کی بہن ردا ان سے کہانیاں سنتی ہے۔ وہ ہمیشہ کہانی سننے کے بعد سو جاتی ہے۔۔۔۔۔ کہانیاں کون سناتی ہیں؟

ردا	مریم	قاطمہ
-----	------	-------

26- جملے کے مطابق زمانہ حال کے جملے کی شناخت کریں۔

ندا کام کرتی ہوگی۔	ندا کام کر رہی تھی۔	ندا کام کر رہی ہے۔
--------------------	---------------------	--------------------

27- ارکان ملائیں۔ سہ + نا = _____

سہنا	ناسہ	سنا
------	------	-----

28- نایم شام کو چھ بجے پارک جاتی ہے۔ وہاں اپنی سہیلیوں کے ساتھ کھیلتی ہے۔ دو گھنٹے بعد وہاں آتی ہے۔ آٹھ بجے کھانا کھاتی ہے اور رات دس بجے سو جاتی ہے۔



نایم کتنے بجے سوتی ہے؟

چھ بجے	دس بجے	آٹھ بجے
--------	--------	---------

1- جملے کے مطابق زمانہ مستقبل کے جملے
ایلی این ڈی آر ڈوٹے جملے ایلی اوز کا جائزہ کا متضاد ہے۔

اعلیٰ	بُرا	بلند
-------	------	------

7- ارکان ملائیں۔ ا + ن + و + ہا =

اندھا	دھیان	دھان
-------	-------	------

8- عروج کو آم بہت پسند ہیں۔ ان کے ابو بازار سے آم لائے تو

اس نے جلدی سے اپنی امی کو لے جا کر دے دیئے۔ اس کی امی
آم کا جوس بنائیں گی۔ آم کا جوس کون بنائے گا؟

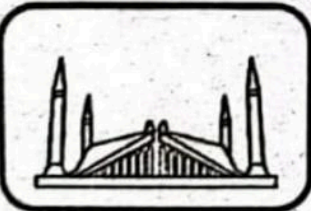
عروج کی امی	عروج کے ابو	عروج
-------------	-------------	------

9- "زیادہ" کا متضاد ہے۔

بھاری	بہت	کم
-------	-----	----

10- فرخندہ گجرات میں رہتی ہے۔ اس کے ماموں اسلام آباد

میں رہتے ہیں۔ وہ اگلے ہفتے اپنے ماموں کے ساتھ لاہور میں چڑیا
گھر دیکھنے جائے گی۔



رہتی ہے؟ فرخندہ کہاں

گجرات	اسلام آباد	لاہور
-------	------------	-------

11- ارکان ملائیں۔ بہ + تر =

بہتر	بتسر	ترہ
------	------	-----



کسان بیچ رہا ہے۔

کسان بیچ رہا ہے۔	کسان بیچ رہا ہے۔	کسان بیچ رہا ہے۔
------------------	------------------	------------------

2- "زمین" کا متضاد ہے۔

میدان	گھاس	آسمان
-------	------	-------

3- ارکان ملائیں۔ ا + ح + س + ا + ن =

احسن	احتاس	احسان
------	-------	-------

4- رابعہ اور عائشہ بہت پریشان تھیں۔ ان کی چڑیا کا بچہ گھونسلے
سے گر گیا تھا اور مین پر گھوم رہا تھا۔ ان کے بھائی زاہد نے آکر اپنی
سائیکل رکھی اور چڑیا کا بچہ واپس گھونسلے میں رکھ دیا۔



اہل نے چڑیا کے بچے کے ساتھ کیا کیا؟

سائیکل پر بٹھایا۔	زمین پر گرا دیا۔	واپس گھونسلے میں رکھا۔
-------------------	------------------	---------------------------

جملے کے مطابق زمانہ ماضی کے جملے کی شناخت کریں،



وہ کھیت میں ہل چلا رہا ہوگا۔

وہ کھیت میں ہل چلاتا ہے۔	وہ کھیت میں ہل چلا رہا ہے۔	وہ کھیت میں ہل چلا رہا تھا۔
-----------------------------	-------------------------------	--------------------------------

آرڈر کے لئے بکس کی تعداد اور سکول یا گھر کا پتہ

وٹس ایپ کریں

03045495204

پاک ٹیسٹ سسٹم۔

38 حبیب سنٹر لاہور۔

ڈاکخانہ چوک شاہین مارکیٹ ملتان۔

پاکستان کے ہر شہر گاؤں تک ڈیلیوری کی سہولت

ہے

تصویر کے نام کے پہلے
حرف کی شناخت کریں



ط م ن

تصویر کے نام کے پہلے
حرف کی شناخت کریں



ک ت ث

تصویر کے نام کے پہلے
حرف کی شناخت کریں




م ک ء

تصویر کے نام کے پہلے
حرف کی شناخت کریں



م آ ف

تصویر کے نام کے پہلے
حرف کی شناخت کریں



س ت ص

تصویر کے نام کے پہلے
حرف کی شناخت کریں



ط ا س

تصویر کے نام کے پہلے
حرف کی شناخت کریں




خ ح ج

تصویر کے نام کے پہلے
حرف کی شناخت کریں



پ ک ا

تصویر کے نام کے پہلے
حرف کی شناخت کریں



ظ ح ت

تصویر کے نام کے پہلے
حرف کی شناخت کریں



ث ت ش



شکل کی پہچان کریں

مثلث

مستطیل

مربع



شکل کی پہچان کریں

مثلث

مربع

مستطیل



شکل کی پہچان کریں

مستطیل

دائرہ



شکل کی پہچان کریں

دائرہ

مربع

نصف دائرہ



شکل کی پہچان کریں

مربع

مثلث

نصف دائرہ



شکل کی پہچان کریں

نصف دائرہ

دائرہ

مثلث




شکل کی پہچان کریں

مستطیل

نصف دائرہ

مربع



شکل کی پہچان کریں

مثلث

مکعب

دائرہ



شکل کی پہچان کریں

مستطیل

مربع

مثلث



شکل کی پہچان کریں

مثلث

مستطیل

مربع

ہم معنی الفاظ: ایسے الفاظ جن کے معانی ایک جیسے ہوں۔ جیسے (روشنی۔ اجالہ) (معلم۔ مدرس) SLO

خبر کا ہم معنی لفظ ہے۔

اطلاع اخبار خبریں

بلند کا ہم معنی لفظ ہے۔

بلندی اونچا نیچے

والد کا ہم معنی لفظ ہے۔

ایا والدہ چچا

ہمت کا ہم معنی لفظ ہے۔

بلند حوصلہ عزم

سردار کا ہم معنی لفظ ہے۔

رشتہ دار دوست آقا

راہبر کا ہم معنی لفظ ہے۔

راست راہنما منزل

آردی کا ہم معنی لفظ ہے۔

مورت انسان شیر

اداس کا ہم معنی لفظ ہے۔

غمگین اداسیاں خوش

نوکر کا ہم معنی لفظ ہے۔

خوش مالی ملازم

بے وقوف کا ہم معنی لفظ ہے۔

دانا نادان اچھا

اجالہ کا ہم معنی لفظ ہے۔

تاریکی روشنی اجالے

حق کا ہم معنی لفظ ہے۔

حقوق حقیقت سچ

راضی کا ہم معنی لفظ ہے۔

رضا ناراض خوش

الفت کا ہم معنی لفظ ہے۔

خوشی لغت محبت

ابتدا کا ہم معنی لفظ ہے۔

شروع آخر ختم

ازیت کا ہم معنی لفظ ہے۔

خوشی تکلیف راحت

آب کا ہم معنی لفظ ہے۔

دودھ لسی پانی

نگلشن کا ہم معنی لفظ ہے۔

بارغ پھول کانٹے

طالت کا ہم معنی لفظ ہے۔


راحت قوت خزانہ

برسات کا ہم معنی لفظ ہے۔

پھاڑ پانی بارش

کتاب کی قیمت 150 روپے ہے

جتنی بھی بکس ہوں ڈیلیوری فری ہے



آپ نے مکمل آرڈر پر صرف 100 روپیہ منی آرڈر فیس دینی ہے

بکس کی تعداد جتنی بھی ہو آپ نے مکمل آرڈر کی بکس کی قیمت

کے ساتھ صرف ایک 100 روپیہ منی آرڈر فیس ادا کرنی ہے جو

پوسٹ میں یا کوریئر سروس کا نمائندہ آپ کو بکس حوالے کرنے








کے بعد رسیو کرے گا

88 صفحات پر ورک شیٹس

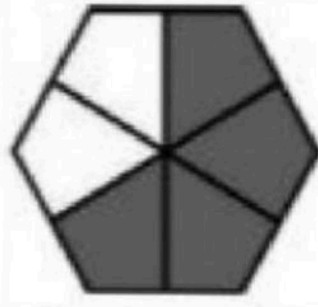
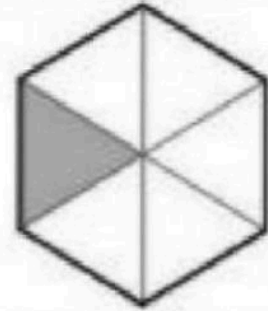
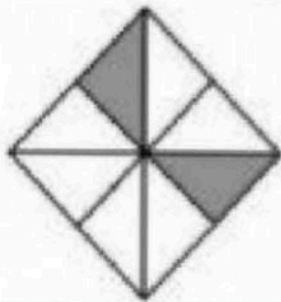

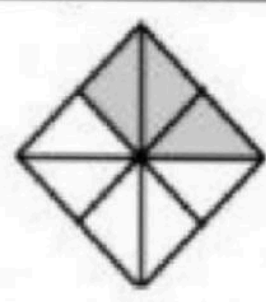
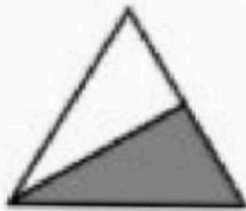
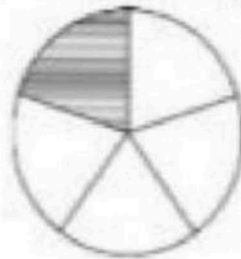
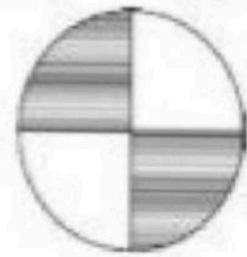


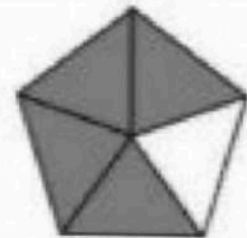
تعلیمی سال کے مکمل SLOs

ان شاء اللہ 100 فی صد کامیابی


تصاویر گن کر جفت طاق کا انتخاب کریں

					
طاق	جفت	طاق	جفت	طاق	جفت
					
طاق	جفت	طاق	جفت	طاق	جفت
					
طاق	جفت	طاق	جفت	طاق	جفت
					
طاق	جفت	طاق	جفت	طاق	جفت

رنگ دار حصہ کی کسر بتائیں

 $1/5$ $2/5$ $3/5$  $4/6$ $2/6$ $4/2$  $1/5$ $2/5$ $1/6$  $2/6$ $2/8$ $6/8$  $1/5$ $3/4$ $1/4$  $3/8$ $5/8$ $3/5$  $1/2$ $2/2$ $1/1$  $1/4$ $1/5$ $4/5$  $1/4$ $2/4$ $2/2$  $3/8$ $5/8$ $3/5$  $3/8$ $5/8$ $3/5$  $1/5$ $4/5$ $4/1$

Identify the number of simple naming words by adding 's' and 'es' (21)



Two _____

Bed

Beds

Bedes



Four _____

Bag

Bags

Bages



Six _____

Peachs

Peches

Peach



Nine _____

Watch

Watches

Watches



Three _____

Shirt

Shirts

Shirtes



Two _____

Shoe

Shoees

Shoes



Four _____

Trucks

Truckes

Truck



Five _____

Dress

Dresses

Dresss



Two _____

Bus

Buses

Buss



Three _____

Bench

Benchs

Benches

گھڑی دیکھ کر گھنٹوں اور منٹوں میں وقت لکھنا

کلاک دیکھ کر وقت
بتائیے (Time)

09:45

02:55


9:05

کلاک دیکھ کر وقت
بتائیے (Time)

06:40

08:20


05:50

کلاک دیکھ کر وقت
بتائیے (Time)

12:45

12:30


09:35

کلاک دیکھ کر وقت
بتائیے (Time)

10:30

08:50


09:30

کلاک دیکھ کر وقت
بتائیے (Time)

08:50

05:45

9:25

کلاک دیکھ کر وقت
بتائیے (Time)

12:45

05:30


02:45

کلاک دیکھ کر وقت
بتائیے (Time)

09:15

11:35


05:25

کلاک دیکھ کر وقت
بتائیے (Time)

9:10

12:35

12:45

کلاک دیکھ کر وقت
بتائیے (Time)

05:15

03:00

9:00

کلاک دیکھ کر وقت
بتائیے (Time)


07:30

10:55

9:05

Identify the shapes

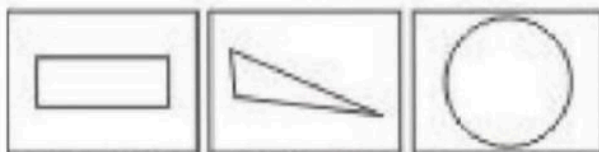
Which of the following shape is a half circle ?



Which of the following shape is a quarter circle ?




Which of the following shape is a triangle ?




Which of the following shape is a quarter circle ?



Which of the following shape is a square ?



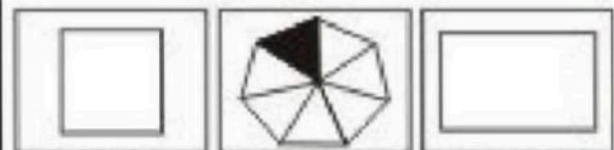
Which of the following shape is a rectangle ?




Which of the following shape is a triangle ?



Which of the following shape is a square ?



Which of the following shape is a half circle ?



Which of the following shape is a quarter circle ?



پوسٹ آفس پاکستان میں آپ کی ڈاک کہاں پر پہنچی ہے اس کی ٹریکنگ کا سسٹم فنکشنل ہے

Result of your query

Article Tracking No : vpp04260934

Booking Office : Lahore

Delivery Office :

Multan Road PO

Article Track Detail

August 11, 2022

5:48 AM	Lahore	Received at Lahore DMO
5:48 AM	Lahore	Dispatch from DMO Lahore to delivery office Multan Road PO (BagID:BAG29190729)
4:57 PM	Multan Road PO	Sent out for delivery

August 15, 2022

4:32 PM	Multan Road PO	Sent out for delivery
---------	----------------	-----------------------

August 16, 2022

9:35 AM	Multan Road PO	Sent out for delivery
10:44 PM	Multan Road PO	Delivered at delivery office Multan Road PO to ADDRESSEE

English

Identify the plural words

Seven		Three		Five				
Pen	Penz	Pens	boxez	boxis	boxes	Balz	Balls	Bales
Four		Three		Six				
Botle	Bottles	Botiz	Chairz	Chairs	chairs	Apiz	aple	apples
Six		Five		Two				
Levs	leaves	lefs	books	bokez	bookis	Ringz	Rings	Rengs
Three		seven		Six				
Trees	Treet	Tris	Baloons	Bloonz	Balenz	Bat	Bats	Batz

Identify simple words (one twothree syllable)with correct spellings.

Correct spelling
of _____



Bed

Bat

Bad

Correct spelling
of _____



Monkay

Monkey

Mankey

Correct spelling
of _____



Ornage

Ornege

Orange

Correct spelling
of _____



Shoe

Shoes

Shoos

Correct spelling
of _____



Ship

Shep

Sheep

Correct spelling
of _____




Lomone

Lemon

Lemman

Correct spelling
of _____



Nest

Next

Nect

Correct spelling
of _____



Ven

Van

Vaan

Correct spelling
of _____




Dal

Dol

Doll

Correct spelling
of _____



Goot

Gote

Goat

Articulate And Identify Words Containing trigraphs In Initial, Middle And Final Position

Identify the beginning
Sound of the picture
.....ine "



ear
sch
shr

Identify the ending
Sound of the picture
k..... "



sch
tch
shr

Identify the ending
Sound of the picture
s..... "



sch
shr
tch

Identify The beginning
Sound Of The Picture
.....aw "



sch
tch
str

Identify the ending
Sound of the picture
bri..... "



igh
dge
tio

Identify The ending
Sound Of The Picture
nat..... "



ure
are
air

Identify the middle
Sound of the picture
b.....d "



ear
sch
shr

Identify the middle
Sound of the picture
d.....y "



ure
are
air

Identify the beginning
Sound of the picture
.....ool "



ear
sch
shr

Identify the ending
Sound of the picture
pi..... "



sch
shr
tch

Identify and articulate correct action word according to the pictures

The boy is



Speaking

Shouting

Jumping

The boy is



Reading

Listening

Speaking

The boy is



Talking

Seeing

Washing

The boy is



Praying

Smiling

Bathing

The boy is



Singing

Reading

Bathing

The boy is



Talking

Seeing

Jumping

The boy is



Weeping

Laughing

Smiling

The baby is



Singing

Reading

Playing

The boy is



Praying

Sleeping

Playing

The boy is




Sitting

Standing

Walking

The cat is _____ the table.



Onto

behind

on

The cat is _____ the table.



over

beside

front

The rabbit jumps _____ the box.




in

into

over

The cat is _____ the table.



under

over

in

The baby jumps _____ pool.



behind

in

into

The lunch box is _____ the table.



into

on

front

The lion is _____ the bush.



front

under

behind

The boy is _____ the chair.




in

on

over

The dog is in _____ of gate.



front

behind

on

Boy is _____ the table.



in

over

on

Identify and articulate correct action word according to the pictures

The boy is



- Running
- Jumping
- Walking

The girl is



- Catching
- Throwing
- Talking

The girl is



- Jumping
- Throwing
- Skipping

The boy is



- Sitting
- Praying
- Reading

The boy is



- Writing
- Reading
- Learning

The boy is



- Writing
- Reading
- Speaking

The boy is



- Eating
- Pushing
- Driving

The man is



- Driving
- Running
- Riding

The boy is



- Seeing
- Watching
- Writing

The boy is



- Swimming
- Running
- Riding


Identify and articulate correct action word according to the pictures

The boy is



Swimming Sleeping Bathing

The boy is



Laughing Weeping Playing

The man is



Bathing Catching Sitting

The boy is



Talking Helping Reading

The woman is



the door

Opening Closing Sitting

The boy is



the door

Opening Closing Pushing

The man is



the car.

Opening Pulling Pushing

The man is



the car.

Opening Pulling Pushing

The boys are



Meeting Fighting Greeting

The boy is



Sitting Standing Walking

Identify and articulate correct action word according to the pictures

The boy is



- Speaking
- Shouting
- Jumping

The boy is



- Reading
- Listening
- Speaking

The boy is



- Talking
- Seeing
- Washing

The boy is



- Praying
- Smiling
- Bathing

The boy is



- Singing
- Reading
- Bathing

The boy is



- Talking
- Seeing
- Jumping

The boy is



- Weeping
- Laughing
- Smiling

The baby is



- Singing
- Reading
- Playing

The boy is



- Praying
- Sleeping
- Playing

The boy is



- Sitting
- Standing
- Walking

Articulate and identify words containing digraphs in initial, middle and final position

Identify the ending sound of the picture ear....."



ch

wh

th

Identify the beginning Sound of the pictureistle"



ch

wh

th

Identify the beginning sound of the pictureildren"




ch

wh

th

Identify the beginning Sound of the pictureair"



ch

wh

th

Identify the beginning Sound of the pictureimney"

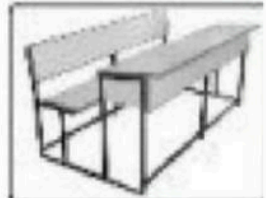


ch

wh

th

Identify the ending Sound of the picture Ben....."



ch

wh

th

Identify the ending Sound of the picture lun....."




ch

wh

th

Identify the ending Sound of the picture starfi....."



ch

sh

th

Identify the beginning Sound of the pictureermometer"



ch

wh

th

Identify The beginning Sound Of The Pictureark"



ch

wh

sh

Digraph

A combination of two letters representing one sound, as in ph and ch.

Identify simple words (one,two,three syllable) with correct spellings.

تصویر کے مطابق درست سہولک
والے لفظ کی نشاندہی کریں



Glass

Glasses

Glaas

تصویر کے مطابق درست سہولک
والے لفظ کی نشاندہی کریں



Parit

Parrit

Parrot

تصویر کے مطابق درست سہولک
والے لفظ کی نشاندہی کریں



Queen

Quin

Kueen

تصویر کے مطابق درست سہولک
والے لفظ کی نشاندہی کریں



Kyng

Keng

King

تصویر کے مطابق درست سہولک
والے لفظ کی نشاندہی کریں



Chiar

Chair

Chaire

تصویر کے مطابق درست سہولک
والے لفظ کی نشاندہی کریں



Bag

Bayg

Baig

تصویر کے مطابق درست سہولک
والے لفظ کی نشاندہی کریں



Table

Tayble

Tabl

تصویر کے مطابق درست سہولک
والے لفظ کی نشاندہی کریں



Rate

Rait

Rat

تصویر کے مطابق درست سہولک
والے لفظ کی نشاندہی کریں



Mosquito

Mosquitto

Mosquitoo

تصویر کے مطابق درست سہولک
والے لفظ کی نشاندہی کریں



Cumpoter

Compoter

Computer

جب پوسٹ مین آپ کو بکس دے گا تو اس وقت
آپ سے بکس کی قیمت رسیو کرے گا



دکان کی جمع ہے۔

دکانیں دکانات دکائیں

پیشا کی جمع ہے۔

پیشے پیشیاں پیشیا

جھنڈا کی جمع ہے۔

جھنڈے جھنڈیاں جھنڈیا

پیغام کی جمع ہے۔

پیغامات پیغامیں پیغام

پھاڑ کی جمع ہے۔

پھاڑوں پھاڑیاں پھاڑیوں

اٹھ کی جمع ہے۔

اٹھنے اٹھنا اٹھنا

کلمہ کی جمع ہے۔

کلمے کلمہ کلمہ

کتاب کی جمع ہے۔

کتابیں کتابیاں کتابیاں

لقب کی جمع ہے۔

لقب لقاہ لقاہ

جسم کی جمع ہے۔

جسمیں اجسام اجسام

پکڑا کی جمع ہے۔

پکڑا پکڑے پکڑے

پودا کی جمع ہے۔

پودے پودے پودے

الحام کی جمع ہے۔

الحامات الحام الحام

چھتی کی جمع ہے۔

چھتیاں چھتوں چھتے

یوم کی جمع ہے۔

یومیہ یوم یوم

سردی کی جمع ہے۔

سردیاں گرمیاں سرد

Real life problems involving same units of length, mass and capacity.

24

سارہ ایک 18 سینٹی میٹر لمبا قطعہ خط کھینچتی ہے پھر اس قطعہ خط کا 9 سینٹی میٹر کا حصہ کاٹ دیتی ہے
اب اس قطعہ خط کی کل لمبائی کتنی ہوگی؟

2 سینٹی میٹر

27 سینٹی میٹر

9 سینٹی میٹر

ایک آدمی کے پاس 18 میٹر لمبی رسی ہے اگر وہ اس رسی کا 9 میٹر کا حصہ کاٹتا ہے تو بقیے اب اس
کے پاس کتنے میٹر رسی باقی ہے

2 میٹر

9 میٹر

27 میٹر

A tailor buys 16m cloth. If he uses 8m cloth to the make a dress .

How much cloth is left?

24m

8m

2m

ایک آدمی 7 کلوگرام آلو اور 12 کلوگرام چاول خریدتا ہے آلو اور چاول کا کل کتنا وزن ہوگا

19

84

5

علی کے پاس ایک کار ہے اس کا رنگ نیلا ہے اس پر سبز جھنڈا لگا ہوا ہے اس کے پیچھے کارنگ سیاہ ہے
علی کو اپنی کار بہت پسند ہے

سیاہ

نیلا

سبز

جھنڈے کا کیا رنگ ہے؟

چوہٹیوں کی ملکہ کے پر ہوتے ہیں وہ بہت سارے طاڑے دیتی ہے کارکن چوہٹیاں کھانا صبح کرتی ہیں اور
منگی چوہٹیاں اپنا بل صاف رکھتی ہیں

کارکن

منگی

ملکہ

کون سے چوہٹیاں کھانا صبح کرتی ہیں؟



خوشی	خ-و-ش-ی	خ-ا-و-ش-ی	خ-ش-ی
بھوکی	ب-و-ک-ہ	بھ-و-ک-ی	ب-ھ-ک-ی
درخت	د-ر-خ	د-ر-خ-ط	د-ر-خ-ت
شکاری	ش-ک-ا-ر-ی	ش-ک-ر-ی	ش-ی-ک-ر-ی
پتھر	پ-ت-ر	پ-ت-ھ-ر	پ-ت-ر-ھ
صبح	ص-ب-ح	ص-ب-و-ح	ص-ب-ا-ح
پانی	پ-و-ن-ی	پ-ی-ن-ی	پ-ا-ن-ی
استعمال	ا-س-ت-ع-م-ا-ل	ا-س-ط-م-ل	ا-س-ت-م-ل
حصہ	ح-س-ہ	ح-ص-ہ	ح-ص-ا
چاند	چ-ا-ن	چ-ا-ن-و	چ-ی-ن-ا-و
عید	ع-ی-د	ع-ا-د	ع-ا-ی-د
مہندی	م-ہ-ن-و-ی	م-ی-ن-و-ی	م-ا-ن-و-ی

Math

طاق اور جفت اعداد کی شناخت کریں

1- دیئے گئے اعداد میں سے طاق عدد کونسا ہے؟	2- دیئے گئے اعداد میں سے جفت عدد کونسا ہے؟
10	7
8	5
7	2
3- دیئے گئے اعداد میں سے طاق عدد کونسا ہے؟	4- دیئے گئے اعداد میں سے جفت عدد کونسا ہے؟
6	6
9	5
4	9
5- دیئے گئے اعداد میں سے طاق عدد کونسا ہے؟	6- دیئے گئے اعداد میں سے جفت عدد کونسا ہے؟
16	12
17	8
12	1
7- دیئے گئے اعداد میں سے طاق عدد کونسا ہے؟	8- دیئے گئے اعداد میں سے جفت عدد کونسا ہے؟
36	30
33	15
30	17
9- دیئے گئے اعداد میں سے طاق عدد کونسا ہے؟	10- دیئے گئے اعداد میں سے جفت عدد کونسا ہے؟
36	40
34	43
33	45
11- دیئے گئے اعداد میں سے طاق عدد کونسا ہے؟	12- دیئے گئے اعداد میں سے جفت عدد کونسا ہے؟
58	39
56	37
55	34
13- دیئے گئے اعداد میں سے طاق عدد کونسا ہے؟	14- دیئے گئے اعداد میں سے جفت عدد کونسا ہے؟
84	23
75	28
72	31
15- دیئے گئے اعداد میں سے طاق عدد کونسا ہے؟	16- دیئے گئے اعداد میں سے جفت عدد کونسا ہے؟
79	20
78	25
77	27

Comprehension

1. Aslam sees a frog. The frog sees a bug. The frog eats bug.

What does Aslam see?

A bug

Frog

Bugs

2. It is winter season. The children are wearing warm clothes. The snow is falling.

What is this season?

Snow

Warm

Winter

3. A fish is swimming in the river. It is blue in colour. Amir is trying to catch the fish.

What is the colour of fish?

Amir

Blue

Red

4. The bear lives in the Zoo. He plays with flowers. Children love him.

Where does bear live?

Zoo

Bear

Flower

5. Farid is a farmer. His axe falls in the river. He is very sad.

How is farmer feeling?

Sad

Freed

Axe

6. I have a cat. She drinks milk. His eyes are blue.

Who drinks milk?

Milk

Blue

Cat

7. Fatima has a parrot. Its name is Cuckoo. It is green in colour.

What is the name of parrot?

Fatima

Cuckoo

Colour

8. Ali has a new bike His new bike is red. It has a flag on the back.

What is on the back?

Bike

Flag

Red

9. Taimoor plays cricket. He plays in a park. He likes to bat.

Where does Taimoor play?

Park

Bat

Cricket

10. Zeb's favorite fruit is mango. It is yellow in colour. It is sweet in taste

What Zeb's favorite fruit ?

Colour

Yellow

Mango

11. Ayesha is a doctor. She looks after her parents. She works at a hospital in Lahore.

Who is doctor?

Hospital

Lahore

Ayesha

12. Miss Fozia teaches English . She gives story books to her students to read stories

What does she teach her students?

Books

English

Read

کہانی، مکالمے اور ڈرامے کو اس کے نتائج کے حوالے سے پڑھ سکتے۔ SLO

(i) ہم پنجاب میں رہتے ہیں۔ پنجاب کا مطلب ہے پانچ دریاؤں کی زمین۔ پنجاب میں پانچ دریا بہتے ہیں۔ پنجاب میں شاعراں فصلیں ہوتی ہیں۔

پنجاب کا کیا مطلب ہے؟

تین دریا

پانچ دریا

چار دریا

(ii) بلوچستان پاکستان کا سب سے بڑا صوبہ ہے۔ بلوچستان میں بہت سے پھل پیدا ہوتے ہیں۔ بلوچستان کا صدر مقام کوئٹہ ہے۔ کوئٹہ میں بہت سے تاجر رہتے ہیں جو تجارت کرتے ہیں۔

بلوچستان کے صدر مقام کا کیا نام ہے؟

لاہور

بلوچستان

کوئٹہ

(iii) آج 14 اگست ہے۔ آج کے دن پاکستان کا تھما۔ اس دن گیموں، ہزاروں اور گھروں میں جھنڈیاں لگی ہوئی ہیں۔ ہر جگہ قومی ترانے اور قومی نغمے گونج رہے ہیں۔

ہر جگہ کیا گونج رہے ہیں؟

قومی ترانے اور قومی نغمے

باہرے

گانے

(iv) کرکٹ کی ٹیم میں 11 کھلاڑی ہوتے ہیں۔ تمام کھلاڑی کپتان کی بات مانتے ہیں۔ ہر کھلاڑی محنت کرتا ہے۔ کرکٹ کا ٹیچ بہت دلچسپ ہوتا ہے۔ اچھا کھیلنے والا جیت جاتا ہے۔

کرکٹ کی ٹیم میں کتنے کھلاڑی ہوتے ہیں؟

9

11

10

(v) عمر کے ماموں پانچ سال بعد مگن سے پاکستان واپس آئے تھے۔ عمر اپنے نانا کے ساتھ ماموں کو لاہور کے ہوائی اڈے سے لینے گیا۔ عمر اور ماموں گاڑی میں بیٹھے ہی تھے کہ وہ بولا "ماموں مگن پاکستان سے کتنا دور ہے؟"

عمر کس کے ساتھ ماموں کو لینے لاہور ایئر پورٹ گیا؟

نانا ابو کے ساتھ

امی کے ساتھ

ابا کے ساتھ

رموز اوتاق

‘	—	؟	آپ نے سکول سے چھٹی کیوں کی
‘	—	؟	میں سکول جاتا ہوں
‘	—	؟	میرے پاس پینسل نوٹ بک اور قلم ہیں
‘	—	؟	کیا آپ کا نام کامران ہے
‘	—	؟	بکری۔ بھینس اور گائے جانور ہیں
‘	—	؟	عائشہ سکول جاتی ہے
‘	—	؟	علامہ اقبال کہاں پیدا ہوئے
‘	—	؟	آپ نے سکول سے چھٹی کیوں کی
‘	—	؟	عمر محنتی۔ ذہین اور ایماندار ہے
‘	—	؟	اسلم وہی لایا ہے
‘	—	؟	کیا آپ نے دوائی کھائی ہے
‘	—	؟	یہ علی کی کتاب ہے
‘	—	؟	آپ کے پاس کس کی پینسل ہے
‘	—	؟	بارش ہو رہی ہے

SVO

انگش کے جملوں میں ترتیب کے لئے یاد رکھیں

S = Subject = قائل = کام کرنے والا

V = Verb = فعل = کام

O = Object = جس چیز پر کام ہو یا جس چیز پر کام اثر ہو = مفعول

Carpenter makes table.

S ——— V ——— O

Identify Correct Sentences.

i	Amna walks.	walks Amna.	Amna to be.
ii	is reading She.	reading She is.	She is reading.
iii	playing She is.	She playing is.	She is playing.
iv	drinks Cat milk.	Cat drinks milk.	milk Cat drink.
v	reads He book.	book reads He.	He reads book.
vi	Dog eats meat.	meat eats Dog.	Dog meat eats.
vii	are you How?	you are How?	How are you?
viii	raining It is.	It is raining.	raining is it.
ix	Baby crying is.	crying Baby is.	Baby is crying.
x	He teaches English.	He English teaches.	English He teaches.

پرنٹنگ کا اعلیٰ معیار

تصویری سوالات

ٹیپ کے مطابق مکمل پیٹرن

انگلش اردو ریاضی کی ترتیب

الفاظ متضاد

ہر لفظ کا ایک مطلب ہوتا ہے اور جب ایک اور لفظ اسی لفظ کے مطلب، معنی کو الٹ ظاہر کرے تو وہ لفظ اس کا متضاد ہوتا ہے

مثلاً: جس بندے کے پاس دولت زیادہ ہو اسے امیر کہتے ہیں جبکہ جس کے پاس بے روزگاری ہو اسے غریب کہتے ہیں

”امیر“ کا متضاد ”غریب“ ہے۔

اسی طرح پڑھے لکھے کو عالم کہتے ہیں اور جس کو پڑھنا لکھنا نہ آئے اسے جاہل کہتے ہیں

”عالم“ کا متضاد ”جاہل“ ہے۔

الفاظ	متضاد	الفاظ	متضاد	الفاظ	متضاد
نیکی	بدی	دوکاندار	گاہک	بقا	فنا
غلامی	آزادی	گرم	سرد	ست	مختی
صبح	غلط	حی	خوشی	کبیر	صغیر
مغرب	مشرق	طلوع	غروب	مہنگا	ستا
فلک	زمین	طول	عرض	کمل	ناکمل
شمس	قمر	عالم	جاہل	موت	حیات
کافر	مسلمان	عرب	عم	عام	خاص
پھول	کانٹا	عریض	طویل	عرش	فرش
کٹھن	سہل	قانی	باقی	عروج	زوال
کچا	پکا	غریب	امیر	غائب	حاضر
زیادہ	کم	غلام	آزاد	کھرا	کھوٹا
بیٹھا	کھٹا	کشادہ	تنگ	کھجوں	سخی

Urdu

توڑ کے جوڑ لکھیں

2-گ-م			1-چ-ب-ی		
گم	گرم	گام	چابو	چابی	چاب
4-ب-س			3-م-ل-اں		
باس	سب	بس	میں	مان	ماں
6-پھ-و-ل			5-ک-ن		
پھل	پھال	پھول	کان	کن	نک
8-د-ر-خ-ت			7-س-ب		
دروکت	درکھت	درخت	بسر	سب	بس
10-م-ی-ر			9-بھ-ے-ن-س		
امیر	مرا	میرا	سانچہ	بھانس	بھینس
12-ج-ا-ل			11-ن-ر-م		
لاج	جال	اجل	نرم	نارم	رنم
14-گ-ر-م			13-ر-و-ٹ-ی		
رگم	گرمی	گرم	رائی	ٹوری	روٹی
16-گھ-ٹ			15-ش-ی-ش-ہ		
گھٹ	گھاٹ	خنگ	سوشہ	سیدہ	شیدہ

فاطمہ نے آنسکریم کھائی			علی نے بیج بویا		
کھائی	آنسکریم	فاطمہ	علی	بیج	بویا
شہباز نے مخط لکھا			میں مدینہ جاؤں گا		
لکھا	مخط	شہباز	جاؤں	میں	مدینہ
ابوسیر کو جاتے ہیں			امی کھانا پکاتی ہیں		
ابو	سیر	جاتے	امی	کھانا	پکاتی
عامر نے غریب کو کھانا کھلایا			کاشف اچھا کھیلتا ہے		
عامر	کھلایا	کھانا	کھیلتا	کاشف	اچھا
شہزاد نے پھول توڑا			ارباب نے آم کا پودا لگایا		
پھول	شہزاد	توڑا	لگایا	پودا	ارباب
گلوکار حامد نے گانا گایا			جادوگر نے چادو دکھایا		
گانا	گلوکار	گایا	چادو	جادوگر	دکھایا
امی نے دودھ اُبالا			مالی نے پودوں کو تراشا		
اُبالا	امی	دودھ	تراشا	مالی	پودوں
شیر کو دیکھ کر بچہ چلایا			پیرے نے سانپ کو پکڑا		
چلایا	دیکھا	شیر	پکڑا	سانپ	پیرے
عرفان نے بیج جیتا			مرغی نے انڈا دیا		
جیتا	عرفان	بیج	دیا	انڈا	مرغی

اسد فقیر نے صیبا سے مل کر صحتی سے سب سے پہلے کام کرنے کا ارادہ کیا اور جس وقت یہ کام شروع کیا اس وقت اس کا نام بھی لگا دیا اور صیبا کا ہونے کا نام لگا دیا۔
 صبا: پہلے اس کا نام لگا دیا ہے۔ پہلے کام کرنے کا ارادہ کیا اور جس وقت یہ کام شروع کیا اس وقت اس کا نام بھی لگا دیا اور صیبا کا ہونے کا نام لگا دیا۔
 اس کے بعد صیبا نے صحتی سے مل کر صحتی سے سب سے پہلے کام کرنے کا ارادہ کیا اور جس وقت یہ کام شروع کیا اس وقت اس کا نام بھی لگا دیا اور صیبا کا ہونے کا نام لگا دیا۔
 اگر کمرہ ساز کا نام لگا دیا ہے تو سب سے پہلے صحتی سے مل کر صحتی سے سب سے پہلے کام کرنے کا ارادہ کیا اور جس وقت یہ کام شروع کیا اس وقت اس کا نام بھی لگا دیا اور صیبا کا ہونے کا نام لگا دیا۔
 صبا (کام کرنے کا نام لگا دیا) صحتی (کام کرنے کا نام لگا دیا) صحتی (کام کرنے کا نام لگا دیا)

درست ترتیب کے جملے کی نشاندہی کریں

اسلم کھائے گا	✓	صیبا اسلم کھائے گا		اسلم کھائے گا صیبا	
مٹی چھوڑا پکڑتی ہے		پکڑتی ہے مٹی چھوڑا		مٹی پکڑتی ہے چھوڑا	
کامران دیتا ہے امتحان		امتحان کامران دیتا ہے		کامران دیتا ہے امتحان	
حافظ کھلونا توڑتا ہے		حافظ توڑتا ہے کھلونا		حافظ کھلونا ہے توڑتا	
نماز پڑھتا ہے اجمل		اجمل پڑھتا ہے نماز		اجمل نماز پڑھتا ہے	
عامر قلم خریدتا ہے		قلم عامر خریدتا ہے		عامر خریدتا ہے قلم	
انس کتاب پڑھتا ہے		انس پڑھتا ہے کتاب		انس کتاب ہے پڑھتا	
اسد فقیر کو کھانا دیتا ہے		کھانا دیتا ہے فقیر کو اسد		اسد فقیر کو کھانا دیتا ہے	
لگاتا ہے مانی پونا		مانی پونا لگاتا ہے		مانی پونا لگاتا ہے	
رانی پانی پیتی ہے		پانی رانی پیتی ہے		رانی پیتی ہے پانی	
رکھتا ہے عامر روزہ		عامر روزہ رکھتا ہے		عامر رکھتا ہے روزہ	
فومی جاگتا ہے سرحد پر		جاگتا ہے سرحد پر فومی		فومی سرحد پر جاگتا ہے	
کسان بھتا ہے		بھتا ہے کسان		کسان بھتا ہے	

روزمرہ زندگی میں دو ہندسی اعداد کی ایک ہندسی عدد سے تقسیم SLO

<p>(ii) احمد کے پاس 27 گیندیں ہیں۔ وہ ان گیندوں کو برابر مقدار میں 3 خانوں میں رکھتا ہے۔ تو کتنی ہر خانے میں کتنی گیندیں ہوں گی؟</p>	<p>(i) احمد کے پاس 18 بنیاں ہیں۔ وہ ان بنیوں کو دو سٹیپوں میں برابر تقسیم کرتی ہے۔ ہر سٹیپ کو کتنی بنیاں ملیں گی؟</p>						
<table border="1" style="width: 100%; border-collapse: collapse;"> <tr> <td style="width: 33%; padding: 5px;">11</td> <td style="width: 33%; padding: 5px;">10</td> <td style="width: 33%; padding: 5px;">9</td> </tr> </table>	11	10	9	<table border="1" style="width: 100%; border-collapse: collapse;"> <tr> <td style="width: 33%; padding: 5px;">9</td> <td style="width: 33%; padding: 5px;">8</td> <td style="width: 33%; padding: 5px;">10</td> </tr> </table>	9	8	10
11	10	9					
9	8	10					
<p>(iv) ایک دکان میں 24 غبارے ہیں۔ 3 بچوں کو برابر مقدار میں کتنے کتنے غبارے ملیں گے؟</p>	<p>(iii) استاد صاحب کے پاس 30 بنسلیں ہیں۔ وہ ان بنسلیوں کو 5 طلباء میں برابر تقسیم کرتے ہیں۔ ہر طالب علم کو کتنی بنسلیں ملیں گی؟</p>						
<table border="1" style="width: 100%; border-collapse: collapse;"> <tr> <td style="width: 33%; padding: 5px;">8</td> <td style="width: 33%; padding: 5px;">7</td> <td style="width: 33%; padding: 5px;">6</td> </tr> </table>	8	7	6	<table border="1" style="width: 100%; border-collapse: collapse;"> <tr> <td style="width: 33%; padding: 5px;">6</td> <td style="width: 33%; padding: 5px;">4</td> <td style="width: 33%; padding: 5px;">3</td> </tr> </table>	6	4	3
8	7	6					
6	4	3					
<p>(vi) احمد نے سائیکل پر 20 کلومیٹر کا سفر 4 گھنٹے میں طے کیا۔ احمد نے ایک گھنٹے میں کتنا سفر طے کیا؟</p>	<p>(v) ابو بنیوں کا چکٹ لائے جس میں 24 بنیاں ہیں۔ ابو نے 4 بچوں میں برابر بنیاں تقسیم کیں۔ ہر بچے کو کتنی بنیاں ملیں گی؟</p>						
<table border="1" style="width: 100%; border-collapse: collapse;"> <tr> <td style="width: 33%; padding: 5px;">6</td> <td style="width: 33%; padding: 5px;">5</td> <td style="width: 33%; padding: 5px;">4</td> </tr> </table>	6	5	4	<table border="1" style="width: 100%; border-collapse: collapse;"> <tr> <td style="width: 33%; padding: 5px;">7</td> <td style="width: 33%; padding: 5px;">6</td> <td style="width: 33%; padding: 5px;">5</td> </tr> </table>	7	6	5
6	5	4					
7	6	5					
<p>(viii) ایک ہوٹل میں 32 کرسیاں ہیں۔ اگر ہر میز کے پاس 4 کرسیاں رکھیں تو کتنی میزیں دیکھا جائے گی؟</p>	<p>(vii) عالیہ کے پاس 80 کڑ پینل ہیں۔ وہ 10 کڑ پینل ایک باکس میں رکھتی ہے۔ عالیہ کو کتنے باکس دیکھا جائے گا؟</p>						
<table border="1" style="width: 100%; border-collapse: collapse;"> <tr> <td style="width: 33%; padding: 5px;">8</td> <td style="width: 33%; padding: 5px;">7</td> <td style="width: 33%; padding: 5px;">6</td> </tr> </table>	8	7	6	<table border="1" style="width: 100%; border-collapse: collapse;"> <tr> <td style="width: 33%; padding: 5px;">10</td> <td style="width: 33%; padding: 5px;">9</td> <td style="width: 33%; padding: 5px;">8</td> </tr> </table>	10	9	8
8	7	6					
10	9	8					
<p>(x) ڈیٹان کے پاس 40 روپے ہیں۔ وہ ان پیسوں کو اپنے دو بھائیوں میں برابر بانٹ دیتا ہے۔ ہر بھائی کو کتنے روپے ملے؟</p>	<p>(ix) ایک ہال میں 6 بچوں کی ساگرہ پارٹی میں ایک کے 18 گلوے ہیں۔ ہر بچے کو کتنے گلوے ملیں گے؟</p>						
<table border="1" style="width: 100%; border-collapse: collapse;"> <tr> <td style="width: 33%; padding: 5px;">30</td> <td style="width: 33%; padding: 5px;">20</td> <td style="width: 33%; padding: 5px;">10</td> </tr> </table>	30	20	10	<table border="1" style="width: 100%; border-collapse: collapse;"> <tr> <td style="width: 33%; padding: 5px;">5</td> <td style="width: 33%; padding: 5px;">4</td> <td style="width: 33%; padding: 5px;">3</td> </tr> </table>	5	4	3
30	20	10					
5	4	3					

سادہ جملے اور ان پر مبنی عبارات کو پڑھ کر سمجھ سکتے۔

گندم	منا	کپاس	۴۰ کھانے کے پلوں میں سے ایک ہے۔ اس کی فصل کاشت کی۔ اس کے پلوں کی فصل کاشت کی؟
80	5	70	لاہور کی آبادی کی عمر 70 سال ہے۔ وہ کتنے نماز پڑھتی ہیں۔ لاہور کی آبادی کتنی مرچہ نماز پڑھتی ہیں؟
کاٹا	پلا	سٹیو	زمین نے نئی سائیکل خریدی۔ سائیکل کارنگ کالا ہے۔ زمین کی سائیکل کارنگ کبھی ہے؟
مریض	ہسپتال	ڈاکٹر	باسط کے ابو ڈاکٹر ہیں۔ وہ ہسپتال جاتے ہیں۔ مریضوں کا علاج کرتے ہیں۔ باسط کے ابو کیا ہیں؟
فٹ بال	پندر	کرکٹ	سلیم کرکٹ بال پندر ہے۔ وہ روزانہ فٹ بال کھیلتا ہے۔ سلیم روزانہ کیا کھیلتا ہے؟
جان	رو	ای	ای ڈاکٹر مریض ہیں۔ ایما اخبار پندر ہے۔ ایما اخبار کون پندر ہے؟
سکول	لاہور	چٹا گھر	حسن لاہور میں پندر ہے۔ وہ چٹا گھر کی سر کرتا ہے۔ حسن سر کے لیے کہاں جاتا ہے؟
چالیس	کسان	گای	شیراز ایک کسان ہے اس کے پاس چالیس جانور ہیں۔ شیراز کے پاس کتنے جانور ہیں؟
80	5	70	لاہور کی آبادی کی عمر 70 سال ہے۔ وہ کتنے نماز پڑھتی ہیں۔ لاہور کی آبادی کتنی مرچہ نماز پڑھتی ہیں؟
کاٹا	پلا	سٹیو	زمین نے نئی سائیکل خریدی۔ سائیکل کارنگ کالا ہے۔ زمین کی سائیکل کارنگ کبھی ہے؟
مریض	ہسپتال	ڈاکٹر	باسط کے ابو ڈاکٹر ہیں۔ وہ ہسپتال جاتے ہیں۔ مریضوں کا علاج کرتے ہیں۔ باسط کے ابو کیا ہیں؟
فٹ بال	پندر	کرکٹ	سلیم کرکٹ بال پندر ہے۔ وہ روزانہ فٹ بال کھیلتا ہے۔ سلیم روزانہ کیا کھیلتا ہے؟
جان	رو	ای	ای ڈاکٹر مریض ہیں۔ ایما اخبار پندر ہے۔ ایما اخبار کون پندر ہے؟
سکول	لاہور	چٹا گھر	حسن لاہور میں پندر ہے۔ وہ چٹا گھر کی سر کرتا ہے۔ حسن سر کے لیے کہاں جاتا ہے؟
چالیس	کسان	گای	شیراز ایک کسان ہے اس کے پاس چالیس جانور ہیں۔ شیراز کے پاس کتنے جانور ہیں؟
سٹیو	پلا	لی	بھیرے لی ہے اس کا نام ہانو ہے اس کا رنگ سٹیو ہے۔ لی کا کیا نام ہے؟

Identify the correct mark.

The sky is blue _____			How are you _____		
?	!	.	!	?	.
Am I fine _____			This is my book _____		
!	?	.	!	.	?
Oh _____ That is good.			What is your name _____		
?	.	!	!	?	.
Get out _____			May you live long _____		
?	!	.	?	!	.
Is this a book _____			I drink milk _____		
?	!	.	?	!	.
This is a dog _____			Alas _____ He is no more.		
!	.	?	!	?	.
Why are you weeping _____			It is raining _____		
?	.	!	.	!	?
Hurrah _____ We have won.			Who are you _____		
.	?	!	!	.	?
The boy is laughing _____			What are you doing?		
.	!	?	?	.	!

Identify the sentence with correct capitalization.

where do you live?	Where do you live?	Where DO You live?
She is a girl.	She Is A Girl.	sHE IS A GIRL.
You Are Clever.	You are clever.	you are clever.
girls are singing.	Girls ARE SINGING.	Girls are singing.
She buys apples.	sHE BUYS APPLES.	SHE BUYS APPLES.
All Is Eating Grapes.	all is eating grapes.	All is eating grapes.
We love our country.	We love OUR country.	wE love ouR country.

(ii) بچہ کے پاس 25 ٹانیاں ہیں۔
وہ 10 ٹانیاں سارہ کو دے دیتی ہے۔
اب بچہ کے پاس کتنی ٹانیاں ہیں؟

10

15

35

(i) اکرم کے پاس 16 بکریاں ہیں۔
اس نے 5 بکریاں بیچ دیں۔
اب اکرم کے پاس کتنی بکریاں ہیں؟

21

11

12

(iv) احمد کو عید پر 120 روپے اور اشعر کو 130 روپے عید کی ملی۔ دونوں کے پاس کتنی عید کی ہے؟

250

230

220

(iii) ثانیہ کے پاس 300 روپے ہیں۔
وہ 200 روپے کی کتابیں خرید سکتی ہے۔
اب ثانیہ کے پاس کتنے روپے ہیں؟

100

200

300

(vi) اجمل نے سو سو روپے کو 70 سوٹ بیچے
اور منگل کو 50 سوٹ بیچے۔
اجمل نے دونوں دنوں میں کل کتنے سوٹ بیچے؟

125

120

115

(v) ہارنے ریاضی میں 100 اور
سائنس میں 80 نمبر لائے۔
ہارنے کے حاصل کردہ کل نمبر کتنے ہیں؟

180

20

200

(viii) ایک ہال میں 75 افراد ہیں۔
25 افراد حریا آئے ہیں۔
اب ہال میں کل کتنے افراد ہیں؟

110

100

50

(vii) عامر کے پاس 20 کڑی بنائیں ہیں۔
وہ 15 اور بنائیں خریدتا ہے۔
اب عامر کے پاس کتنی بنائیں ہیں؟

5

30

35

(x) ایک درخت پر 30 پرندے بیٹھے ہیں۔
23 پرندے اڑ جاتے ہیں۔
باقی کتنے پرندے درخت پر بیٹھے ہیں؟

53

7

17

(ix) حامد کے پاس 75 سکہ ہیں۔
وہ 25 سکہ اپنے بھائی کو دے دیتا ہے۔
اب حامد کے پاس کتنے سکہ ہیں؟

25

50

100



سادہ جملہ	فعل ماضی	فعل مستقبل
میں اندر کھاتا ہوں	میں نے اندر کھایا	میں اندر کھاؤں گا
میں بڑوں کو سلام کرتا ہوں	میں نے بڑوں کو سلام کیا	میں بڑوں کو سلام کروں گا
ہم کرکٹ کھیلتے ہیں	ہم نے کرکٹ کھیلی	ہم کرکٹ کھیلیں گے
مالی پودوں کو پانی دیتا ہے	مالی نے پودوں کو پانی دیا	مالی پودوں کو پانی دے گا
امی چائے پیتا ہے	امی نے چائے پیا	امی چائے پئے گا
علی ریل پر لاہور جاتا ہے	علی ریل پر لاہور گیا	علی ریل پر لاہور جائے گا
کھانا گرم ہے	کھانا گرم تھا	کھانا گرم ہو گا
میں کہانی لکھتا ہوں	میں نے کہانی لکھی	میں کہانی لکھوں گا
آسمان پر بادل ہیں	آسمان پر بادل تھے	آسمان پر بادل ہوں گے
میں ورزش کرتا ہوں	میں نے ورزش کی	میں ورزش کروں گا
ہم گاؤں میں رہتے ہیں	ہم گاؤں میں رہے	ہم گاؤں میں رہیں گے
شہر میں بہت ٹریفک ہے	شہر میں بہت ٹریفک تھی	شہر میں بہت ٹریفک ہو گی
شیر آرام کر رہا ہے	شیر آرام کر رہا تھا	شیر آرام کر رہا ہو گا
کتاب میز پر ہے	کتاب میز پر تھی	کتاب میز پر ہو گی

Solve real life problems involving addition.

روزمرہ زندگی میں جمع سے متعلق سوالات کا حل۔

ٹماہ کے پاس 10 پینسلین ہیں وہ مزید 4 پینسلین خریدتی ہے
اب اس کے پاس کتنی پینسلین ہیں؟

24 14 6

اس کے پاس 20 لٹراں ہیں اس کی بچہ اسے مزید 5 لٹراں دیتی ہے
اس کے پاس کل کتنی لٹراں ہو گئیں؟

15 20 25

ایک سکول میں 300 لڑکے اور 200 لڑکیاں ہیں
سکول میں کل کتنے طلباء ہیں؟

100 400 500

ایک باغ میں 30 پودے امرود اور 50 پودے آم کے ہیں
باغ میں کتنے پودے ہیں؟

70 80 20

ایک سکول میں 20 بچے کمرے اور 10 پائے کمرے ہیں
کل کتنے کمرے ہیں؟

30 10 200

ایک ہوٹل میں 20 ملازم کام کرتے ہیں ہوٹل
کا مالک 15 ملازم اور رکھ لیتا ہے
ہوٹل میں کل کتنے ملازم ہیں؟

25 5 35

موٹر سائیکل کے شوروم میں 30 نئے موٹر سائیکل ہیں
مزید 120 موٹر سائیکل آتے ہیں
کل کتنے موٹر سائیکل ہیں؟

90 150 140

بچہ کے پاس 20 چاک ہیں وہ مزید 100 چاک خریدتے ہیں
اب بچہ کے پاس کل کتنے چاک ہیں؟

120 130 80

ماجد کی ریڑھی پر 57 سیب اور 41 مالٹے ہیں
اس کی ریڑھی پر کل کتنے پھل ہیں؟

90 98 100

کھانڈار کے پاس 380 بچے ہیں وہ مزید 500 بچے خریدتا ہے
کھانڈار کے پاس کل کتنے بچے ہیں؟

220 980 880



ایک درزی نے منگل کے دن 20 سوٹ اور بدھ کے دن 15 سوٹ سینے درزی نے کل کتنے سوٹ سینے؟	ڈاکٹر صاحب نے 20 تاریخ کو 9 آپریشن کیے اور 21 تاریخ کو 8 آپریشن کیے کل کتنے آپریشن کیے؟
15 سوٹ 35 سوٹ 20 سوٹ	15 16 17
ایک ڈرائیور نے دن کو 200 کلومیٹر اور رات کو 300 کلومیٹر سفر طے کیا ڈرائیور نے کل کتنا سفر طے کیا؟	کسان نے ایک کھیت سے 60 من گندم اور دوسرے کھیت سے 40 من گندم حاصل کی کل کتنی گندم حاصل کی؟
200 کلومیٹر 300 کلومیٹر 500 کلومیٹر	20 من 100 من 140 من
احمد نے ایک ٹی وی دس ہزار میں خریدا اور آٹھ ہزار میں بیچ دیا احمد کو کتنی رقم کم ملی؟	بڑھئی نے ایک کرسی 4 گھنٹے اور دوسری کرسی 5 گھنٹے میں بنائی۔ کل کتنا وقت لگا؟
2000 روپے 8000 روپے 6000 روپے	5 گھنٹے 7 گھنٹے 9 گھنٹے
اگر ایک مٹی روزانہ 1 کلو دودھ پیئے تو ایک دن میں کتنا دودھ پیئے گی؟	ایک مزدور روزانہ 500 روپے کماتا ہے 2 دن میں کتنے روپے کمائے گا؟
1 کلو 2 کلو 3 کلو	1000 روپے 1500 روپے 500 روپے
مسجد میں 10 نمازی جماعت ادا کر رہے ہیں 5 مزید نمازی آکر شامل ہو جاتے ہیں مسجد میں کل کتنے نمازی ہیں؟	ایک تالاب میں 5 ہاتھی نہا رہے ہیں 6 ہاتھی اور آکر تالاب میں نہاتے ہیں کل کتنے ہاتھی نہا رہے ہیں؟
5 نمازی 15 نمازی 20 نمازی	4 ہاتھی 1 ہاتھی 11 ہاتھی



SLO : Addition, subtraction of length mass and capacity

28

خلیل کا دفتر گھر سے 9 کلو میٹر دور ہے اور اسکے دوست کا گھر دفتر سے 5 کلو میٹر دور ہے خلیل دوست کے گھر جانے میں کتنا فاصلہ طے کرے گا؟

14 کلو میٹر

10 کلو میٹر

13 کلو میٹر

ایک دوکاندار نے 40 میٹر کپڑے کے تھان سے 15 میٹر کپڑا بیچا ہے۔ دوکاندار کے پاس باقی کتنا کپڑا بیچا؟

55 میٹر

25 میٹر

30 میٹر

اجمل گوالے سے روزانہ 3 لیٹر دودھ لیتا ہے 10 دن میں اجمل کتنے لیٹر دودھ لے گا

30 لیٹر

20 لیٹر

10 لیٹر

قاسم نے 5 کلو آم خریدے قاسم نے ان میں سے 2 کلو چھوٹے آم الگ کر لیے بڑے آموں کا وزن کیا ہوگا؟

4 کلو

3 کلو

2 کلو

ایک پانی کی ٹینکی میں 400 لیٹر پانی ہے اگر اس میں 250 لیٹر پانی اور ڈالا جائے تو ٹینکی میں کل کتنا پانی ہوگا؟

300 لیٹر

450 لیٹر

650 لیٹر

ALMOST MEA TAB QUESTIONS

Version 1-12





ایس ایل او: ایک ہندسی عدد کی ایک ہندسی عدد سے تقسیم و تفریق

1

$4 \div 2$	$9 \div 3$	$8 \div 2$
2 1 4	9 1 3	4 2 3
$6 \div 6$	$6 \div 3$	$4 \div 4$
3 6 1	3 2 6	1 2 4
$5 \div 1$	$8 \div 4$	$8 \div 8$
1 4 5	2 3 8	1 2 3
$3 \div 1$	$3 \div 3$	$5 \div 5$
3 2 1	6 9 1	5 1 2
$6 - 2$	$8 - 3$	$9 - 6$
4 2 3	4 5 6	2 3 4
$5 - 4$	$6 - 3$	$7 - 6$
1 2 3	2 3 4	2 3 1
$9 - 9$	$2 - 1$	$1 - 0$
1 2 0	2 1 3	0 1 2
$5 - 4$	$7 - 4$	$8 - 3$
2 3 1	3 4 2	5 6 3

دو حرفی

..... = ک+ن = ل+ج = ت+پ
..... = ج+ژ = م+ن = ل+م
..... = ت+و = ف+ن = س+پ
..... = ش+ر = ک+ل = ل+گ
..... = ج+ن = ج+گ = م+ک
..... = چ+پ = گ+م = ن+س
..... = گھ+ی = ح+ل = ج+م
..... = گھ+ر = س+ج = پ+س
..... = پھ+ل = پ+ن = ج+ل
..... = ٹھ+گ = گھ+ٹ = بھ+ی

تین حرفی

..... = س+ف+ر = کھ+ل = ک+س+ے
..... = ج+ن+گ = پھ+ی+ل = س+خ+ت
..... = ی+ا+و = گھ+ا+ٹ = ق+ل+م
..... = پ+ہ+ل = گھ+ژ+ی = ش+و+ق
..... = ڈ+پ+ہ = گھ+ژ+ا = س+ز+ا

Real life problems involving same units of length, mass and capacity.

23

ایک بس نے ایک سٹاپ سے دوسرے سٹاپ تک 9 کلومیٹر کا فاصلہ طے کیا جبکہ دوسرے سٹاپ سے تیسرے سٹاپ تک 14 کلومیٹر کا فاصلہ طے کیا بس نے کل کتنا فاصلہ طے کیا؟

108

24

23

ایک درزی نے ٹینٹ بنانے کے لئے 9 میٹر کپڑا استعمال کیا اور دوسرا ٹینٹ بنانے کے لئے 17 میٹر کپڑا استعمال کیا اس نے کل کتنا کپڑا استعمال کیا؟

26

153

8

ایک دوکاندار کے پاس 28 کلوگرام آلو ہیں اگر وہ 7 کلوگرام آلو فروخت کر دیتا ہے تو اس کے پاس کتنے آلو باقی بچے؟

21

35

4

عبداللہ 5 کلوگرام چینی خریدتا ہے اور 12 کلوگرام آٹا خریدتا ہے چینی اور آٹے کا کل وزن کتنا ہوگا؟

60

17

7

اکرم 12 کلوگرام چینی خریدتا ہے 6 کلوگرام چینی وہ ایک بنانے کے لئے استعمال کرتا ہے اب اس کے پاس کتنی چینی باقی بچے گی؟

6

18

2

ایک ہوائی جہاز نے کراچی سے اسلام آباد تک دو گھنٹے میں سفر طے کیا اور اسلام آباد سے لاہور تک ڈیڑھ گھنٹے میں سفر طے کیا ہوائی جہاز نے کل کتنے وقت میں سفر طے کیا؟

3½ گھنٹے

2½ گھنٹے

1½ گھنٹے

نوید کے پاس گیارہ مچھلیاں ہیں، وہ 9 مچھلیاں فروخت کر دیتا ہے اس کے پاس کتنی مچھلیاں ہیں؟	11	9	2
علی کے پاس 13 بسکٹس ہیں 5 بسکٹس وہ کھاتا ہے باقی علی کے پاس کتنے بسکٹس ہیں؟	5	8	13
ایک ہوٹل میں بڑوں کے لیے 100 کرسیاں اور بچوں کے لیے 20 کرسیاں ہیں، ہوٹل میں کل کتنی کرسیاں ہیں؟	80	120	100
برگر کی دوکان میں 5 برگر تھے، گاہک نے 2 برگر خریدے باقی کتنے برگر ہیں؟	2	1	3
امتحالی ہال میں کرسیوں کی 30 لائنیں ہیں ہر لائن میں 5 کرسیاں ہیں کل کتنی کرسیاں ہیں؟	35	200	150
اکبر کے پاس 20 سیب ہیں وہ پانچ دوستوں میں برابر تقسیم کرتا ہے ہر دوست کو کتنے سیب ملے؟	4	20	15
زویب ایک درجن کیلے خریدتا ہے، وہ 6 کیلے دوست کو دیتا ہے اس کے پاس باقی کتنے کیلے ہیں؟	6	8	12
ایک فوٹو گرافر ایک منٹ میں ایک تصویر ناتا ہے 20 منٹ میں کتنی تصویریں بنائے گا؟	20	15	10
شیر ہر گھنٹے بعد ایک گلاس پانی پیتا ہے 5 گھنٹوں میں کتنے گلاس پانی پیے گا؟	6	5	3
ایک ٹرین میں 400 مسافر ہیں ایک اسٹیشن پر 90 مسافر اتر جاتے ہیں ٹرین میں باقی کتنے مسافر ہیں	310	410	490
عمران کے پاس 30 کلر پنسلیں ہیں وہ انہیں 10 دوستوں میں برابر تقسیم کر دیتا ہے ہر دوست کو کتنی پنسلیں ملیں گی	3	4	5

<p>A lion lives in jungle. Jungle is full of trees. He eats meat. What does lion eat?</p>			<p>Boys play in the garden. They play badminton. They play in the evening. Where did children play?</p>		
Meat	Grass	Tree	Evening	Badminton	Garden
<p>Aslam lives in a city. He goes to school. He wants to become a teacher. Where does Aslam live?</p>			<p>I have a toy. Its colour is white. I play with it. What do I play with?</p>		
School	Village	City	White	Toy	Shop
<p>My favourite fruit is mango. It is yellow in colour. It is very sweet. What is the colour of mango?</p>			<p>Fluffy is a cat. She plays with the ball. Fluffy jumps very high. What does cat play with?</p>		
Green	Yellow	Red	Fluffy	Ball	Jump
<p>Farhan and Ahsan are friends. Farhan lives in Karachi. Karachi is a big city. Which is big city?</p>			<p>I have a cat. Her eyes are blue. She drinks milk. Who drinks milk?</p>		
Farhan	Karachi	Ahsan	Cat	Eyes	Blue
<p>Amir goes to Murree. He rides chairlift. He enjoys very much. Where does Amir go?</p>			<p>It is 5`O Clock. Sun is rising. Sun is red. What is red?</p>		
Murree	Chairlift	Enjoy	Clock	Morning	Sun

درست ترتیب کے جملوں کی نشاندہی کریں۔

ہم نے لگائے درخت	ہم نے درخت لگائے	لگائے ہم نے درخت	1
ابو نے کار خریدی	ابو نے خریدی کار	کار ابو نے خریدی	2
کھایا ہرن شیر نے	ہرن شیر نے کھایا	شیر نے ہرن کھایا	3
اتارتا ہے جہاز پائلٹ	جہاز پائلٹ اتارتا ہے	پائلٹ جہاز اتارتا ہے	4
بنایا مکان مستری نے	مستری نے مکان بنایا	مکان بنایا مستری نے	5
احمد سکول جاتا ہے	سکول احمد جاتا ہے	سکول جاتا ہے احمد	6
حامد جائے سکول گا	حامد سکول جائے گا	حامد گا سکول جائے	7
ہوگا کل جمعہ	جمعہ ہوگا کل	کل جمعہ ہوگا	8
چھلی تیرتی ہے پانی میں	چھلی پانی میں تیرتی ہے	تیرتی ہے چھلی پانی میں	9
دکاندار بچل رہا ہے	بچل رہا ہے دکاندار بچل	دکاندار بچل رہا ہے	10
استاد ریاضی پڑھا رہے ہیں	ریاضی استاد پڑھا رہے ہیں	استاد ریاضی پڑھا رہے ہیں	11
امی پکا رہی ہیں کھانا	پکا رہی ہیں امی کھانا	امی کھانا پکا رہی ہیں	12
کاشف نے خط لکھا	خط لکھا کاشف نے	کاشف نے خط لکھا	13
پانی میں پیتا ہوں	پانی پیتا ہوں میں	میں پانی پیتا ہوں	14
بچہ کھلونا توڑتا ہے	کھلونا بچہ توڑتا ہے	بچہ توڑتا ہے کھلونا	15

SLO

دو ہندسی اعداد کی ایک ہندسی عدد سے ضرب

2

Multiply 2 digit number with one digit number.

$$\begin{array}{r} \textcircled{1} \quad 24 \\ \times \quad 2 \\ \hline \end{array}$$

$$\begin{array}{r} \textcircled{2} \quad 11 \\ \times \quad 6 \\ \hline \end{array}$$

$$\begin{array}{r} \textcircled{3} \quad 19 \\ \times \quad 1 \\ \hline \end{array}$$

84

48

40

66

60

76

29

91

19

$$\begin{array}{r} \textcircled{4} \quad 43 \\ \times \quad 2 \\ \hline \end{array}$$

$$\begin{array}{r} \textcircled{5} \quad 10 \\ \times \quad 3 \\ \hline \end{array}$$

$$\begin{array}{r} \textcircled{6} \quad 32 \\ \times \quad 4 \\ \hline \end{array}$$

68

80

86

103

30

300

128

182

120

$$\begin{array}{r} \textcircled{7} \quad 33 \\ \times \quad 3 \\ \hline \end{array}$$

$$\begin{array}{r} \textcircled{8} \quad 25 \\ \times \quad 5 \\ \hline \end{array}$$

$$\begin{array}{r} \textcircled{9} \quad 31 \\ \times \quad 7 \\ \hline \end{array}$$

100

99

91

225

325

125

317

217

117

⑪ ایک ہوٹل میں 14 کمرے ہیں۔
ہر کمرے میں 6 لوگ موجود ہیں۔
ہوٹل میں کل کتنے لوگ ہیں؟

⑩ راجہ کے پاس 12 ڈبے ہیں۔
وہ ہر ڈبے میں 8 بنیاں رکھتی ہے۔
راجہ کے پاس کل کتنی بنیاں ہیں؟

8

84

20

96

20

4

⑬ آمبہ کے پاس 10 فوکریاں ہیں۔
اس نے ہر فوکری میں 3 اظے رکھے۔
آمبہ کے پاس کل کتنے اظے ہیں۔

⑫ ایک باغ میں 15 درخت ہیں۔
ہر درخت پر 2 پرندے بیٹھے ہیں۔
باغ میں کل کتنے پرندے ہیں؟

13

7

30

30

17

13

Sarim works in a shop. He works there for 8 hours. He sells clothes. What does Sarim sell?

Shoes Biscuits Clothes

An elephant has four legs. It like sugarcane. It has a trunk. What does elephant like?

Gram Sugarcane Meet

My school has 10 rooms. It has one canteen. It has a computer lab. How many rooms are there in the school?

20 12 10

Nargis has 12 dolls. She gives 5 dolls to her sister. They play with dolls. How many dolls Nargis gave to her sister?

10 5 15

Fiza goes bazar with her family. Her father buys shoes. Her mother buys clothes. Who buys clothes?

Father Mother Fiza

Nafeesa has three brothers. Their names are Ali, Arif and Subhan. Subhan is the youngest. Who is the youngest?

Ali Arif Subhan

Ali has a parrot, a duck and a hen. Parrot name is bunty. They play together. What is the name of parrot?

Bunty Flify Roomi

Rani is a fish. She lives in river with her sister Reen. They eat gram. What is the name of Rani's sister?

Rani Reen Fish

Sania is cooking rice. Her mother is cleaning sofa. Her brother is helping mother. What is Sania's mother cleaning?

Chair Sofa Table

Akram lives in Gujrat. He is going to visit his uncle in Lahore. They will go to the park for picnic. Where does Akram live?

Gujrat Lahore Park

حروف اضافت: کا، کی، کے

کا	کی	کے	تانیہ۔۔۔۔۔ قلم میرے پاس ہے۔
کا	کی	کے	میں نے ریاضی۔۔۔۔۔ کام مکمل کر لیا ہے۔
کا	کی	کے	نعمان۔۔۔۔۔ بہن جماعت سوم میں پڑھتی ہے۔
کا	کی	کے	استانی صاحبہ۔۔۔۔۔ کرسی کہاں ہے؟
کا	کی	کے	عمیر۔۔۔۔۔ انگلی میں دروہور ہا ہے۔
کا	کی	کے	معاذ۔۔۔۔۔ بلاگم ہو گیا ہے۔
کا	کی	کے	بلی۔۔۔۔۔ بچہ شور کر رہا ہے۔
کا	کی	کے	بلال۔۔۔۔۔ قمیص استری کرو۔
کا	کی	کے	آمنہ۔۔۔۔۔ بھائی دوڑ رہا ہے۔
کا	کی	کے	وسیم۔۔۔۔۔ فٹ بال ٹیم اچھی ہے۔
کا	کی	کے	جہانگیر۔۔۔۔۔ گھر شادی ہے۔
کا	کی	کے	عمیر۔۔۔۔۔ دانت میں دروہ ہے۔
کا	کی	کے	افضل۔۔۔۔۔ گھر نیا ہے۔
کا	کی	کے	فیصل۔۔۔۔۔ قمیص پھول دار ہے۔
کا	کی	کے	رضا۔۔۔۔۔ موبائل خراب ہو گیا ہے۔
کا	کی	کے	حامد نے اٹھویں۔۔۔۔۔ امتحان پاس کر لیا ہے۔

Differentiate between even and odd number

3

$\begin{array}{r} 1 \\ 2 \overline{) 2} \\ \underline{2} \\ 0 \end{array}$ Even	$\begin{array}{r} 1 \\ 2 \overline{) 3} \\ \underline{2} \\ 1 \end{array}$ Odd	$\begin{array}{r} 2 \\ 2 \overline{) 4} \\ \underline{4} \\ 0 \end{array}$ Even	$\begin{array}{r} 2 \\ 2 \overline{) 5} \\ \underline{4} \\ 1 \end{array}$ Odd	$\begin{array}{r} 3 \\ 2 \overline{) 6} \\ \underline{6} \\ 0 \end{array}$ Even	$\begin{array}{r} 3 \\ 2 \overline{) 7} \\ \underline{6} \\ 1 \end{array}$ Odd	$\begin{array}{r} 4 \\ 2 \overline{) 8} \\ \underline{8} \\ 0 \end{array}$ Even
---	--	---	--	---	--	---

چپ کوئی عدد پر پورا تقسیم ہو جائے تو یہ عدد زوجت (Even) ہے
اور چپ کوئی عدد پر پورا تقسیم نہ ہو اور کچھ باقی بچ جائے تو یہ عدد طاق (Odd) ہے

عدد 45 ہے	عدد 35 ہے	عدد 10 ہے
<input type="checkbox"/> odd طاق	<input type="checkbox"/> even زوجت	<input type="checkbox"/> odd طاق
<input type="checkbox"/> even زوجت	<input type="checkbox"/> odd طاق	<input type="checkbox"/> even زوجت
عدد 47 ہے	عدد 32 ہے	عدد 9 ہے
<input type="checkbox"/> odd طاق	<input type="checkbox"/> even زوجت	<input type="checkbox"/> odd طاق
<input type="checkbox"/> even زوجت	<input type="checkbox"/> odd طاق	<input type="checkbox"/> even زوجت
عدد 48 ہے	عدد 31 ہے	عدد 7 ہے
<input type="checkbox"/> odd طاق	<input type="checkbox"/> even زوجت	<input type="checkbox"/> odd طاق
<input type="checkbox"/> even زوجت	<input type="checkbox"/> odd طاق	<input type="checkbox"/> even زوجت
عدد 49 ہے	عدد 3 ہے	عدد 11 ہے
<input type="checkbox"/> odd طاق	<input type="checkbox"/> even زوجت	<input type="checkbox"/> odd طاق
<input type="checkbox"/> even زوجت	<input type="checkbox"/> odd طاق	<input type="checkbox"/> even زوجت
عدد 50 ہے	عدد 40 ہے	عدد 23 ہے
<input type="checkbox"/> odd طاق	<input type="checkbox"/> even زوجت	<input type="checkbox"/> odd طاق
<input type="checkbox"/> even زوجت	<input type="checkbox"/> odd طاق	<input type="checkbox"/> even زوجت
عدد 51 ہے	عدد 41 ہے	عدد 20 ہے
<input type="checkbox"/> odd طاق	<input type="checkbox"/> even زوجت	<input type="checkbox"/> odd طاق
<input type="checkbox"/> even زوجت	<input type="checkbox"/> odd طاق	<input type="checkbox"/> even زوجت
عدد 52 ہے	عدد 42 ہے	عدد 5 ہے
<input type="checkbox"/> odd طاق	<input type="checkbox"/> even زوجت	<input type="checkbox"/> odd طاق
<input type="checkbox"/> even زوجت	<input type="checkbox"/> odd طاق	<input type="checkbox"/> even زوجت
عدد 53 ہے	عدد 43 ہے	عدد 50 ہے
<input type="checkbox"/> odd طاق	<input type="checkbox"/> even زوجت	<input type="checkbox"/> odd طاق
<input type="checkbox"/> even زوجت	<input type="checkbox"/> odd طاق	<input type="checkbox"/> even زوجت

(i) عمیر تیسری کلاس میں ہے۔ وہ اگلے سال چوتھی کلاس میں ہو جائے گا۔ عمیر پڑھائی میں محنت کرتا ہے۔

عمیر کس کلاس میں ہے؟

سکول

چوتھی

تیسری

(ii) ماریہ کے ابو کار پر دفتر جاتے ہیں۔ ماریہ دو زائد کتب پر سکول جاتی ہے۔ امی گھر پر رہتی ہیں۔

رکتہ پر کون جاتا ہے؟

امی

ماریہ

ابو

(iii) ارشد علیج پارک میں گیا۔ پارک میں درختوں پر گھونسلے ہیں۔ ارشد نے گے ہوئے گھونسلے کو دوبارہ درخت پر دکھایا۔

ارشد نے درختوں پر کیا دیکھے؟

گھونسلے

بچے

پتے

(iv) علی کو کرکٹ بہت پسند ہے۔ علی کو اس کے ماموں نے ایک گیند اور بلا تھپے میں دیا۔ علی خوشی سے کھیلتا ہے۔

علی کو ماموں نے تھپے میں کیا دیا؟

گیند اور بلا

بلا

گیند

(v) آج بہتی کے زیادہ لوگ میں ہیں۔ کسان فصل کاٹ رہے ہیں۔ زاہد پانی پلا رہا ہے۔ عامر کھانا کھا رہا ہے۔

پانی کون پلا رہا ہے؟

لوگ

زاہد

عامر

(vi) آج شیر کی سالگرہ ہے۔ اس کی خال نے اس کو تھپے میں گھڑی دی۔ بچانے تھپے میں سوٹ دیا۔ ابو نے ایک ہوا دیا۔

بچانے شیر کو تھپے میں کیا دیا؟

سوٹ

کیک

گھڑی

(vii) تھوڑوں کی ملک بہت سے اٹھ رہتی ہے۔ کارکن تھوڑوں کا تاج کرتی ہیں۔ ٹھنی تھوڑوں کی ساف دکھتی ہیں۔

اٹھ زیادہ کون دیتی ہے؟

ملکہ

کارکن

ٹھنی

(viii) جہانزیب کو کتابیں پڑھنے کا بہت شوق ہے۔ وہ پہلے تصویریں دیکھتا ہے پھر پڑھتا ہے۔

جہانزیب پہلے کیا دیکھتا ہے؟

حرف

تصویریں

کتاب

(ix) عمیرہ کو ریاضی کا مضمون پسند ہے۔ لیکن راشدہ کو انگلش پسند ہے۔ دونوں ایک دوسرے کی مدد کرتی ہیں۔

انگلش کسے پسند ہے؟

دونوں کو

راشدہ کو

عمیرہ کو

(x) خرم کے چچا استاد ہیں۔ وہ چوتھی جماعت کو پڑھاتے ہیں۔ وہ اردو پڑھاتے ہیں۔

خرم کے چچا کس کلاس کو پڑھاتے ہیں؟

تیسری

پانچویں

چوتھی

نوٹ: کم از کم 20 بکس کا آرڈر بھیجا جائے گا۔

اس کتاب کی سافٹ فارم آپ دیکھ رہے ہیں

اور یجنل فائل ہمارا پرسنل ڈیٹا ہے فوٹو سٹیٹ بزنس مالکان

سافٹ فارم میں اور یجنل فائل کے لئے کال نہ کریں

شکر یہ

29	19	39	ظہیل کے پاس 18 گائے ہیں وہ 11 گائے اور خریدتا ہے اب اس کے پاس کتنی گائے ہیں؟
100	200	300	دکاندار کے پاس کوئی مرئی نہیں ہے وہ 100 مرئی خریدتا ہے اب دکاندار کے پاس کتنی مرئیاں ہیں؟
0	10	35	رضوان کے پاس 7 پاکیٹ ہیں 7 پاکیٹ دوستوں میں اور بچا ہے اب اس کے پاس کتنی پاکیٹ ہیں؟
20	15	35	تیسری کلاس میں 20 لڑکے اور 15 لڑکیاں ہیں کل کتنے بچے ہیں؟
1	2	3	نواز کے پاس 3 کاریں ہیں وہ ایک کار بیچ دیتا ہے اب اس کے پاس کتنی کاریں ہیں؟
100	150	200	ظفر کے پاس 100 روپے ہیں اس کو پچھلے 50 روپے انعام دیئے ہیں اب ظفر کے پاس کتنے پیسے ہیں؟
0	1	2	مسجد کے ہال میں 22 پچھلے اور صحن میں 21 پچھلے ہیں کل کتنے پچھلے ہیں؟
100	120	220	ہوٹل میں 120 گچھے ہیں۔ ہوٹل مالک نے 100 گچھے اور لیتا ہے اب ہوٹل مالک کے پاس کتنے گچھے ہیں؟
170	160	90	طی کے اردو میں 80 اور انگلش میں 90 نمبر آتے ہیں کل کتنے نمبر ہیں؟
27	7	17	ایک درخت پر 17 پرندے ہیں 10 اڑ جاتے ہیں باقی کتنے پرندے ہیں؟
20	25	30	ایک نوکری میں 15 سیب اور 15 مالٹے ہیں کل کتنے پھل ہیں؟
10	20	30	حنان کے پاس 30 روپے ہیں وہ 10 روپے خرچ کرتا ہے اب اس کے پاس کتنے روپے باقی ہیں؟
7	8	9	کامران کے پاس 12 کڑھنسلیم ہیں وہ 5 کڑھنسلیم خرچ کرتا ہے اب کامران کے پاس کتنی کڑھنسلیم ہیں؟
8	20	10	مرقان کے پاس 8 ٹوٹ بکس ہیں وہ 14 اور خریدتا ہے اب مرقان کے پاس کتنی ٹوٹ بکس ہیں؟
25	15	10	بارغ میں 15 پودے ہیں مانی 10 پودے اور لگاتا ہے اب بارغ میں کتنے پودے ہیں؟

جملے کی ساخت میں زمانہ کی تبدیلی ہے ، تھا ، ہوگا سے کر کے

بارش ہو رہی ہے کا فعل ماضی ہے

بارش ہو رہی تھی

بارش ہو رہی ہوگی

بارش ہو رہی ہے

حاصم کرکٹ کھیلے گا کا فعل حال ہے

کیا حاصم کرکٹ کھیلتا ہے

حاصم کرکٹ کھیلتا ہے

حاصم کرکٹ کھیلتا تھا

ناویڈیڈا کٹر بنے گی کا فعل ماضی ہے

ناویڈیڈا کٹر ہے

ناویڈیڈا کٹر بن رہی تھی

ناویڈیڈا کٹر بنی تھی

حاصم نے بیچہ دیا تھا کا فعل حال ہے

حاصم نے بیچہ دیا ہے

حاصم بیچہ دے گی

حاصم نے بیچہ دیا تھا

ہم سمندر کی سیر کو جائیں گے کا فعل حال ہے

ہم سمندر کی سیر کو گئے تھے

ہم سمندر کی سیر کو جائیں گے

ہم سمندر کی سیر کو جاتے ہیں

یہ کار تیز چلتی ہے کا فعل ماضی ہے

یہ کار تیز چلی ہے

یہ کار تیز چلتی تھی

یہ کار تیز چلے گی

کل بارش ہوگی کا فعل ماضی ہے

کل بارش ہوئی ہے

کل بارش ہوگی

کل بارش ہوئی تھی

Three digit addition with borrow

⑥

$$\begin{array}{r} 277 \\ + 136 \\ \hline \end{array}$$

417 303 413

$$\begin{array}{r} 382 \\ + 127 \\ \hline \end{array}$$

509 409 503

$$\begin{array}{r} 160 \\ + 742 \\ \hline \end{array}$$

902 903 904

$$\begin{array}{r} 150 \\ + 458 \\ \hline \end{array}$$

806 608 708

$$\begin{array}{r} 453 \\ + 396 \\ \hline \end{array}$$

852 552 849

$$\begin{array}{r} 267 \\ + 482 \\ \hline \end{array}$$

725 852 749

$$\begin{array}{r} 351 \\ + 463 \\ \hline \end{array}$$

817 814 712

$$\begin{array}{r} 460 \\ + 182 \\ \hline \end{array}$$

552 654 642

$$\begin{array}{r} 190 \\ + 693 \\ \hline \end{array}$$

658 833 883

$$\begin{array}{r} 553 \\ + 678 \\ \hline \end{array}$$

1229 1231 1429

$$\begin{array}{r} 148 \\ + 458 \\ \hline \end{array}$$

606 608 508

$$\begin{array}{r} 729 \\ + 852 \\ \hline \end{array}$$

1581 1451 1482

$$\begin{array}{r} 476 \\ + 658 \\ \hline \end{array}$$

1232 1134 1239

$$\begin{array}{r} 465 \\ + 389 \\ \hline \end{array}$$

552 854 752

$$\begin{array}{r} 981 \\ + 132 \\ \hline \end{array}$$

1232 1113 1313

اسم کی شناخت کر کے مندرجہ ذیل جملے میں اسم شناخت کریں

اسم نام کو کہتے ہیں، آپ کا نام اسم ہے، آپ کے ابو کا نام اسم ہے، آپ کی گلی، چالٹو جانور، مکان اسم ہیں
خالد سکول جاتا ہے، بچہ دودھ پیتا ہے، زمین گول ہے آسمان نیلا ہے خالد بچہ، زمین، آسمان اسم ہیں

ابو نماز پڑھتے ہیں			کپڑے پہن رہا ہے		
پڑھتے	ابو	نماز	پہن	پہن	کپڑے
ہاتھی مجھے پڑھاتی ہے			کسان مل چلاتا ہے		
مجھے	ہاتھی	پڑھاتی	چلاتا	مل	کسان
میرے کان میں درد ہے			ڈرائیور گاڑی چلاتا ہے		
میرے	درد	کان	ڈرائیور	چلاتا	گاڑی
یہ میری کتاب ہے			اس کا بستہ نیلا ہے		
یہ	میری	کتاب	بستہ	اس	نیلا
گاڑی تیز چلتی ہے			میرا گھر خوبصورت ہے		
چلتی	گاڑی	تیز	میرا	گھر	خوبصورت
قائد اعظم ہمارے رہنما ہیں			عقاب اونچا اڑتا ہے		
ہمارے	قائد اعظم	رہنما	اڑتا	عقاب	اونچا
پانی میٹھا ہے			بازار میں رش ہے		
پانی	میٹھا	ہے	میں	بازار	رش
سی کیگی ہے			دودھ ٹھنڈا ہے		
سی	ہے	کیگی	دودھ	ٹھنڈا	ہے

Identify The Proper Noun

Amir is a nice boy .

Amir

Nice

Boy

Identify The Proper Noun

I Live In Lahore.

I

Live

Lahore

Identify The Proper Noun

**My country is
pakistan.**

My

Country

Pakistan

Identify The Proper Noun

**Ali is a reading a
book.**

Ali

Reading

Book

Identify The Proper Noun

**I saw
minar-e-Pakistan.**

I

Saw

Minar e pak

Identify The Proper Noun

I like apple.

Apple

I

Like

Identify The Proper Noun

I like winter.

Winter

I

Like

Identify The Proper Noun

**I go to school in
August.**

Go to

School

August

Identify The Proper Noun

I walk in Hill park.

Walk

In

Hillpark

Identify The Proper Noun

**School is open in
january.**

School

Open

January

مونت	ذکر	مونت	ذکر
بیٹی	بیٹا	ملکہ	بادشاہ
بھتیجی	بھتیجا	مکڑی	مکڑا
پھوپھی	پھوپھا	ماں	باپ
نواسی	نواسا	چیونٹی	چیونٹا
بھانجی	بھانجا	بکری	بکرا
پوتی	پوتا	مرغی	مرغا
استانی	استاد	گدھی	گدھا
نانی	نانا	ہرنی	ہرن
دادی	دادا	چوہیا	چوہا
خالہ	خالو	گائے	بیل
رانی	راجہ	ہتھنی	ہاتھی
پڑھیا	پڑھا	گھوڑی	گھوڑا
ممائی	ماموں	کتیا	کتا
بہو	داماد	شیرنی	شیر
ساس	سر	مورنی	مور

Mathematics SLO (Four digit addition) چار ہندسی جمع

1	4569 $+2350$	2	3264 $+4321$
	6919 6819 6810		3411 7585 6585
3	4565 $+1555$	4	6768 $+5432$
	6120 6020 5920		10200 11200 12200
5	7585 $+4825$	6	9509 $+1350$
	12310 12410 12000		10859 10800 9859
7	2593 $+1254$	8	4993 $+2117$
	3847 3647 3747		7110 7010 6910
9	1500 $+2050$	10	8800 $+7359$
	3550 2550 3500		12159 14159 15159
11	1869 $+2231$	12	2547 $+2613$
	4100 4000 3900		5150 5140 5160

English SLO Comprehension

- 1 Asif is eating burger. His favourite food is sandwich. He does not eat candies. What is Asif eating?

burger

sandwich

burger

- 2 Ali studies Lahore. His parents live in Multan. He will go to Islamabad next year. Where will Atif go next year?

Lahore

Islamabad

Multan

- 3 Saad, Jamil and Ali are best friends. Ali writes poems and draw pictures. Saad loves his pictures and jamil likes his poems. Who writes poems?

Jamil

Saad

Ali

- 4 Maria is ten years old. She has a sister and brother. Her sister is eight years old. Her brother is five years old. How old is Maria's sister ?

Eight

Five

Ten

- 5 Aqsa is wearing a pink dress. She has a purple shoes. Her blue bag is looking beautiful. What is the colour of Aqsa's shoes?

Pink

Purple

Blue

آپ بل کی ادائیگی کتابیں

وصول کر کے پوسٹ مین کو

کریں گے کیش آن ڈیلیوری

کی سہولت ہے

English SLO Correct arrangement of subject verb & object

Identify the correct sentence (SVO)

1	Ali plays football. ✓	plays football Ali.	football Ali plays.
2	to the park Amna walks.	Amna walks to the park.	walks to the park Amna.
3	the tree He climbs.	climbs the tree He.	He climbs the tree.
4	watering the plants We are.	are watering the plants We.	We are watering the plants.
5	playing hockey He is.	is playing hockey He.	He is playing hockey.
6	a letter Rashid writes.	Rashid writes a letter.	writes a letter Rashid.
7	in the water Fish swims.	swims in the water Fish.	Fish swims in the water.
8	milk Cat drinks.	Cat drinks milk.	drinks milk Cat.
9	on the grass Pigeons sit.	sit on the grass Pigeons.	Pigeons sit on the grass.
10	Birds fly in the year.	fly in the year Birds.	in the year Birds fly.
11	to school We go.	go to school We.	We go to school.
12	Meats Dog eats.	eats meats Dog.	Dog eats meats.
13	books She reads.	She reads books.	reads books She.
14	in the air She is jumping.	is jumping in the air She.	She is jumping in the air.
15	a story Ayesha writes.	writes a story Ayesha.	Ayesha writes a story.
16	a book We read.	read a book We.	We read a book.
17	a bag He makes.	He makes a bag.	makes a bag He.
18	woods Woodcutter cuts.	cuts woods Woodcutter.	Woodcutter cuts woods.
19	boat Sailor runs.	runs boat Sailor.	Sailor runs boat.
20	sleeping under a tree Goat is.	is sleeping under a tree Goat.	Goat is sleeping under a tree.

Compare Two Numbers Using Symbols <, > and =

29

خالی جگہ میں کوئی علامت آئے گی؟

خالی جگہ میں کوئی علامت آئے گی؟

1 0

< > =

34 33

< > =

31 48

< > =

299 599

< > =

50 7

< > =

100 100

< > =

41 46

< > =

25 50

< > =

1 1

< > =

50 25

< > =

26 26

< > =

4 3

< > =

67 76

< > =

190 100

< > =

10 10

< > =

11 11

< > =



ایس ایل او: دو ہند کی عدد کی ایک ہند سے ضرب

8

24×2			34×1			14×2		
58	48	26	34	35	45	26	27	28
31×6			42×5			34×2		
186	192	148	220	230	210	66	67	68
45×1			61×6			92×2		
45	46	47	377	366	376	184	186	188
74×5			31×7			41×8		
270	370	372	217	227	228	328	338	348
90×7			70×8			85×2		
630	697	650	560	570	580	170	180	190
49×1			40×9			31×9		
48	49	50	350	360	370	279	289	299

1 علی کے پاس 36 ٹھکے تھے۔ اس نے 9 ٹھکے اپنے دوست کو دے دیئے۔ اب علی کے پاس کتنے ٹھکے ہیں؟

2 مریم کے پاس 35 پائلیٹس تھیں۔ اگر اس نے 7 پائلیٹس لٹا دیتے تو اب مریم کے پاس کتنی پائلیٹس ہوتی؟

40

42

28

45

27

4

3 عادل 40 منٹ کی ایک کتاب پڑھ رہا ہے۔ وہ 8 منٹ پڑھ چکا ہے۔ اب اس کے پڑھنے کے لیے کتنے منٹ ہیں؟

4 ایک نوکری میں 25 آم اور 11 سیب ہیں۔ اس نوکری میں سے 5 آم اور 5 سیب اٹھائیں تو اب نوکری میں پھلوں کی تعداد کتنی رہے جائے گی؟

16

36

26

32

30

28

5 کلیم پانچویں جماعت میں پڑھتا ہے اس کی جماعت میں 15 لڑکے اور 10 لڑکیاں ہیں۔ علی جماعت میں طلباء کی کل تعداد کتنی ہے؟

6 ایک دوکاندار صبح میں 35 سیب اور شام میں 20 سیب بیچتا ہے۔ بتائیے اس نے کل کتنے سیب فروخت کیے؟

15

55

45

5

150

25

7 ایک ڈبے میں 15 سفید رنگ کی گیندیں اور 30 نارنگی رنگ کی گیندیں ہیں۔ اس ڈبے میں موجود گیندوں کی کل تعداد کتنی ہے؟

8 احمد نے پہلے امتحان میں 15 نمبر اور دوسرے امتحان میں 20 نمبر حاصل کیے۔ اس نے دونوں امتحانات میں کل کتنے نمبر حاصل کیے؟

15

5

35

55

45

15

ہم آواز الفاظ کی نشاندہی کر سکتے

"ہم" کا ہم آواز لفظ ہے۔			"محلہ" کا ہم آواز لفظ ہے۔		
کام	علم	قلم	محلہ	لڑائی	سحل
"سب" کا ہم آواز لفظ ہے۔			"کھیت" کا ہم آواز لفظ ہے۔		
تمام	شب	باب	چھت	زمین	ریت
"مگر" کا ہم آواز لفظ ہے۔			"جان" کا ہم آواز لفظ ہے۔		
آشیانہ	مار	شر	مان	جوش	کون
"رنگ" کا ہم آواز لفظ ہے۔			"کھائیں" کا ہم آواز لفظ ہے۔		
سنگ	گہرا	ساگ	سوئیں	لگائیں	کھانا
"کام" کا ہم آواز لفظ ہے۔			"بھانا" کا ہم آواز لفظ ہے۔		
موم	شام	مصروف	خوبصورت	بھانا	رنگ کرتا
"شان" کا ہم آواز لفظ ہے۔			"قوم" کا ہم آواز لفظ ہے۔		
روشن	مان	عزت	قوم	خوشی	دم
"سور" کا ہم آواز لفظ ہے۔			"ساری" کا ہم آواز لفظ ہے۔		
شور	پرندہ	لہاز	سب	آری	مولی
"مائی" کا ہم آواز لفظ ہے۔			"سال" کا ہم آواز لفظ ہے۔		
مولی	سورخ	مائی	کھل	برس	مال
"ہدش" کا ہم آواز لفظ ہے۔			"پات" کا ہم آواز لفظ ہے۔		
مخوش	برسات	خارش	رات	دھت	کلام

Mathematics SLO

دو ہندسے کی ایک ہندسے تک تقسیم

1 $50 \div 5 =$

10 12 9

2 $45 \div 5 =$

8 9 7

3 $5 \div 5 =$

5 1 10

4 $40 \div 4 =$

10 4 40

5 $36 \div 4 =$

36 9 4

6 $32 \div 4 =$

30 22 8

7 $28 \div 4 =$

9 7 8

8 $24 \div 4 =$

6 24 4

9 $30 \div 3 =$

30 3 10

10 $27 \div 3 =$

18 9 27

11 $24 \div 3 =$

8 18 24

12 $21 \div 3 =$

5 7 9

13 $20 \div 2 =$

10 9 8

14 $18 \div 2 =$

7 8 9

15 $16 \div 2 =$

6 8 10

Identify describing words as adjectives.
Use adjectives of quantity, quality, size and colour.

14

Identify the adjective.

It is a big animal.

A

Big

Animal

Identify the adjective.

I have a beautiful toy.

Have

Toy

Beautiful

Identify the adjective.

Giraffe is a tall animal.

Giraffe

Tall

Animal

Identify the adjective.

He is ten year old.

Ten

Old

He

Identify the adjective.

My dress is bright.

Dress

Is

Bright

Identify the adjective.

The park is green.

Green

Is

Park

Identify the adjective.

Quran is famous book.

Quran

Famous

Book

Identify the adjective.

Box is rectangle shape.

Box

Rectangle

Shape

Identify the adjective.

Teacher is great.

Teacher

Is

Great

Identify the adjective.

My classroom is clean.

Classroom

Is

Clean

Identify the adjective.

I have a red bag.

Have

Bag

Red

Identify the adjective.

Ball is round.

Ball

Is

Round

Identify the adjective.

It is a new car.

Car

Is

New

Identify the adjective.

Dog is faithful animal.

Dog

Animal

Faithful

Identify the adjective.

There is little water in glass.

Little

Water

Glass

Identify the adjective.

I have few books.

Have

Books

Few

(I) علی اپنے ماموں کی شادی پر لاہور جائے گا۔ علی کے ابو کا پر جائیں گے۔ علی ہوائی جہاز سے جائے گا۔

جہاز میں سفر کون کرے گا؟

علی کے ابو

علی کے ماموں

علی

(II) ایک چرواہا جنگل میں بکریاں چرا رہا تھا۔ ایک شیر آیا۔ شیر اس کی بکری کھا گیا۔

بکری کون کھا گیا؟

شیر

جنگل

چرواہا

(III) امر کے قارم پر 5 بھینسیں اور 6 گائیں ہیں۔ امر دودھ فروخت کرتا ہے۔

امر کیا فروخت کرتا ہے؟

دودھ

بھینس

گائے

(IV) کام کے گھر کو رنگ کیا گیا۔ دروازوں پر بزرگ اور کھڑکیوں پر گلابی رنگ کیا گیا۔

کھڑکیوں پر کونسا رنگ کیا گیا؟

رنگ

گلابی

بزرگ

(V) ابو نے بچوں کو عیدی دی۔ مکان کو 100 روپے ملے۔ باس کو بھی 100 روپے ملے۔

عیدی کس نے دی؟

ابو

مکان

باس

(VI) سونیا کی دادی کا نام حلیر ہے۔ حلیر کی عمر 90 سال ہے۔ دادی سونیا کو کھانا پکاتی ہے۔

دادی کی عمر کتنی ہے؟

100 سال

90 سال

80 سال

(VII) خالد وقت کی پابندی کرتا ہے۔ وہ صبح 5 بجے اٹھتا ہے اور نماز کے بعد پارک جاتا ہے۔

کون وقت کی پابندی کرتا ہے؟

خالد

پارک

نماز

(VIII) آج گاؤں میں میلہ ہے۔ تمام لڑکوں نے مچے کپڑے پہنے ہیں۔ میلے میں مٹھائی بہت اچھی ہے۔

مچے کپڑے کس نے پہنے ہیں؟

میلے والوں نے

لڑکوں نے

گاؤں

(IX) ندا کی امی استانی ہیں۔ ندا کا بھائی پاسر ڈاکٹر ہے اور ماہر انجینئر ہے۔ ندا ڈاکٹر بننا چاہتی ہے۔

ندا کیا بننا چاہتی ہے؟

استانی

ڈاکٹر

انجینئر

(X) طوطا ایک خوبصورت پرندہ ہے۔ طوطا درخت میں گھر بناتا ہے۔ طوطا بچوں کے ساتھ باہر جاتا ہے۔

درخت میں گھر کون بناتا ہے؟

پرندہ

بچے

طوطا

Action Word	Meaning	Action Word	Meaning
Batting	ہتک کرنا	Running	دوڑنا
Laughing	ہنسنا	Sleeping	سونا
Catching	پکڑنا	Walking	چلنا
Helping	مدد کرنا	Singing	گانا
Opening	کھولنا	Eating	کھانا
Closing	بند کرنا	Drinking	پینا
Pushing	دھکیلنا	Smiling	مسکراتا
Pulling	کھینچنا	brushing	برش کرنا
Fighting	لڑنا	polishing	پالش کرنا
Standing	کھڑا ہونا	Talking	بات کرنا
Walking	چلنا	Smelling	سونگھنا
Throwing	پھینکنا	Listening	سننا
Speaking	بولنا	Shouting	چلانا
Praying	دعا کرنا	Reading	پڑھنا
Learning	یاد کرنا	Washings	دھونا
Writing	لکھنا	Jumping	اچھلنا
Driving	گاڑی چلانا	Greeting	کلمے ملنا
Riding	سواری کرنا	Weeping	رونا
Swimming	خیرنا	Playing	کھیلنا
Seeing	دیکھنا	Sitting	بیٹھنا

2 "ہمت" کا ہم معنی لفظ ہے			1 "عظیم" کا ہم معنی لفظ ہے		
بزدلی	حرکت	جرات	بے حس	بڑا	جاہل
4 "گلشن" کا ہم معنی لفظ ہے			3 "فرصت" کا ہم معنی لفظ ہے		
باغ	صحرا	دریا	سیاست	فراغت	معروفیت
6 "مہلت" کا ہم معنی لفظ ہے			5 "عہد" کا ہم معنی لفظ ہے		
قیمت	وقت	عجلت	علم	عہدہ	وعدہ
8 "قوت" کا ہم معنی لفظ ہے			7 "تھوڑی" کا ہم معنی لفظ ہے		
بزدلی	کمزوری	طاقت	بھرپور	کم	زیادہ
10 "مقیدہ" کا ہم معنی لفظ ہے			9 "عہدہ" کا ہم معنی لفظ ہے		
عہدہ	وعدہ	یقین	تایب	گھٹیا	اعلیٰ
12 "آفتاب" کا ہم معنی لفظ ہے			11 "خُن" کا ہم معنی لفظ ہے		
آسمان	سورج	چاند	فقیر	مالدار	غریب

Identify the place value of numbers up to 6 digit.

نمبر 195 میں 9 کی مقامی قیمت کیا ہوگی؟

90 900 9000

نمبر 3425 میں 4 کی مقامی قیمت کیا ہوگی؟

40 400 4000

نمبر 1024 میں 1 کی مقامی قیمت کیا ہوگی؟

10 100 1000

نمبر 53 میں 5 کی مقامی قیمت کیا ہوگی؟

50 500 5000

نمبر 481 میں 1 کی مقامی قیمت کیا ہوگی؟

1 100 1000

نمبر 1589 میں 8 کی مقامی قیمت کیا ہوگی؟

80 800 8000

نمبر 7561 میں 7 کی مقامی قیمت کیا ہوگی؟

70 700 7000

نمبر 954 میں 4 کی مقامی قیمت کیا ہوگی؟

4 400 4000

نمبر 549 میں 4 کی مقامی قیمت کیا ہوگی؟

40 400 4000

نمبر 12345 میں 5 کی مقامی قیمت کیا ہوگی؟

5 500 5000

نمبر 44531 میں 3 کی مقامی قیمت کیا ہوگی؟

30 300 3000

نمبر 590 میں 5 کی مقامی قیمت کیا ہوگی؟

50 500 5000

نمبر 2453 میں 2 کی مقامی قیمت کیا ہوگی؟

20 200 2000

نمبر 35948 میں 4 کی مقامی قیمت کیا ہوگی؟

40 400 4000

نمبر 1895 میں 1 کی مقامی قیمت کیا ہوگی؟

10 100 1000

نمبر 1675 میں 7 کی مقامی قیمت کیا ہوگی؟

70 700 7000

نمبر 195 میں 1 کی مقامی قیمت کیا ہوگی؟

10 100 1000

نمبر 954 میں 9 کی مقامی قیمت کیا ہوگی؟

90 900 9000

نمبر 453 میں 5 کی مقامی قیمت کیا ہوگی؟

50 500 5000

نمبر 54321 میں 2 کی مقامی قیمت کیا ہوگی؟

20 200 2000

2- گری + سی			1- جی + ز		
گوریسی	گوری	گری	جھیر	جز	جز
4- رع + مال			3- ے + دان		
عالم	امراع	امعال	مدان	دامدان	میدان
6- شا + ہاش			5- یک + کہ		
شاہاش	ہاشاش	شاشاب	کیک	یلکہ	یکہ
8- گی + لا			7- نے + ک		
گیلا	گالا	یگا	نیک	کین	نیک
10- کم + رے			9- قص + ور		
کمر	کام	کمرے	تصویر	تصور	تسور
12- چھت + ری			11- کم + مل		
چھتری	چھت	تھری	کالم	کمل	بکم
14- تق + رب			13- پی + جھے		
تقریب	تھرب	تقرب	پچھے	پاچھ	چھاپے
16- کہ + تا			15- پ + سند		
کہنا	کہنا	کاتا	سندپ	پند	پسند

براه راست آرڈر بک

کرائیں یا فری بک

سنٹر سے رابطہ کریں

(i) مٹی کے پاس ایک مٹی اور دو چیزے ہیں۔ مٹی کا نام کوکو ہے۔ سفید چیزے کا نام بٹا اور کالے چیزے کا نام گٹو ہے۔

سفید چیزے کا کیا نام ہے؟

بٹا

کوکو

گٹو

(ii) فیضان کو آم بہت پسند ہیں۔ اس نے بازار سے آم خریدے۔ امی نے جس بنا کر دیا۔

فیضان نے آم کہاں سے خریدے؟

بازار

سکول

گھر

(iii) ربیعہ کے سکول میں 10 کمرے ہیں۔ ایک کھیل کا میدان ہے اور بہت سے درخت ہیں۔

ربیعہ کے سکول میں کتنے کمرے ہیں؟

دس

پانچ

ایک

(iv) عباس کو بریانی پسند ہے۔ اس نے ہوٹل سے بریانی خریدی۔ گھر میں ایفروٹ لے آئے۔

گھر میں فروٹ کون لے آیا؟

امی

ابو

عباس

(v) کامران کے ابو کے پاس سفید رنگ کی کار ہے۔ کار بہت خوبصورت ہے۔ کامران کو کار پسند ہے۔

کار کا کیا رنگ ہے؟

سفید

کالا

خوبصورت

(vi) سلیم اپنے دوست کے ساتھ پارک میں گیا۔ سلیم جھولے کی میر کرے گا جبکہ اس کا دوست ٹرین میں میر کرے گا۔

سلیم کا دوست کہاں میر کرے گا؟

کشتی میں

جھولے میں

ٹرین میں

(vii) ایک شکاری ہرن کے پیچھے بھاگا۔ ہرن دوڑ کر ایک غار میں چھپ گیا۔ شکاری واپس چلا گیا۔

کون غار میں چھپ گیا؟

شیر

شکاری

ہرن

(viii) ارم اپنے ماموں کے ساتھ چڑیا گھر گئی۔ وہاں اس نے خوبصورت پرندے دیکھے۔ ارم کو مور پسند آیا۔

ارم کو کونسا پرندہ پسند آیا؟

چڑیا

مور

کیڑ

(ix) قاطر دو مگلاں میں چڑھتی ہے۔ قاطر کو گھمیں پسند ہیں۔ جبکہ اسکی دوست نادیہ کو کہانیاں پسند ہیں۔

کہانیاں کسے پسند ہیں؟

دونوں کو

نادیہ کو

قاطر کو

(x) گل خان کا گھر وادی میں ہے۔ گل خان کے گھر کے پاس تمبن عیاباں ہیں۔ گل خان نے عدی میں مچھلی دیکھی۔

گل خان کے گھر کے پاس کتنی عیاباں ہیں؟

3

2

1

گاڑ	اڑی	گاڑی	گ۔ا۔ڑ۔ی
حادث	حادثہ	حادہ	ح۔ا۔و۔ث۔ہ
ٹرائی	لڑائی	ٹریفک	ٹ۔ر۔ے۔ف۔ک
عمی	امی	ام	ا۔م۔م۔ی
معمول	عامل	عمل	م۔ع۔م۔و۔ل
مبہت	محبت	مہتاب	م۔ح۔ب۔ت
اصیل	اصول	اصل	ا۔ص۔و۔ل
پایل	پاگل	پیدل	پ۔ے۔و۔ل
میز	میرا	ماز	م۔ی۔ز
قوانین	قانونی	قانون	ق۔و۔ا۔ن۔ی۔ن
پیام	بیگم	پیغام	پ۔ے۔غ۔ا۔م
زمین	زمانہ	زمان	ز۔م۔ی۔ن

درست جواب کا انتخاب کریں

80 کو 2 پر تقسیم کرنے سے کیا حاصل ہوگا؟			35 کو 7 پر تقسیم کرنے سے کیا حاصل ہوگا؟		
20	30	40	5	7	6
18 کو 6 پر تقسیم کرنے سے کیا حاصل ہوگا؟			45 کو 5 پر تقسیم کرنے سے کیا حاصل ہوگا؟		
6	3	2	9	5	8
40 میں سے 25 نفی کرنے پر کیا بچے گا؟			35 میں سے 15 نفی کرنے پر کیا بچے گا؟		
16	15	17	20	17	15
19 میں سے 3 نفی کرنے پر کیا بچے گا؟			9 میں سے 3 نفی کرنے پر کیا بچے گا؟		
14	16	17	6	5	2
5 کو 4 سے ضرب دینے سے کیا حاصل ہوگا؟			3 کو 6 سے ضرب دینے سے کیا حاصل ہوگا؟		
20	25	30	18	12	24
8 کو 6 سے ضرب دینے سے کیا حاصل ہوگا؟			9 کو 5 سے ضرب دینے سے کیا حاصل ہوگا؟		
40	48	54	40	45	50
20 میں 15 جمع کرنے پر کیا جواب آئےگا؟			40 میں 18 جمع کرنے پر کیا جواب آئےگا؟		
35	20	10	57	58	59
14 میں 15 جمع کرنے پر کیا جواب آئےگا؟			2 میں 12 جمع کرنے پر کیا جواب آئےگا؟		
19	29	39	23	33	43

Math

دی گنی مساواتیں مکمل کریں

$2 + \square = 4$			$5 + \square = 10$			$6 + \square = 9$		
2	1	4	4	5	6	2	3	4
$8 - \square = 4$			$10 - \square = 4$			$9 - \square = 2$		
3	5	4	7	6	5	7	8	9
$5 \times \square = 25$			$12 \times \square = 36$			$7 \times \square = 49$		
4	5	6	3	4	5	6	7	8
$2 + \square = 8$			$3 + \square = 7$			$2 + \square = 5$		
4	5	6	4	3	2	1	3	4
$7 - \square = 2$			$8 - \square = 2$			$5 - \square = 1$		
3	5	4	5	6	7	4	6	5
$5 \times \square = 15$			$8 \times \square = 40$			$6 \times \square = 36$		
4	3	5	6	7	5	6	7	8

$\frac{1}{2}$ کا متبادل کسر ہوگا

$\frac{4}{12}$ $\frac{2}{3}$ $\frac{4}{8}$

$\frac{1}{3}$ کا متبادل کسر ہوگا

$\frac{3}{9}$ $\frac{6}{10}$ $\frac{7}{20}$

$\frac{2}{4}$ کا متبادل کسر ہوگا

$\frac{25}{40}$ $\frac{20}{30}$ $\frac{8}{16}$

$\frac{1}{5}$ کا متبادل کسر ہوگا

$\frac{5}{25}$ $\frac{8}{40}$ $\frac{6}{20}$

$\frac{3}{7}$ کا متبادل کسر ہوگا

$\frac{6}{24}$ $\frac{6}{18}$ $\frac{6}{14}$

$\frac{3}{10}$ کا متبادل کسر ہوگا

$\frac{16}{28}$ $\frac{21}{70}$ $\frac{14}{20}$

$\frac{4}{8}$ کا متبادل کسر ہوگا

$\frac{6}{18}$ $\frac{8}{16}$ $\frac{9}{10}$

$\frac{2}{2}$ کا متبادل کسر ہوگا

$\frac{1}{4}$ $\frac{4}{4}$ $\frac{3}{5}$

$\frac{2}{3}$ کا متبادل کسر ہوگا

$\frac{8}{10}$ $\frac{5}{6}$ $\frac{4}{6}$

$\frac{3}{4}$ کا متبادل کسر ہوگا

$\frac{28}{30}$ $\frac{12}{16}$ $\frac{16}{28}$

$\frac{3}{5}$ کا متبادل کسر ہوگا

$\frac{11}{15}$ $\frac{6}{10}$ $\frac{7}{10}$

$\frac{1}{6}$ کا متبادل کسر ہوگا

$\frac{6}{18}$ $\frac{6}{24}$ $\frac{6}{36}$

$\frac{4}{12}$ کا متبادل کسر ہوگا

$\frac{16}{64}$ $\frac{8}{24}$ $\frac{8}{32}$

$\frac{5}{6}$ کا متبادل کسر ہوگا

$\frac{40}{48}$ $\frac{6}{8}$ $\frac{20}{30}$

$\frac{1}{4}$ کا متبادل کسر ہوگا

$\frac{4}{16}$ $\frac{8}{16}$ $\frac{16}{18}$

$\frac{4}{5}$ کا متبادل کسر ہوگا

$\frac{20}{30}$ $\frac{16}{20}$ $\frac{18}{24}$

$\frac{4}{6}$ کا متبادل کسر ہوگا

$\frac{21}{40}$ $\frac{8}{12}$ $\frac{12}{14}$

$\frac{3}{6}$ کا متبادل کسر ہوگا

$\frac{20}{40}$ $\frac{6}{12}$ $\frac{8}{20}$

$\frac{2}{7}$ کا متبادل کسر ہوگا

$\frac{40}{80}$ $\frac{4}{14}$ $\frac{30}{60}$

$\frac{6}{9}$ کا متبادل کسر ہوگا

$\frac{16}{32}$ $\frac{36}{54}$ $\frac{64}{128}$

$\frac{2}{5}$ کا متبادل کسر ہوگا

$\frac{4}{10}$ $\frac{4}{5}$ $\frac{2}{10}$

1. What.....you doing?	is	am	are
2. I.....good.	is	am	are
3. I.....happy	is	am	are
4. I.....sad.	is	am	are
5. How.....you?	is	am	are
6. How.....she?	is	am	are
7. What.....you eating.	is	am	are
8. You.....four years old.	is	am	are
9. I.....doctor.	is	am	are
10. He.....in pakistan.	is	am	are
11. They.....on holiday.	is	am	are
12. We.....in pakistan	is	am	are
13. Sana.....in class two.	is	am	are
14. Zain.....a teacher.	is	am	are
15. Ahmed and Ali.....friends.	is	am	are
16. Ahmed.....in class three.	is	am	are
17. You.....a good boy.	is	am	are
18. We.....having fun.	is	am	are
19. He.....stupid.	is	am	are
20. He.....brilliant.	is	am	are
21. Nadia.....my friend	is	am	are
22. Hamza.....working.	is	am	are
23. I.....going.	is	am	are
24. You.....working.	is	am	are
25. They.....going out.	is	am	are
26. She.....having fun.	is	am	are
27. We.....drinking.	is	am	are
28. He.....a lawyer.	is	am	are

Recognize and name unit fraction up to 1/12

The fraction used to represent the shaded part is



- $1/6$
- $3/6$
- $8/8$

The fraction used to represent the shaded part is



- $7/9$
- $2/4$
- $2/6$

The fraction used to represent the shaded part is



- $2/3$
- $2/9$
- $1/3$

The fraction used to represent the shaded part is



- $2/7$
- $7/8$
- $3/8$

The fraction used to represent the shaded part is



- $2/4$
- $1/6$
- $3/4$

The fraction used to represent the shaded part is



- $10/12$
- $11/12$
- $3/6$

The fraction used to represent the shaded part is



- $2/5$
- $7/8$
- $8/7$

The fraction used to represent the shaded part is



- $7/12$
- $3/12$
- $2/12$

The fraction used to represent the shaded part is



- $2/7$
- $8/10$
- $8/2$

The fraction used to represent the shaded part is



- $12/1$
- $1/12$
- $8/12$

I am a teacher.			He will go to zoo.		
Present	Past	Future	Present	Past	Future
They played hockey.			They win match.		
Present	Past	Future	Present	Past	Future
He was a champion.			She works in hospital.		
Present	Past	Future	Present	Past	Future
There is a ball in room.			I will write my name.		
Present	Past	Future	Present	Past	Future
I saw a lion.			She will cook rice.		
Present	Past	Future	Present	Past	Future
Cat ate rat.			He will be coming.		
Present	Past	Future	Present	Past	Future

فعل ماضی	فعل حال
احمد نے کھانا کھایا	احمد کھانا کھاتا ہے
میں نے کہانی لکھی	میں کہانی لکھتا ہوں
سارہ نے پھل خریدے	سارہ پھل خریدتی ہے
استاد صاحب نے ریاضی پڑھائی	استاد صاحب ریاضی پڑھاتے ہیں
میں نے تصویر بنائی	میں تصویر بناتا ہوں
پرندہ اڑا	پرندہ اڑتا ہے
ہم نے ساگرہ منائی	ہم ساگرہ مناتے ہیں
میں نے آم توڑا	میں آم توڑتا ہوں
مائی نے پودا لگایا	مائی پودا لگاتا ہے
حامد نے کار چلائی	حامد کار چلاتا ہے
امی نے چاول پکائے	امی چاول پکاتی ہے
بچوں نے نماز پڑھی	بچے نماز پڑھتے ہیں
بارش ہوئی تھی	بارش ہو رہی ہے
میں سو یا تھا	میں سو رہا ہوں

Best

selling

book

Thanks for viewing
pages. Regards